

بنك أسئلة الفيزياء

الصف العاشر (10)

الفصل الدراسي الأول

العام الدراسي : 2023 / 2024 م

أ/ يوسف بدر عزمي

الوحدة الأولى : الحركة

الفصل الأول : الحركة في خط مستقيم

الدرس (1 - 1) : مفهوم الحركة والكميات الفيزيائية اللازمة لوصفها**السؤال الأول : أكتب بين القوسين الاسم أو المصطلح العلمي المناسب أمام كل من العبارات التالية :**

- 1- مقارنة مقدار معين بمقدار آخر من نوعه أو كمية بكمية أخرى من نوعها ()
- 2- تغير موضع الجسم بمرور الزمن بالنسبة إلى موضع جسم آخر ساكن ()
- 3- حركة الجسم من نقطة البداية إلى نقطة النهاية مثل حركة المقذوفات ()
- 4- حركة تكرر نفسها خلال فترات زمنية متساوية مثل الحركة الاهتزازية ()
- 5- طول المسار المقطوع أثناء الحركة من موضع إلى آخر ()
- 6- المسافة المقطوعة خلال وحدة الزمن ()
- 7- كمية فيزيائية يلزم لتحديد معرفتها مقدارها فقط ()
- 8- كمية فيزيائية يلزم لتحديد معرفتها مقدارها واتجاهها ()
- 9- المسافة في خط مستقيم في اتجاه معين ()
- 10- أقصر خط مستقيم من نقطة بداية الحركة إلى نقطة النهاية ()
- 11- السرعة العديدة في اتجاه محدد ()
- 12- كمية فيزيائية تعبر عن تغير متجه السرعة خلال وحدة الزمن ()
- 13- العجلة التي يتزايد فيها مقدار متجه السرعة بمقدار ثابت كل ثانية ()
- 14- العجلة التي يتناقص فيها مقدار متجه السرعة بمقدار ثابت كل ثانية ()

السؤال الثاني : أكمل العبارات التالية بما تراه مناسباً علمياً :

- 1- الأدوات المستخدمة في قياس الطول هي
- 2- الأدوات المستخدمة في قياس الكتلة هي
- 3- الأدوات المستخدمة في قياس الزمن هي
- 4- الوحدة المستخدمة في قياس الأطوال تبعاً للنظام الدولي للوحدات هي
- 5- الوحدة المستخدمة في قياس الكتل تبعاً للنظام الدولي للوحدات هي
- 6- الوحدة المستخدمة في قياس الزمن تبعاً للنظام الدولي للوحدات هي
- 7- معادلة الأبعاد تعتمد أساساً على كل من أبعاد
- 8- تقدر السرعة بوحدة ومعادلة أبعادها
- 9- تقدر العجلة بوحدة ومعادلة أبعادها

- 10- تقدر المساحة بوحدة ومعادلة أبعادها
- 11- يقدر الحجم بوحدة ومعادلة أبعاده
- 12- تستخدم المسطرة المترية في قياس
- 13- يستخدم الميكروميتر أو القدمة ذات الورنية في قياس الأطوال
- 14- تستخدم ساعة الإيقاف الكهربائية في قياس
- 15- يستخدم الومض الضوئي في قياس
- 16- تعتبر حركة البندول البسيط حركة
- 17- تعتبر الحركة في خط مستقيم أو حركة المقذوفات حركة
- 18- تحسب السرعة المتوسطة من العلاقة
- 19- سيارة تتحرك بسرعة منتظمة (54 km/h) فإن سرعتها بوحدة (m/s) تساوي
- 20- قطار يتحرك بسرعة منتظمة مقدارها (20 m/s) تكون سرعته بوحدة (km/h) تساوي

السؤال الثالث : أختَر أنسب إجابة صحيحة وضع أمامها علامة (√) :

1- يقدر الطول بوحدة المتر والذي يساوي بوحدة الكيلو متر :

1000

100

10

0.001

2- تقدر الكتلة في النظام الدولي بوحدة :

الملي جرام

الكيلوجرام

الجرام

المتر

3- يقدر الزمن في النظام الدولي بوحدة :

اليوم

الساعة

الدقيقة

الثانية

4- أحد الأجسام التالية يتحرك حركة انتقالية وهو :

بندول بسيط مهتز

مروحة تدور حول محور ثابت

جسم يتحرك في خط مستقيم

نابض مرن مهتز

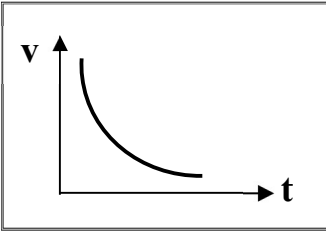
5- سيارة تتحرك بسرعة (90 Km/h) فإن سرعتها بوحدة (m/s) تساوي:

20 25 10 30

6- قطع عداء مسافة (600 m) خلال دقيقتين فإن سرعته المتوسطة بوحدة (m/s) تساوي :

3 2 4 5

7- المنحنى البياني يمثل العلاقة بين السرعة (V) والزمن (t) لسيارة تتحرك بعجلة:

سالبة موجبة سالبة ثم موجبة موجبة ثم سالبة

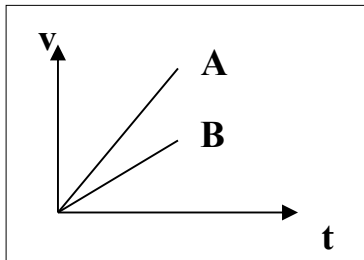
8- يتساوى مقدار السرعة العديدية مع مقدار السرعة المتجهة عندما تكون :

الحركة في مسار دائري مغلق الحركة في مسار منحنى الحركة في خط مستقيم وفي اتجاه ثابت السرعة المتجهة متغيرة المقدار والاتجاه

9- تكون الحركة بعجلة منتظمة إذا :

تغيرت المسافة بمعدل ثابت تغيرت السرعة بمعدل ثابت كانت السرعة النهائية تساوي السرعة الابتدائية كانت السرعة منتظمة

10- الخطان (A , B) يمثلان علاقة (السرعة - الزمن) لسيارتي سباق فإن العجلة التي تتحرك بها السيارة (A) :

أكبر من عجلة السيارة (B) تساوى العجلة التي تتحرك بها السيارة (B) أقل من عجلة السيارة (B) نصف عجلة السيارة (B)

11- إذا كان ميل المنحنى البياني (السرعة - الزمن) بالنسبة لمحور الزمن يساوي صفر فإن الجسم يكون :

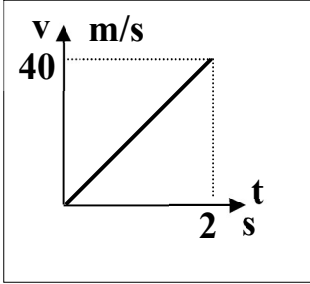
متحركاً بعجلة تباطؤ منتظمة متحركاً بعجلة تسارع منتظمة ساكناً متحركاً بسرعة منتظمة

12- إذا كان ميل المنحنى البياني (المسافة - الزمن) بالنسبة لمحور الزمن يساوي صفر فإن الجسم يكون :

- متحركاً بعجلة تسارع منتظمة متحركاً بعجلة تباطؤ منتظمة
 متحركاً بسرعة منتظمة ساكناً

13- المنحنى البياني يمثل منحنى (السرعة - الزمن) لسيارة متحركة، فإن قيمة العجلة التي تتحرك بها السيارة :

- 80 60 40 20



السؤال الرابع : ضع علامة (\checkmark) أمام العبارة الصحيحة وعلامة (X) أمام العبارة غير الصحيحة :

- 1- يمكن استخدام ساعة الإيقاف اليدوية لقياس زمن السقوط الحر لجسم ()
 2- القياس هو عملية عدّ عدد مرات تكرار وحدة قياس معينة ()
 3- ساعة الإيقاف الكهربائية أكثر دقة من ساعة الإيقاف اليدوية ()
 4- يمكن اشتقاق وحدات أساسية جديدة من وحدات أساسية أخرى ()
 5- المتر هو الوحدة الدولية للأطوال الكبيرة وللأطوال الصغيرة ()
 6- يعتبر الحجم من الكميات الأساسية ()
 7- لكي نضيف أو نطرح كميتين فيزيائيتين يجب ان يكون لهما الابعاد نفسه ()
 8- حقيبة أمتعة كتلتها Kg (25) فتكون كتلتها بوحدة (g) تساوي 25000 ()
 9- الإزاحة لا تعتمد على المسار الذي يسلكه الجسم ()
 10- الجسم المتحرك بسرعة ثابتة في خط مستقيم يقطع مسافات غير متساوية في أزمنة متساوية ()
 11- يتحرك الجسم بسرعة منتظمة عندما يقطع مسافات متساوية خلال فترات زمنية متساوية ()
 12- تتساوى السرعة العددية مع مقدار السرعة المتجهة عندما تكون حركة الجسم في خط مستقيم واتجاه واحد ()

السؤال الخامس : علل لما يأتي :

1- تعتبر المسافة كمية عددية بينما الإزاحة كمية متجهة.

2- يتحرك جسمك في اتجاه معاكس لاتجاه انحناء الطريق عندما تكون داخل سيارة تسير بسرعة ثابتة.

3- تعتبر العجلة كمية مشتقة.

4- تعتبر السرعة المتجهة كمية متجهة.

5- حركة المقذوفات حركة انتقالية.

6- تصبح تسارع الجسم صفرا عندما يتحرك الجسم بسرعة منتظمة.

7- قد تتساوي السرعة المتوسطة أحيانا مع السرعة اللحظية.

السؤال السادس : قارن بين كل مما يلي :

الكميات المتجهة	الكميات العددية	وجه المقارنة
		التعريف
		مثال
الإزاحة	المسافة	وجه المقارنة
		التعريف
		نوع الكمية

السؤال السابع : حل المسائل التالية :

1- قطع لاعب على دراجته الهوائية مسافة 54 km في مدة زمنية مقدارها ساعتين. احسب السرعة للدراجة :

.....

.....

2- قطع جسم متحرك مسافة (3000 m) خلال (5) دقائق احسب سرعته المتوسطة :

.....

.....

3- سيارة تسير بسرعة ثابتة وقطعت مسافة (6 km) خلال (10) دقائق .

احسب المسافة التي تقطعها السيارة إذا تحركت بنفس السرعة لمدة نصف ساعة :

.....

.....

4- احسب عجلة سيارة بدأت حركتها من السكون وبعد $s(15)$ أصبحت سرعتها 90 km/h :

.....

.....

5- خلال فترة زمنية مدتها خمس ثواني يتغير مقدار سرعة سيارة تتحرك في خط مستقيم من 54 km/h

إلى 72 km/h وفي نفس الفترة الزمنية نفسها تتحرك عربة نقل في خط مستقيم من السكون الى ان

تصل إلى سرعة مقدارها 18 km/h . احسب :

أ) العجلة التي تتحرك بها السيارة :

.....

.....

ب) العجلة التي تتحرك بها عربة النقل :

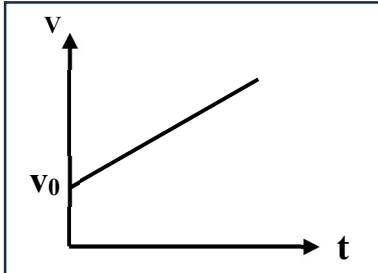
.....

.....

الدرس (1- 2) : معادلات الحركة المعجلة بانتظام في خط مستقيم

السؤال الأول : أكتب بين القوسين الاسم أو المصطلح العلمي المناسب أمام كل من العبارات التالية :

- 1- الحركة التي يتغير فيها مقدار السرعة واتجاهها ()
- 2- الحركة التي يتغير فيها مقدار السرعة دون اتجاهها ()



السؤال الثاني : أكمل العبارات التالية بما تراه مناسباً علمياً :

1- إذا بدأ الجسم حركته من السكون فإن $v = \dots\dots\dots$

2- في الشكل المقابل : ميل الخط المستقيم يساوي $\dots\dots\dots$

3- إذا كانت العجلة التي يتحرك بها الجسم تساوي صفر فإن $v = \dots\dots\dots$

4- يمكن حساب زمن التوقف من العلاقة $t = \dots\dots\dots$

5- عندما يبدأ الجسم حركته من السكون فإن $d = \dots\dots\dots$

6- في الشكل المقابل : ميل الخط المستقيم يساوي $\dots\dots\dots$

7- إذا كان مقدار العجلة يساوي صفر ($a = 0$) فإن $d = \dots\dots\dots$

8- عندما تتناقص سرعة الجسم فإن العجلة تصبح $\dots\dots\dots$ وعندما يتوقف الجسم تصبح سرعته النهائية $\dots\dots\dots$

السؤال الثالث : أختَر أنسب إجابة صحيحة وضع أمامها علامة (✓) :

1- تتحرك سيارة بسرعة 20 m/s ضغط قائدها على الفرامل حتى توقفت فإذا كان قيمة عجلة التباطؤ 5 m/s^2

فإن مقدار المسافة التي توقفت خلالها السيارة بوحدة (m) تساوي :

40

80

400

100

2- تتحرك سيارة بسرعة 10 m/s ضغط قائدها على الفرامل لإيقاف السيارة بعجلة تباطؤ مقدارها 5 m/s^2

فإن الزمن اللازم لإيقاف السيارة بوحدة الثانية يساوي :

2

0.5

- 2

- 0.5

السؤال الرابع : ضع علامة (√) أمام العبارة الصحيحة وعلامة (x) أمام العبارة غير الصحيحة :

- 1- إذا تحرك جسم من السكون بعجلة منتظمة فإن المسافة التي يقطعها تتناسب طردياً مع الزمن المستغرق ()
- 2- إذا تحرك جسم من السكون بعجلة منتظمة فإن المسافة التي يقطعها تتناسب طردياً مع مربع الزمن المستغرق ()
- 3- إذا تحرك جسم من السكون بعجلة منتظمة فإن سرعته النهائية تتناسب طردياً مع الزمن المستغرق ()
- 4- إذا تحرك جسم من السكون بعجلة منتظمة فإن مربع سرعته النهائية يتناسب طردياً مع المسافة التي يقطعها ()

السؤال الخامس : حل المسائل الآتية :

1- تغيرت سرعة قطار من 144 km/h إلى 36 km/h بانتظام خلال $s (6)$. احسب :

أ (العجلة التي يتحرك بها هذا القطار :

.....

.....

.....

.....

ب) بعد كم ثانية يتوقف هذا القطار إذا أستمروا في الحركة بنفس العجلة :

.....

.....

2- سيارة تتحرك بسرعة 54 km/h ضغط قائدها على دواسة الفرامل بحيث تناقصت سرعة السيارة بمعدل ثابت

حتى توقفت بعد مرور $S (5)$. احسب :

أ (عجلة السيارة أثناء تناقص السرعة :

.....

.....

.....

ب) إزاحة السيارة حتى توقفت حركتها :

.....

.....

3- قطار يتحرك بسرعة $m/s (160)$ بعجلة منتظمة سالبة $m/s^2 (8)$, احسب :

أ (الزمن اللازم لتوقف القطار عند استخدام الفرامل :

.....

ب) إزاحة القطار حتى يتوقف :

.....

4- سيارة تتحرك متسارعة بانتظام من السكون في خط مستقيم فأصبحت سرعتها $m/s (30)$ بعد مرور دقيقة

واحدة على بدء الحركة . احسب :

أ (عجلة التسارع للسيارة :

.....

ب) المسافة التي قطعها السيارة خلال هذه الفترة الزمنية :

.....

5- يتحرك جسم في خط مستقيم طبقا للعلاقة $d = 12 t + 8 t^2$ احسب :

أ (السرعة الابتدائية للجسم :

.....

ب) العجلة التي يتحرك بها الجسم وما نوعها :

.....

ج) المسافة التي يقطعها الجسم خلال (4) ثواني :

.....

6- قناص أطلق رصاصة تتحرك بسرعة $m/s (30)$ فأصابت الهدف وغاصت مسافة $m (45)$ داخل الهدف

حتى سكنت . احسب :

أ (العجلة التي تتحرك بها الرصاصة أثناء تحركها داخل الهدف :

.....

ب) الزمن الذي تستغرقه الرصاصة حتى تتوقف :

.....

الدرس (1 - 3) : السقوط الحر

السؤال الأول : أكتب بين القوسين الاسم أو المصطلح العلمي المناسب أمام كل من العبارات التالية :

- 1- حركة جسم من دون سرعة ابتدائية بتأثير ثقله فقط مع إهمال تأثير مقاومة الهواء ()
 2- العجلة التي تسقط بها الأجسام سقوطاً حراً مع إهمال مقاومة الهواء ()

السؤال الثاني : أكمل العبارات التالية بما تراه مناسباً علمياً :

- 1- عندما يسقط جسم سقوطاً حراً فإنه يتحرك بعجلة تسمى وتساوي
- 2- عندما يسقط حجر نحو الأرض فإنه بعد مرور زمن (4) s من لحظة السقوط تصبح سرعته بوحدة m/s
- 3- عند قذف جسم لأعلى تبدأ سرعته تتناقص حتى تصل إلى الصفر عند
- 4- عندما يطلق جسم رأسياً لأعلى فإن زمن الصعود زمن السقوط ويحسب بالعلاقة
- 5- عندما يقذف جسم لأعلى فإنه يتحرك بعجلة تباطؤ سالبة مقدارها حتى يصل لأقصى ارتفاع
- 6- قذف جسم رأسياً لأعلى بسرعة m/s (20) فإن أقصى ارتفاع بوحدة (m) يصل إليه
- 7- قذف جسم رأسياً لأعلى بسرعة ابتدائية m/s (25) فيكون زمن الصعود لأقصى ارتفاع بوحدة الثانية يساوي

السؤال الثالث : أختَر أنسب إجابة صحيحة وضع أمامها علامة (√) :

1- سقط جسم سقوطاً حراً من ارتفاع ما، فبعد مرور s (3) من لحظة سقوطه تكون سرعته مساوية :

40 30 3.3 0.3

2- ترك جسمان ليسقطا سقوطاً حراً في نفس اللحظة ومن نفس الارتفاع عن سطح الأرض فإذا كانت كتلة الجسم

الأول مثلي كتلة الجسم الثاني فإنه بإهمال مقاومة الهواء :

الزمن الذي يستغرقه الأول مثلي الزمن الذي يستغرقه الثاني

يصلان إلى الأرض بنفس السرعة

عجلة الأول نصف عجلة الثاني

عجلة الأول مثلي عجلة الثاني

3- سقط جسم من فوق سطح بناية ترتفع عن سطح الأرض m (20) فإنه يصل إلى الأرض بعد زمن بوحدة الثانية :

8 6 4 2

4- جسمان كتلة الأول (m) وكتلة الثاني $(2m)$ سقطا من نفس الارتفاع نحو سطح الأرض سقوطاً حراً وبإهمال مقاومة الهواء فإن كانت سرعة الأول لحظة اصطدامه بالأرض (v) فإن سرعة الجسم الثاني لحظة اصطدامه بالأرض

 $\frac{1}{2}v$ $3v$ $2v$ v

5- في إحدى مباريات كرة السلة كانت أقصى قفزة إلى أعلى قد سجلها أحد اللاعبين m (1.8) وبذلك يكون

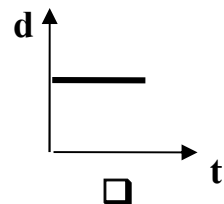
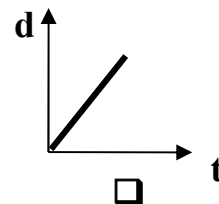
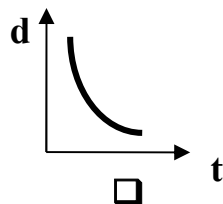
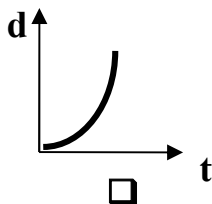
زمن الصعود لأقصى ارتفاع بوحدة (S) :

3 1.2 0.6 0.3

6- سقطت تفاحة فارتطمت بالأرض بعد مرور ثانية واحدة من لحظه سقوطها فإن ارتفاع الشجرة بالمتر يساوي :

25 20 15 5

7- أفضل تمثيل بياني يوضح العلاقة بين المسافات التي يقطعها الجسم أثناء السقوط الحر بالنسبة إلى الزمن هو :



السؤال الرابع : ضع علامة (√) أمام العبارة الصحيحة وعلامة (x) أمام العبارة غير الصحيحة :

1- جسمان كتلة الأول نصف كتلة الثاني سقطا سقوطا حرا من نفس الارتفاع فإنه بإهمال قوة مقاومة الهواء

() فإن الجسمان يصلان إلى سطح الأرض في نفس اللحظة


2- تتحرك الأجسام الساقطة نحو سطح الأرض سقوطاً حراً بسرعة ثابتة

3- قذف حجر إلى أعلى بسرعة ابتدائية $m/s (30)$ في مجال الجاذبية الأرضية، وعند عودته إلى نقطة

() القذف تصبح سرعته $m/s (60)$

السؤال الخامس : اشرح مع التفسير ما يحدث في كل من الحالات التالية :

1- إذا تركت عدة أجسام مختلفة الكتلة متماثلة الشكل لتسقط سقوطا حرا من نفس الارتفاع .

**السؤال السادس : ادرس النشاط التالي جيدا ثم أجب على الأسئلة التالية :**

عند وضع العملة المعدنية وريشة أحد الطيور في أنبوب زجاجي كما هو موضح بالرسم المقابل :

1- ألقب الأنبوب وما في داخله مع (وجود الهواء في داخل الأنبوب) . ماذا تلاحظ :

2- عند تفريغ الأنبوب من الهواء الموجود في داخله ثم ألقبه بسرعة بمحتوياته . ماذا تلاحظ :

3- ماذا تستنتج :

السؤال السابع : علل لما يأتي :

1- عند سقوط الجسم سقوطا حرا فان سرعته تزداد

2- عند قذف الجسم لأعلى فإنه يتحرك بسرعة متناقصة

3- تصل جميع الأجسام إلى سطح الأرض في وقت واحد مهما اختلفت كتلتها وذلك من الارتفاع نفسه عند إهمال الهواء

السؤال الثامن : حل المسائل الآتية : (أعتبر أن $g = 10 \text{ m/s}^2$)

1- يسقط جسم من ارتفاع m (80) سقوطاً حراً . احسب :

أ (سرعة الجسم بعد مرور زمن s (3) من لحظة بدء السقوط :

ب) زمن السقوط :

ج) سرعة الجسم لحظة وصوله إلى سطح الأرض :

2- قذف جسم رأسياً لأعلى بسرعة ابتدائية مقدارها (50 m/s) . احسب :

أ (أقصى ارتفاع يصل إليه الجسم :

ب) الزمن المستغرق للوصول إلى أقصى ارتفاع :

3- أطلق جسم من سطح مبنى باتجاه رأسي إلى أعلى وبسرعة ابتدائية m/s (40) . احسب :

أ (زمن الوصول لأقصى ارتفاع :

ب) أقصى ارتفاع يصل إليه الجسم فوق سطح المبنى :

ج) سرعة الجسم على ارتفاع m (35) فوق سطح المبنى :

4- قفز النمساوي فليكس من ارتفاع (39000 m) وبفرض أنه سقط سقوطاً حراً . احسب :

أ (زمن الحركة حتى الوصول لسطح الأرض :

ب) السرعة التي كان سيصل بها للأرض في حالة عدم فتح المظلة خلال السقوط :

الوحدة الأولى : الحركة

الفصل الثاني : القوة والحركة

الدرس (2 - 1) : مفهوم القوة والقانون الأول لنيوتن

السؤال الأول : أكتب بين القوسين الاسم أو المصطلح العلمي المناسب أمام كل من العبارات التالية :

- 1- مؤثر خارجي يؤثر على الأجسام مسبباً تغييراً في شكل الجسم أو حجمه أو حالته الحركية ()
- 2- كمية فيزيائية متجهة تتحد بمقدار واتجاه ونقطة تأثير ()
- 3- القوى التي تكون محصلتها مساوية صفراً ويلغي بعضها تأثير البعض الآخر ()
- 4- خاصية ميل الجسم لمقاومة التغير والحفاظ على حالته التي عليها ()
- 5- الجسم الساكن يبقى ساكناً والجسم المتحرك يستمر متحركاً بسرعة ثابتة وفي خط مستقيم ما لم تؤثر عليه قوة خارجية تغير من حالته ()

السؤال الثاني : أكمل العبارات التالية بما تراه مناسباً علمياً :

- 1- القوة كمية ووحدة قياسها
- 2- تتحدد القوة بثلاثة عناصر هي و و
- 3- إذا أثرت عدة قوى مستوية على نقطة مادية فإن هذه القوى يجب أن تكون متلاقية عند
- 4- القوى محصلتها تساوي صفر والقوى محصلتها لا تساوي صفر
- 5- شاحنتان متماثلتان إحداها محملة والأخرى فارغة تسيران بسرعة واحدة فإذا ضغط كل من سائقيهما على الفرامل بنفس القوة وفي نفس اللحظة عند البوابة الرئيسية فإن الشاحنة تقف أولاً

السؤال الثالث : ضع علامة (√) أمام العبارة الصحيحة وعلامة (x) أمام العبارة غير الصحيحة :

- 1- إذا كانت محصلة القوى المؤثرة في جسم متحرك تساوي صفراً فإن الجسم يتحرك بسرعة ثابتة ()
- 2- تحتاج السيارة إلى قوة محركها باستمرار للتغلب على قوة الاحتكاك وقوة مقاومة الهواء ()
- 3- كلما زادت كتلة الجسم فإن قصوره الذاتي يقل ()
- 4- يفسر القصور الذاتي على ضوء القانون الأول لنيوتن حيث يظل الجسم ساكناً أو متحركاً بسرعة متغيرة وفي خط مستقيم ما لم تؤثر عليه قوة خارجية تغير من سرعته المتجهة ()
- 5- تظل الأجسام ساكنة ما لم تؤثر عليها قوة خارجية تغير من حالتها ()
- 6- تستمر الاجسام المتحركة بسرعة ثابتة في خط مستقيم بحركتها عندما تؤثر عليها قوة ثابتة ()

السؤال الرابع : أختَر أنسب إجابة صحيحة وضع أمامها علامة (√) :

1- القوة كمية متجهة تتحدد بعناصر :

نقطة تأثير والمقدار فقط نقطة تأثير والاتجاه فقط

نقطة تأثير والمقدار والاتجاه نقطة تأثير فقط

2- أحد الأشكال التالية لها تأثير قصور ذاتي أقل هي :



3- أحد الأشكال التالية لها تأثير قصور ذاتي أكبر هي :



السؤال الخامس : أجب عن الأسئلة التالية :

1- العوامل التي يتوقف عليها طول او قصر المسافة التي تقطعها الدراجة لكي تتوقف

عن الحركة في الشكل المقابل :



.....

.....

.....

.....

السؤال السادس : اشرح مع التفسير ما يحدث في كل من الحالات التالية :

1- لو أن قوة التجاذب بين الشمس ومجموعة الكواكب المرتبطة بها قد اختلفت.

.....

2- لجسم ساكن عندما تؤثر عليه قوتي متزنة.

.....

السؤال السابع : نشاط العملي :

أ) ماذا يحدث مع التفسير : عند سحب الورقة بشدة من أعلى الكاس :

الحدث :

التفسير :

السؤال الثامن : علل لما يأتي :

1- اندفاع الركاب في السيارة إلى الأمام عند توقفها فجأة.

2- سقوطك على الأرض عند اصطدام رجلك بالرصيف أثناء السير.

3- تلزم إدارة المرور السائقين على استخدام أحزمة الأمان.

4- يسمى قانون نيوتن الأول بقانون القصور الذاتي.

5- يصعب إيقاف جسم متحرك ذي كتلة كبيرة.

6- الجسم الموضوع على مستوي أفقي أملس يكون مترنماً ما لم يؤثر عليه مؤثر خارجي.

7- قد لا يتحرك الجسم برغم تأثره بأكثر من قوة.

8- تحتاج الشاحنة المحملة إلى مسافة أكبر حتى تتوقف عن المسافة التي تحتاجها الشاحنة الفارغة عند الضغط

عليهما بنفس قوة الفرامل علماً بأن السيارتين كانتا تتحركان بنفس السرعة.

9- يلجأ قائد مركبة الفضاء إلى إطفاء محركها عند الخروج من جاذبية الأرض.

الدرس (2 - 2) : القانون الثاني لنيوتن

السؤال الأول : أكتب بين القوسين الاسم أو المصطلح العلمي المناسب أمام كل من العبارات التالية :

- 1- العجلة التي يتحرك بها جسم ما تتناسب طردياً مع القوة المؤثرة على الجسم وعكسياً مع كتلته ()
 2- القوة التي إذا أثرت على جسم كتلته 1 kg جعلته يتحرك بعجلة مقدارها 1 m/s^2 (1) ()

السؤال الثاني : أكمل العبارات التالية بما تراه مناسباً علمياً :

- 1- النسبة بين مقدار القوة المؤثرة على جسم ما والعجلة التي يكتسبها بتأثير هذه القوة تساوي
- 2- العجلة التي يتحرك بها جسم ما بتأثير قوة ثابتة تتناسب تناسباً مع كتلته
- 3- العجلة التي يتحرك بها جسم ما تتناسب مع مقدار القوة المحصلة المؤثرة في هذا الجسم
- 4- عند سقوط جسم سقوط حر فإن النسبة بين وزن الجسم وكتلته نسبة ثابتة وتسمى

السؤال الثالث : اختر أنسب إجابة صحيحة وضع أمامها علامة (√) :

- 1- إذا أثرت قوة ثابتة $F \text{ N}$ على جسم كتلته $m \text{ kg}$ فأكسبته عجلة مقدارها $a \text{ m/s}^2$ فإذا أثرت القوة نفسها على جسم كتلته $2m \text{ kg}$ فإن العجلة التي يتحرك بها الجسم تساوي :

$a \square$ $2a \square$ $\frac{a}{2} \square$ $\frac{a}{4} \square$

- 2- جسم كتلته 0.4 kg يتحرك تحت تأثير قوة ثابتة بعجلة مقدارها 0.9 m/s^2 فإن تأثير نفس القوة على جسم آخر كتلته 1.2 kg يتحرك بعجلة بوحدة m/s^2 تساوي :

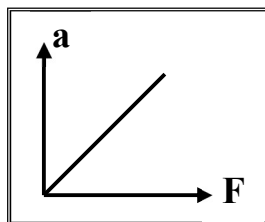
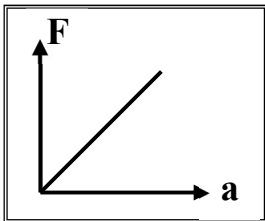
$0.3 \square$ $0.9 \square$ $1.8 \square$ $2.7 \square$

3- ميل المنحنى البياني الموضح بالشكل يساوي عددياً :

\square الكتلة \square القوة \square مقلوب الكتلة \square مقلوب القوة

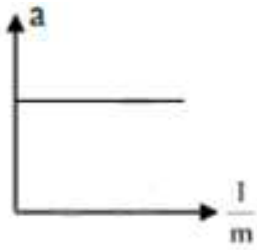
4- ميل المنحنى البياني الموضح بالشكل يساوي عددياً :

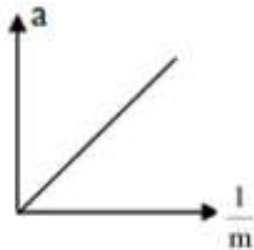
\square الكتلة \square القوة \square مقلوب الكتلة \square مقلوب القوة

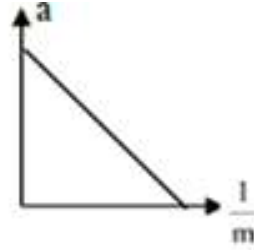


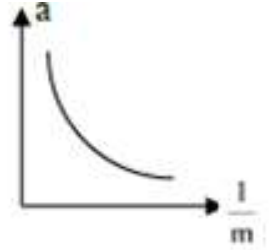
5- أفضل خط بياني يوضح العلاقة بين العجلة التي تتحرك بها أجسام مختلفة الكتلة بتأثير قوة ثابتة

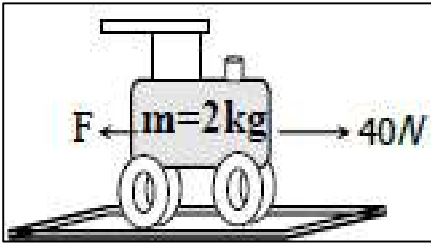
ومقلوب كتلة كل منها هو :











6- تتحرك العربة الموضحة بالشكل المجاور بسرعة منتظمة مقدارها (5 m/s)

عندما تكون قيمة القوة (F) بوحدة النيوتن مساوية :

 80

 20

 40

 200

السؤال الرابع : ضع علامة (√) أمام العبارة الصحيحة وعلامة (x) أمام العبارة غير الصحيحة :

1- وحدة قياس العجلة تساوي (N/kg)

2- أثرت قوة على جسم كتلته (2 Kg) فأكسبته عجلة مقدارها (1 m/s²) فإذا أثرت القوة نفسها

على جسم كتلته (3 Kg) فإن العجلة التي يكتسبها تساوي (3 m/s²)

3- أثرت قوة (5 N) على جسم فأكسبته عجلة مقدارها (1 m/s²) فإذا زادت القوة المؤثرة إلى (20 N)

فإن العجلة التي يكتسبها تصبح (4 m/s²)

4- مقدار العجلة التي تتحرك بها سيارة كتلتها (800 kg) عندما تؤثر عليها قوة مقدارها (1600 N)

يساوي (2 m/s²)

السؤال الخامس : حل المسائل الآتية :

1- سيارة كتلتها (1200 kg) تؤثر عليها قوة مقدارها (2400 N) . احسب :

أ) احسب العجلة التي تتحرك بها السيارة :

.....

.....

ب) احسب العجلة التي تتحرك بها السيارة إذا ضاعفنا القوة للمثلين مع ثبات الكتلة :

.....

.....

ج) احسب العجلة التي تتحرك بها السيارة إذا ضاعفنا الكتلة للمثلين مع ثبات القوة المؤثرة :

.....

.....

2- سقطت كرة كتلتها kg (0.5) من برج وبعد (4) ثانية ارتطمت بالأرض المطلوب . احسب :

أ) سرعة الكرة لحظة اصطدامها بالأرض :

.....

.....

ب) متوسط سرعة الكرة :

.....

.....

ج) ارتفاع البرج :

.....

.....

د) وزن (ثقل) الكرة :

.....

.....

3- جسم كتلته 8 Kg يتحرك بسرعة ابتدائية مقدارها 4 m/s أثرت فيه قوة فزادت سرعته إلى 12 m/s (12)

خلال زمن قدره 2 s . احسب :

أ (العجلة التي يتحرك بها الجسم :

.....

.....

ب) مقدار القوة المؤثرة على الجسم :

.....

.....

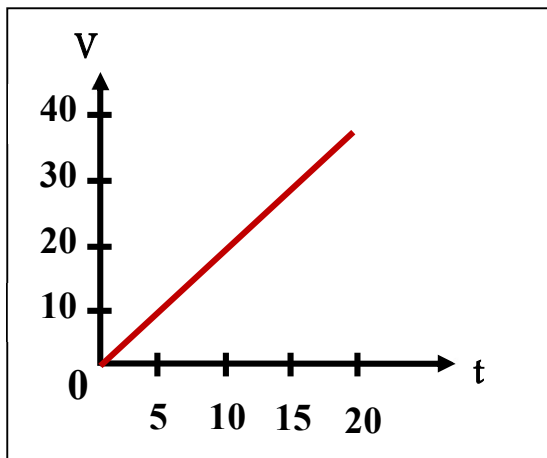
4- في إحدى التجارب التي أجريت لاستنتاج العلاقة بين السرعة والزمن لجسم كتلته 200 Kg كانت النتائج

كالتالي من الجدول أجب عما يلي :

أ (أرسم العلاقة بين (v, t) :

ب) احسب ميل الخط المستقيم :

t	0	5	10	15	20
v	0	10	20	30	40



ج) احسب المسافة التي يقطعها الجسم خلال تلك الفترة الزمنية :

.....

.....

د) احسب مقدار القوة المؤثرة على الجسم :

.....

.....

الدرس (2 - 3) : القانون الثالث لنيوتن وقانون العام للجاذبية

السؤال الأول : أكتب بين القوسين الاسم أو المصطلح العلمي المناسب أمام كل من العبارات التالية :

- 1- لكل فعل رد فعل مساوي له في المقدار ومعاكس له في الاتجاه ()
- 2- قوة مساوية للقوة الأولى في المقدار ومضادة لها في الاتجاه ()
- 3- تتناسب قوة التجاذب بين جسمين طردياً مع حاصل ضرب الكتلتين وعكسياً مع مربع البعد بينهما ()
- 4- قوة التجاذب بين جسمين كتلة كل منهما 1 kg والبعد بين مركزي كتلتيهما 1 m في الفراغ ()

السؤال الثاني : أكمل العبارات التالية بما تراه مناسباً علمياً :

- 1- القوى المؤثرة على الأجسام تكون دائماً أي أن التأثير بين الجسمين متبادل
- 2- عندما يدفع الغطاس لوحة الغطس نحو الأسفل فإن لوحة الغطس تدفع الغطاس نحو
- 3- عندما تسبح في الماء فإنك تدفع الماء إلى الخلف وهي قوة الفعل فتكون قوة هي الماء يدفع الجسم للأمام
- 4- عندما يسقط جسم فإن قوة الفعل هي قوة جذب الأرض وتكون قوة قوة جذب الجسم للأرض
- 5- الفعل ورد الفعل قوتان في المقدار و في الاتجاه
- 6- إذا دفعت الحائط بقوة تساوي 200 N فإن القوة التي يبذلها الحائط عليك تساوي
- 7- تتوقف قوة التجاذب بين جسمين على و
- 8- تزداد قوة التجاذب بين جسمين بزيادة وتقل بزيادة
- 9- تتناسب قوة التجاذب بين جسمين مع حاصل ضرب الكتلتين و مع مربع البعد بين مركزيهما

السؤال الثالث : ضع علامة (√) أمام العبارة الصحيحة وعلامة (x) أمام العبارة غير الصحيحة :

- 1- لا توجد قوي مفردة، بل تكون القوي دائماً مزدوجة ()
- 2- قوة الجذب المتبادلة بين الأجسام تتوقف على كتل الأجسام المتجاذبة والمسافة الفاصلة بينهما ()
- 3- لا تظهر قوي التجاذب المادي بوضوح بين شخصين يقفان على بعد أمتار من بعضهما بسبب صغر كتلتيهما ()
- 4- يستمر الصاروخ في الدوران والحركة في المدار الخاص به عندما يندفع إلى الفضاء بفعل القصور الذاتي ()
- 5- تعتمد فكرة اندفاع الصواريخ على القانون الثاني لنيوتن ()

السؤال الرابع : أختَر أنسب إجابة صحيحة وضع أمامها علامة (√) :

1- جسمان كتلة كل منهما (m) المسافة بينهما (d) قوة التجاذب بينهما (F) فإذا زادت كتلة كل منهما

أربعة أمثال ما كانت عليه فإن القوة تصبح :

4 F

8 F

16 F

32 F

2- جسمان كتلة كل منهما (m) البعد بينهما (d) قوة التجاذب بينهما (F) فإذا زادت كتلة كل منهما للمثلي

وزادت المسافة بينهم للمثلي فإن القوة بينهم تصبح :

4 F

F

16 F

32 F

3- جسمان البعد بين مركزيهما (d) وقوة التجاذب بينهما ($4 \times 10^{-8} \text{ N}$) فإذا أصبح البعد بينهما مثلي

ما كان عليه فإن قوة التجاذب بينهما تصبح بالنيوتن :

16×10^{-8}

4×10^{-8}

2×10^{-8}

1×10^{-8}

السؤال الخامس : علل لما يأتي :

1- يدفع الحصان الأرض بقدميه عند الجري.

2- يرتفع البالون المملوء بالهواء لأعلى عند قلبه رأس على عقب وتركه.

3- يدفع السباح لوحة الغطس لأسفل بقدميه.

4- الفعل ورد الفعل قوتان متساويتان في المقدار متعاكستان في الاتجاه ولا يلغي كل منهما الآخر (غير متزنيتين).

5- نلاحظ قوة جذب الأرض للقلم ولا نلاحظ قوة جذب القلم للأرض.

6- تدور الارض حول الشمس في مدار ثابت دائماً.

7- تقل قوة التجاذب بين جسمين إلى الربع إذا زادت المسافة بينهما للضعف.

السؤال السادس : حل المسألة التالية :

1- احسب قوة الجذب بين كرتين كتلتاهما (20) Kg و (30) Kg وتساوى المسافة بين مركزي كتليهما (1.5) m

علما بأن ثابت الجذب العام $(G = 6.67 \times 10^{-11}) \text{ N.m}^2/\text{Kg}^2$

ب) ماذا يحدث لمقدار القوة عندما تصبح المسافة بين مركزي كتليهما (4.5) m

الوحدة الثانية : المادة وخصائصها الميكانيكية

الفصل الأول : خواص المادة

الدرس (1 - 2) : التغير في المادة

السؤال الأول : أكتب بين القوسين الاسم أو المصطلح العلمي الذي تدل عليه كل من العبارات التالية :

- 1- خاصية للأجسام تتغير بها أشكالها عندما تؤثر عليها قوة ما وتعود الأجسام إلى أشكالها الأصلية عندما تزول القوة المؤثرة عليها ()
- 2 - الحد الأعلى الذي يتحمله جسم مرن من إجهاد دون أن ينشأ عن ذلك تغير دائم في شكله ()
- 3- يتناسب مقدار الاستطالة أو الانضغاط الحادث لنايظ تناسباً طردياً مع قيمة القوة المؤثرة ()
- 4- القوة التي تؤثر على جسم ما وتعمل على تغيير شكله ()
- 5- التغير في شكل الجسم الناتج عن القوة المؤثرة عليه ()
- 6- مقاومة الجسم للخدش ()
- 7- مقاومة الجسم للكسر ()
- 8- إمكانية تحويل المادة إلى أسلاك ()
- 9- إمكانية تحويل المادة إلى صفائح ()

السؤال الثاني : أكمل العبارات والجمل التالية بما يناسبها علمياً :

- 1- ميل منحنى (القوة – الاستطالة) يمثل للنايظ
- 2- إذا كان ثابت القوة لنايظ $(50) \text{ N/m}$ فإنه عندما يستطيل بمقدار $(2) \text{ cm}$ تكون القوة المؤثرة عليه بوحدة النيوتن تساوي
- 3- توصف الأجسام التي لا تستطيع العودة إلى شكلها الأصلي بعد زوال القوة المؤثرة عليها بأنها أجسام
- 4- توصف الأجسام التي تستطيع العودة إلى شكلها الأصلي بعد زوال القوة المؤثرة عليها بأنها أجسام
- 5- الانفعال الحادث في سلك النايظ يتناسب طردياً مع الواقع عليه بشرط أن يعود السلك لطوله الأصلي

السؤال الثالث : ضع علامة (√) أمام العبارة الصحيحة وعلامة (x) أمام العبارة غير الصحيحة :

- 1- الصلصال من المواد المرنة ()
- 2- عند التأثير بقوة على كرة من الرصاص فإنها تعود لشكلها الأصلي بعد زوال القوة المؤثرة عليها ()
- 3- عند استطالة أو انضغاط مادة مرنة بدرجة أكبر من حد معين فإنها لن تعود إلى شكلها الأصلي بعد زوال القوة ()
- 4- الليونة هي إمكانية تحويل المادة إلى صفائح ()
- 5- إذا تعدى جسم مرن حد المرونة فلن يعود إلى شكله وحجمه الأصلي ()
- 6- الصلابة هي مقاومة الجسم للكسر ()
- 7- الصلادة هي مقاومة الجسم للكسر ()
- 8- أثرت قوة مقدارها $N (20)$ في نابض مرن فاستطال بمقدار $m (0.2)$ فإذا قلت القوة المؤثرة إلى النصف فإن الاستطالة تصبح مساوية $m (0.1)$ ()

السؤال الرابع : ضع علامة (√) في المربع المقابل لأنسب إجابة صحيحة لكل مما يلي :

- 1- إذا أثرتنا بقوة مقدارها $N (8)$ على سلك فازداد طوله بمقدار (0.08 m) فإن ثابت هوك لهذا السلك بوحدة (N/m) يساوي :

0.01 80 8.08 100

- 2- خاصية للأجسام تتغير بها أشكالها عندما تؤثر عليها قوة وبها تعود الأجسام إلى أشكالها الأصلية عند زوالها :

الإجهاد المرونة الانفعال التوتر السطحي

- 3- يتناسب مقدار الاستطالة والانضغاط الحادث لنابض تناسباً طردياً مع قيمة القوة المؤثرة يعرف بـ :

قانون الطفو قانون هوك قاعدة باسكال قاعدة أرشميدس

- 4- وحدة قياس ثابت المرونة (ثابت هوك) هي :

N/m^2 m/N N/m $N.m$

- 5- المرونة هي :

تغيير المادة في الشكل أو الحجم حركة المادة الدورانية

ميل المادة للعودة إلى حالتها الأصلية تمدد المادة أو تقلصها

6- يتناسب مقدار الاستطالة والانتضاغ الحاد لنابض تناسباً :

- طردياً مع القوة المؤثرة طردياً مع مربع القوة المؤثرة
 عكسياً مع القوة المؤثرة عكسياً مع مربع القوة المؤثرة

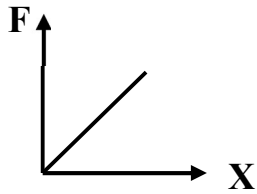
7- حد المرونة هو :

- أكبر استطالة تتحملة المادة دون أن تفقد مرونتها أكبر قوة تلزم لتمزق المادة وتتكسر
 أقل تغير يطرأ على المادة في شكلها أو حجمها أكبر استطالة تظهر على المادة

8- أثرت قوة مقدارها $(10) N$ في نابض مرن فأدت لاستطالته بمقدار $(2) cm$

فإذا زادت القوة إلى الضعف فإن مقدار الاستطالة يصبح بوحدة (cm) مساوياً :

- 0 1 2 4



9- اعتماداً على الشكل المقابل فإن ثابت المرونة يساوي :

- F/X $F.X$ X/F $2F/X$

10- إذا كان ثابت القوة لنابض مرن هو $(30) N/m$ يكون القوة المسببة في استطالته بمقدار $(5) cm$ بالنيوتن

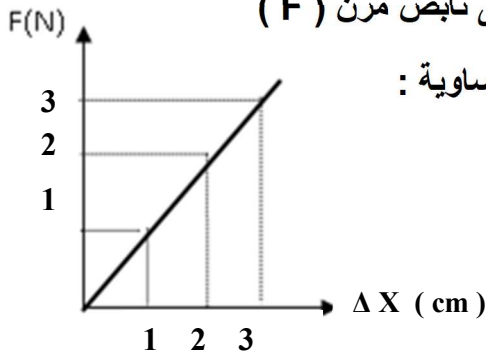
- 600 150 6 1.5

11- عندما تزداد الاستطالة الحادثة في نابض مرن إلى مثلي قيمتها ولم يتعدى حد المرونة فإن قيمة القوة المؤثرة :

- تقل إلى الربع تقل إلى النصف
 تزداد للمثلي تزداد لأربعة أمثال

12- إذا كان الخط البياني الموضح بالشكل يمثل العلاقة بين القوة المؤثرة على نابض مرن (F)

والاستطالة الحادثة له (ΔX) فيكون ثابت النابض بوحدة (N/m) مساوية :



- 1 3
 100 0.01

13- الحد الأعلى لما يمكن أن يتحملة جسم مرن من إجهاد بدون أن ينشأ عن ذلك تغير دائم في شكله يعرف باسم :

- الانفعال الصلادة الليونة حد المرونة

14- قانون هوك يبين العلاقة بين :

- القوة والحجم
 القوة والاستطالة
 الثقل والكثافة
 القوة والحركة

15- أثرت قوة على سلك فاستطال بمقدار 2 Cm (2) فإذا أثرت نفس القوة على سلك من نفس نوع المادة ولكن طوله مثلي طول السلك الأول فإن الاستطالة الحادثة فيه بوحدة (Cm) تساوي :

- 1 2 4 8

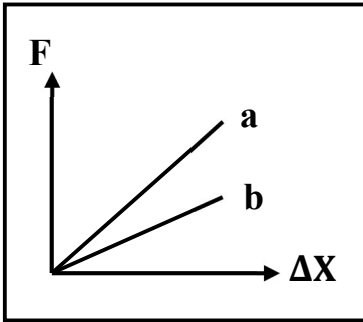
16- الإجهاد هو :

- القوة المؤثرة على الجسم وتعمل على تغيير شكله
 القوة المؤثرة على وحدة المساحات
 التشوه الحاصل في الجسم
 الزيادة النسبية في حجم الجسم

17- علقت كتلة في الطرف الحر ل نابض مرن فاستطال بمقدار (2 cm) فإذا كان ثابت هوك للنابض يساوي 200 N/m (200) فإن مقدار قوة الشد المؤثرة في النابض بوحدة (النيوتن) تساوي :

- 0.4 4 40 400

18- الشكل المقابل يوضح العلاقة بين قوة الشد (F) المؤثرة في نابضين (a , b)



والاستطالة الحادثة في كل منهما فإن قيمة ثابت هوك للنابض (a) تكون :

- أكبر منها للنابض (b)
 مساوية للنابض (b)
 أصغر منها للنابض (b)
 مساوية للصفر

19- خاصية الصلابة تعني مقاومة الجسم :

- للكسر للخدش للثني للطرق

20- الليونة هي إمكانية تحويل المادة إلى :

- صفائح أسلاك ألواح سبائك

21- الطرق هي إمكانية تحويل المادة إلى :

- صفائح أسلاك ألواح سبائك

22- المعدن الأكثر صلادة بين هذه المعادن هو :

- النحاس الألمنيوم الذهب الفضة

السؤال الخامس : ماذا يحدث مع التفسير :

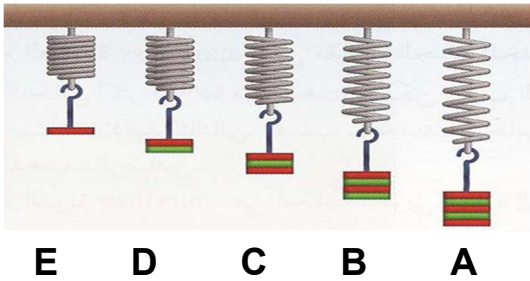
1- نابض مرن علقنا به قوة مقدارها $N (50)$ وثابت المرونة له $N/m (100)$ إذا علمت أن أكبر قيمة لاستطالة النابض قبل أن ينقطع هي $m (0.4)$

الحدث :

السبب :

السؤال السادس : علل لما يأتي :

1- يعتبر الرصاص من الأجسام غير المرنة بينما الحديد من الأجسام المرنة

السؤال السابع : نشاط عملي من الرسم الموضح :

(أ) أيهما أكثر استطالة :

(ب) السبب :

(ج) الاستنتاج :

السؤال الثامن : حل المسائل الآتية :

1- نابض مرن طوله (10 cm) علقت كتلة مقدارها (400 g) فأصبح طوله (12 cm) . احسب :

(أ) مقدار الاستطالة الحادثة بوحدة المتر :

(ب) ثابت المرونة للنابض :

2- نابض مرن علقته به قوة مقدارها $N (2)$ فأدت إلى استطالته $m (0.05)$. احسب :

(أ) ثابت المرونة للنابض :

(ب) القوة اللازمة لأحداث استطالة في النابض مقدارها $m (0.1)$:

(ج) حساب مقدار الكتلة اللازمة لأحداث استطالة في النابض مقدارها $m (0.1)$:

الدرس (1 - 3) : خواص السائل الساكنةأولاً : الضغط

السؤال الأول : أكتب بين القوسين الاسم أو المصطلح العلمي الذي تدل عليه كل من العبارات التالية :

1- القوة العمودية المؤثرة على وحدة المساحات

()

السؤال الثاني : أكمل العبارات والجمل التالية بما يناسبها علمياً :

1- يعتمد ضغط السائل عند نقطة في باطنه على ولا يعتمد على شكل الإناء الحاوي له

2- جميع النقاط التي تقع في مستوى واحد في باطن سائل يكون لها الضغط

3- حوض مساحة قاعدته $m^2 (8)$ ويحتوي على ماء وزنه $N (400)$ فإن الضغط على القاع يساوي

السؤال الثالث : ضع علامة (√) أمام العبارة الصحيحة وعلامة (x) أمام العبارة غير الصحيحة :

1- الضغط في البحيرة الصغيرة العميقة أكبر من الضغط في البحيرة الكبيرة غير العميقة ()

2- السباحة في ماء البحر تكون أسهل من السباحة في ماء النهر ()

السؤال الرابع : ضع علامة (√) في المربع المقابل لأنسب إجابة صحيحة لكل مما يلي :

1- مقدار القوة العمودية المؤثرة على وحدة المساحات تعني :

الإجهاد الانفعال الضغط المرونة

2- الضغط المؤثر على سطح معين (P) يساوي :

$\frac{F^2}{A}$ $\frac{F}{A^2}$ $\frac{F}{A}$ $\frac{F^2}{A^2}$

3- الوحدة الدولية المستخدم لقياس الضغط هي الباسكال وتكافئ :

N.m N.m² N/m² N²/m

4- عند زيادة القوة التي يؤثر بها الجسم على السطح فإن الضغط الناشئ عنه :

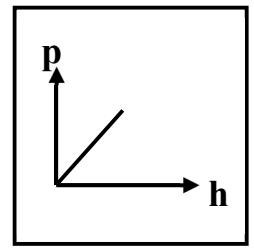
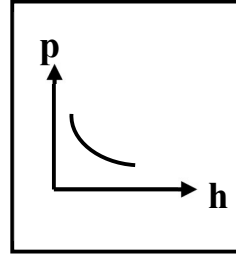
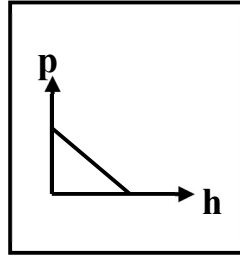
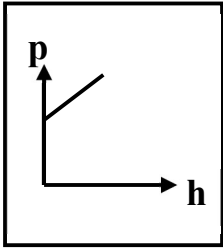
يزداد يقل لا يتغير يتلاشى

5- الضغط عند نقطة في باطن السائل يتناسب :

طردياً مع بعد النقطة عن سطح السائل طردياً مع مربع بعد النقطة عن سطح السائل

عكسياً مع بعد النقطة عن سطح السائل عكسياً مع مربع بعد النقطة عن سطح السائل

6- الرسم البياني الذي يوضح العلاقة بين الضغط الكلي المؤثر على نقطة في باطن سائل ساكن وعمق النقطة هو :



7- إذا كانت كثافة ماء البحر 1150 Kg/m^3 فإن ضغط ماء البحر فقط عند نقطة على عمق 50 m ()

من سطح البحر بوحدة (Pa) يساوي :

110×10^4 110×10^{-4} 5.75×10^5 5.75×10^{-5}

8- إناء مساحة قاعدته (0.2 m^2) صب به ماء إلى ارتفاع (10 cm) فإذا علمت أن كثافة الماء

(1000 Kg/m^3) فإن القوة العمودية المؤثرة على قاعدة الإناء بوحدة (N) تساوي :

1000 200 20 2

9- يوضح الشكل المقابل كأس مملوء بسائل، فإن الضغط يكون أقل ما يمكن عند النقطة :

A B C D

10- يوضح الشكل المقابل كأس مملوء بسائل، فإن الضغط يكون أكبر ما يمكن عند النقطة :

A B C D

11- وضع زيت كثافته (800 kg/m^3) في زجاجة بلاستيك فكان ارتفاعه (0.5 m) فوق القاع

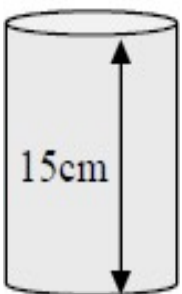

فيكون ضغط الزيت على قاع الزجاجة بوحدة الباسكال (Pa) يساوي :

160 400 1600 4000

12- وضع سائل كثافته (1000 kg/m^3) في الإناء الموضح بالشكل فإن ضغط السائل

عند نقطة تقع على ارتفاع (5 cm) فوق القاع بوحدة الباسكال (Pa) يساوي :

50 500 1000 1500



السؤال الخامس : علل لما يأتي :

1- يجب أن تكون السدود المستخدمة لحجز المياه في البحيرات العميقة ذات سماكة أكبر من السدود المستخدمة لحجز المياه في البحيرات.

2- الضغط في البحيرة الصغيرة العميقة أكبر من الضغط في البحيرة الكبيرة غير العميقة.

3- السباحة في ماء البحر تكون أسهل من السباحة في ماء النهر.

السؤال السادس : اذكر العوامل التي يتوقف عليها كل من :

1- ضغط السائل عند نقطة :

السؤال السابع : حل المسائل الآتية :

1- حوض يحوي ماء مالح كثافته (1030 kg/m^3) إذا افترضنا أن ارتفاع الماء (1 m) وأن مساحة قاعدة

الحوض تساوي (500 cm^2). بفرض أن الضغط الجوي (10^5 Pa). احسب :

أ) الضغط الكلي على القاعدة :

ب) القوة المؤثرة على القاعدة :

2- يحتوي الوعاء الموجود في الشكل المقابل على (20 cm) من الزئبق

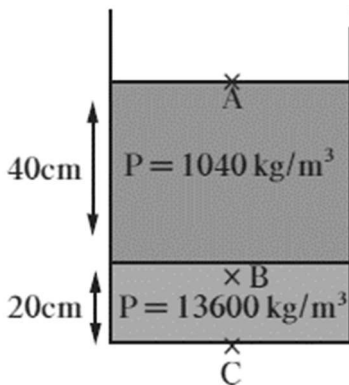
الذي كثافته تساوي (13600 kg/m^3) وعلى (40 cm) من الماء المالح

الذي كثافته تساوي (1040 kg/m^3). والضغط الجوي يساوي (10^5 Pa) احسب :

أ) الضغط المؤثر على نقطة A على السطح العلوي للماء :

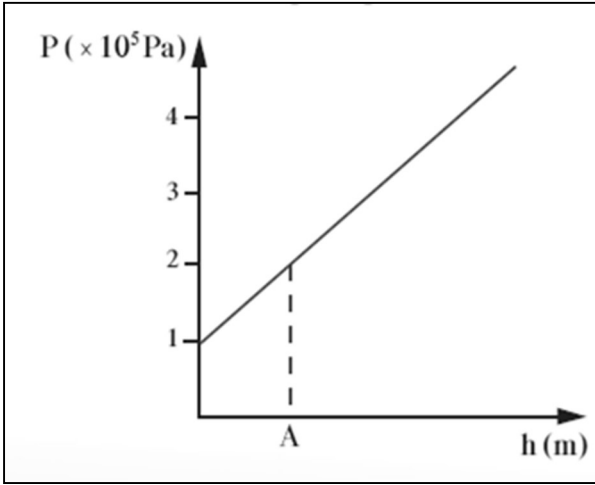
ب) الضغط المؤثر على نقطة B على عمق (40 cm) من السطح العلوي للماء :

ج) الضغط المؤثر على نقطة C في قاع الوعاء المستخدم :



3- الرسم يمثل العلاقة بين الضغط عند نقطة والعمق داخل سائل كثافته (1000 kg/m^3) . اوجد :

أ) الضغط الجوي عند سطح السائل :



ب) الضغط عند النقطة (A) :

ج) عمق النقطة (A) تحت سطح السائل :

ثانياً : قاعدة باسكال

السؤال الأول : أكتب بين القوسين الاسم أو المصطلح العلمي الذي تدل عليه كل من العبارات التالية :

- 1- ينقل كل سائل محبوس أي تغير في الضغط عند أي نقطة إلى باقي نقاط السائل وفي كل الاتجاهات ()
- 2- النسبة بين مساحة المكبس الكبير إلى مساحة المكبس الصغير ()
- 3- النسبة بين المسافة التي يتحركها المكبس الصغير إلى المسافة التي يتحركها المكبس الكبير ()
- 4- النسبة بين الشغل المبذول على المكبس الكبير إلى الشغل المبذول على المكبس الصغير ()

السؤال الثاني : ضع علامة (✓) في المربع المقابل لأنسب إجابة صحيحة لكل مما يلي :

1- يستخدم المكبس الهيدروليكي لرفع :

أثقال كبيرة بتأثير قوة كبيرة

أثقال صغيرة بتأثير قوة صغيرة

أثقال كبيرة بتأثير قوة صغيرة

أثقال كبيرة بتأثير قوة الجاذبية

2- إذا كانت النسبة بين القوة المؤثرة على المكبس الصغير إلى القوة المؤثرة على المكبس الكبير تساوي $1/60$

فان الفائدة الآلية للمكبس تساوي :

100

60

0.1

0.01

3- إذا استخدمت قوة مقدارها $N (2)$ في مكبس هيدروليكي لرفع جسم وزنه $N (20)$ مسافة قدرها $cm (1)$

فان المكبس الصغير يجب أن يتحرك مسافة قدرها بوحدة المتر :

20

10

0.2

0.1

4- أثرت قوة مقدارها $N (40)$ نيوتن على أحد شعبيتي مكبس هيدروليكي مساحته $m^2 (0.4)$ فإذا كانت

مساحة مقطع الشعبة الثانية $m^2 (4)$ فان القوة المؤثرة على الشعبة الثانية بوحدة النيوتن تساوي :

1600

4000

400

40

5- مكبس هيدروليكي إذا كانت النسبة بين مساحة المكبس الصغير إلى مساحة المكبس الكبير هي كنسبة (9 : 2)

وأثرنا على المكبس الصغير بقوة مقدارها $(50 N)$ فان القوة التي تنتج على المكبس الكبير تساوي بوحدة النيوتن

575

450

225

125

السؤال الثالث : حل المسائل الآتية :

1- في محطة لغسيل السيارات كان نصف قطر المكبس الكبير cm (100) نصف قطر المكبس الصغير cm (10)

فإذا أثرت قوة N (20) على المكبس الصغير . احسب :

أ) أكبر كتلة يمكن رفعها :

ب) الفائدة الآلية للمكبس :

2- مكبس هيدروليكي تبلغ مساحة مكبسه الصغير $cm^2 (15)$ ومساحة مكبسه الكبير $cm^2 (300)$. احسب :

أ) القوة التي تؤثر على المكبس الصغير عند وضع ثقل قدره N (2000) على المكبس الكبير :

ب) المسافة التي يجب أن يتحركها المكبس الصغير لرفع الثقل الموضوع على المكبس الكبير مسافة قدرها cm (3)

3- مكبس هيدروليكي نصف قطرا مكبسيه cm (16) و cm (80) . احسب :

أ) مقدار القوة المؤثرة على المكبس الصغير في حال رفع كتلة مقدارها kg (400) :

ب) المسافة التي يتحركها المكبس الكبير إذا تحرك المكبس الصغير مسافة cm (50) :

ج) الفائدة الآلية للمكبس الهيدروليكي :

انتهت الأسئلة بالتوفيق والنجاح