



العام الدراسي : ٢٠٢٠ / ٢٠٢١ م
الزمن : ساعة وخمسة وأربعون دقيقة
عدد الأوراق : (٦)

امتحان نهاية الفترة الدراسية الأولى
للسف الثامن
دولة الكويت والعالم الإسلامي

وزارة التربية
الإدارة العامة لمنطقة الجهراء التعليمية
التوجيه الفني للاجتماعيات

أجب عن جميع الأسئلة التالية :-

السؤال الأول: (موضوعي) يتكون من (أ - ب - ج - د - هـ - و) :-

أ) أكمل العبارات التالية بما يناسبها فيما درست :-


- ١ - الشيخ الذي لقب بقائد العمل الإنساني عام ٢٠١٤ م اسمه.....صباح الأحمد الصباح (ص ٢٤)
- ٢ - العام الذي توفي فيه الرسول (عليه الصلاة والسلام) هو١١ هـ.. (ص ٢٥)
- ٣ - العاصمة العربية التي يوجد فيها المسجد الأموي تسمى ...دمشق (ص ٣٣)
- ٤ - المؤلف لكتاب " نزهة المشتاق في اختراق الآفاق " اسمه الشريف الإدريسي (ص ٤٣)
- ٥ - نسبة إنتاج العالم الإسلامي من الغاز الطبيعي ...٣٦% (ص ٦٧)

ب) صوب ما تحته خط في العبارات التالية :-

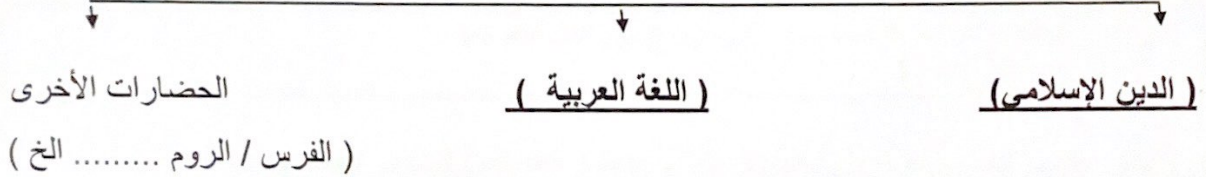
التصويب	العبرة
البيروني (ص ١٩)	١ - مؤلف كتاب " الصيدلة في الطب " الخوارزمي.
أبو بكر الصديق (ص ٢٥)	٢ - أول الخلفاء الراشدين هو عمر بن الخطاب .
المدينة المنورة (ص ٣٨)	٣ - يقع المسجد النبوي في مكة المكرمة .
١٤ % (ص ٧٢)	٤ - نسبة إنتاج العالم الإسلامي من الحبوب (٢٠ %) .
الاستزراع السمكي (ص ٧٤)	٥ - المصادر الغير الطبيعية لإنتاج الأسماك البحار والمحيطات .

تابع السؤال الاول : (الموضوعي) -
د) أكمل المخطط السهمي التالي :-

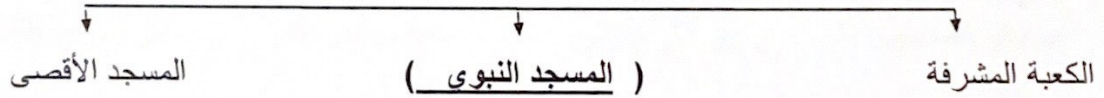
١ - المناصب القيادية التي ظهرت في الدولة الإسلامية (ص ٢٥)



٢ - أسس الحضارة الإسلامية (ص ٢٠)



٣ - أشهر المساجد التاريخية في العالم الإسلامي (ص ٣٢/٣٣)



هـ) اختر من المجموعة (أ) ما يناسبها من المجموعة (ب) بوضع الرقم في المكان المناسب : (ص ٥٣)

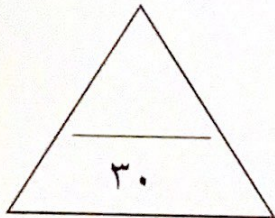
م	المجموعة (أ)	الرقم المناسب	المجموعة (ب)
١-	أرض مرتفعة سطحها مستوي لمساحة واسعة .	-	تضاريس
٢-	حوض أو منخفض طبيعي على سطح الأرض .	٤	التل
٣-	أجزاء فسيحة من سطح الأرض تتميز بإستوائها وقلّة ارتفاعها .	٣	السهول
٤-	يشبه الجبل ولكن ارتفاعه أقل من ١٠٠ م .	٢	الوادي
٥-	كل قمة لا يقل ارتفاعها عن ١٠٠٠ متر تقريبا	١	الهضبة
		٥	الجبل

ج) أكتب المفاهيم أو المصطلحات الدالة على العبارات التالية :-

م	المفهوم	العبرة
١	أهل الذمة (٣٦)	النصارى واليهود الذين ظلوا على دينهم مع دفع الجزية .
٢	الزكاة (ص ٢٩)	ركن من أركان الإسلام يخرجها المسلمون الأغنياء للمستحقين من الفقراء .
٣	أرابيسك (ص ٢٧)	الصناعات الخشبية التي سميت نسبة إلى العرب .
٤	التضاريس (ص ٥٣)	أشكال سطح الأرض .
٥	الغلات النقدية (ص ٧٣)	المحاصيل التي تزرع من أجل التصدير .

و) اختر الإجابة الصحيحة من بين البدائل التالية بوضع خطا تحت العنصر المناسب :-

- ١ - الخليفة الراشدي الذي استحدث في عهده منصب المحتسب :- (٢٥)
 - أبو بكر الصديق - عمر بن الخطاب - عثمان بن عفان - علي بن أبي طالب
- ٢ - الحاكم الذي في عهده تم افتتاح المسجد الكبير الشيخ :- (ص ٣١)
 - صباح السالم الصباح - جابر الأحمد الصباح - صباح الأحمد الصباح - نواف الأحمد الصباح
- ٣ - يبلغ عدد الدول الإسلامية في قارة آسيا :- (ص ٥١)
 ٢٥ - ٢٦ - ٢٧ - ٢٨
- ٤ - الدولة الإسلامية الوحيدة التي تقع في قارة أمريكا الجنوبية :- (ص ٥١)
 - سورينام - البرازيل - فنزويلا - الأرجنتين
- ٥ - يبلغ نسبة إنتاج الوطن العربي من النفط :- (ص ٦٧)
 ٤٠,٥ - ٤١,٥ - ٤٢,٥ - ٤٣,٥ %



السؤال الثاني :-

تكون من (أ / ب / ج) :-

أ) ما الفرق بين كل من :-

الجزية (٢٩)	الخراج (٢٨)
مبلغ مالي يدفعه الرجال غير المسلمين من أهل الذمة ممن هم قادرين على حمل السلاح نظير حماية الدولة لهم (درجة)	ضريبة الأرض الزراعية التي تخرج مبلغا ماليا معيناً من ناتج المحصول الزراعي . (درجة)
الحضارة الإسلامية ص ١٨	الحضارة ص ١٨
تمثل اللغة العربية وسيلة للتعبير عنها والذي يمثل روحها وجوهرها الدين الإسلامي . (درجة)	كل ما يطرأ على المجتمع من تقدم وتطور ورقي في الجانب المادي أو الجانب الروحي . (درجة)

ب) دلل على صحة العبارات التالية :-

١ - ازدهار العلم وظهور العلماء في الحضارة الإسلامية . (ص ٣٧) (يكتفى بعاملين) درجتين

- تشجيع العلماء ورعاية وتمويل القيادات السياسية لهم من خلفاء وملوك وسلاطين وأمراء .

- التنافس العلمي بين الدول الإسلامية .

- حركة التعريب (الترجمة) للكتب القديمة اليونانية والهندية والفارسية وغيرها .

- الرخاء الاقتصادي .

٢ - زيادة الإنتاج الزراعي في دول العالم الإسلامي . (ص ٧٢) (يكتفى بعاملين) درجتين

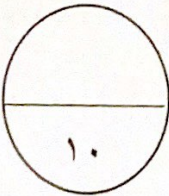
- التربة الخصبة . - المناخ . - وجود البحيرات والأنهار والآبار .

- سقوط الأمطار . - كثرة السكان والأيدي العاملة .

ج) عدد ما يلي :-

١ - موارد بيت المال . (ص ٢٨) (يكتفى بعاملين) درجتين

- الزكاة - الخراج - الجزية - الوقف الإسلامي



السؤال الثالث :-

يتكون من (أ / ب / ج) :-

(أ) أذكر ما يلي :-

١ - جهود المسلمين في الزراعة . (ص ٢٦) (يكتفى بعاملين) درجتين

- شق القنوات المائية والترع . - إقامة السدود . - تنظيم وسائل الري .

٢ - مميزات المظاهر العمرانية في الحضارة الإسلامية . (ص ٣٠) (يكتفى بعاملين) درجتين

- الأسوار . - القباب . - المآذن . - المنابر . - الزخارف .

ب (علل لما يأتي :-

١ - تشجيع الدولة الإسلامية على النشاط التجاري . (ص ٢٨) (يكتفى بعاملين) درجتين

- لدورها الكبير في التبادل التجاري مع المناطق المجاورة .

- يمتلك موقع العالم الإسلامي الإستراتيجي العديد من الخطوط التجارية البرية البحرية .

٢ - تدين أوروبا بالفضل الكبير للحضارة الإسلامية . (ص ٤٢) درجة

- لأنها كانت السبب في النهضة الصناعية والعلمية الأوربية الحديثة .

ج (نفذ ما بين الأقواس :-

١ - الوقف الإسلامي . (التعريف) (ص ٢٩) درجة

- عبارة عن صدقة جارية يوقفها المرء في حياته لوجوه الخير والبر ويكون أجرها ونفعها ما دامت باقية ويستمر الأجر حتى بعد وفاته .

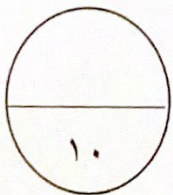
٢ - أهم المراكز العلمية في الحضارة الإسلامية . (عدد) (٣٨) (يكتفى بعاملين) درجتين

- المسجد الحرام في مكة المكرمة والمسجد النبوي في المدينة المنورة .

- بيت الحكمة .

- المرصد الفلكي في مراغة في أذربيجان .

- مجمع باي كايان في مدينة بخارى في أوزباكستان .



السؤال الرابع :-

يتكون من (أ / ب / ج) :-

(أ) أذكر ما يلي :-

١- الشعوب التي كونت الحضارة الإسلامية . (ص ١٨) (يكتفى بعاملين) درجتين

- العرب . - الفرس . - الترك . - الأفارقة . - الآسيويين . - الهنود . - الأوربيين .

٢ - خصائص الحضارة الإسلامية . (ص ٢٢) (يكتفى بعاملين) درجتين

- حضارة تسامح . - حضارة إيمان وعمل . - حضارة إنسانية .

- حضارة عالمية . - حضارة شمولية .

(ب) اكتب مثالا على كل مما يأتي :-

العلوم العقلية (١٧)	العلوم العقلية (١٧)
حديث / فقه / تفسير / تاريخ . درجة	الرياضيات / الفيزياء / الكيمياء / الفلسفة / الفلك . درجة
واردات العالم الإسلامي (٢٨)	صادرات العالم الإسلامي (ص ٢٨)
- الأخشاب - التوابل - الذهب درجة	التمور - الفواكه - اللبان - الخيول درجة

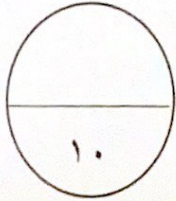
(ج) علل لما يأتي :-

١ - اهتمام الدولة الإسلامية بقطاع الصناعة . (ص ٢٧) درجة

من أجل استثمار الموارد الطبيعية المتوفرة بها .

٢ - تنوع الثروات الطبيعية في العالم الإسلامي . (ص ٦٧) درجة

- لان العالم الإسلامي يمتد على مساحات شاسعة من اليابسة وذو تنوع تضاريسي ومناخي .



" انتهت الإجابة "