





وزارة التربية

الإدارة العامة لمنطقة الفروانية التعليمية

التوجيه الفني للاجتماعيات

نموذج اجابة امتحان نهاية

الفترة الدراسية الأولى

الصف الثامن

للعام الدراسي : ٢٠١٩ / ٢٠٢٠ م

مقرر :

دولة الكويت والعالم الاسلامي

الزمن :

ساعة ونصف

عدد الأوراق : ٦

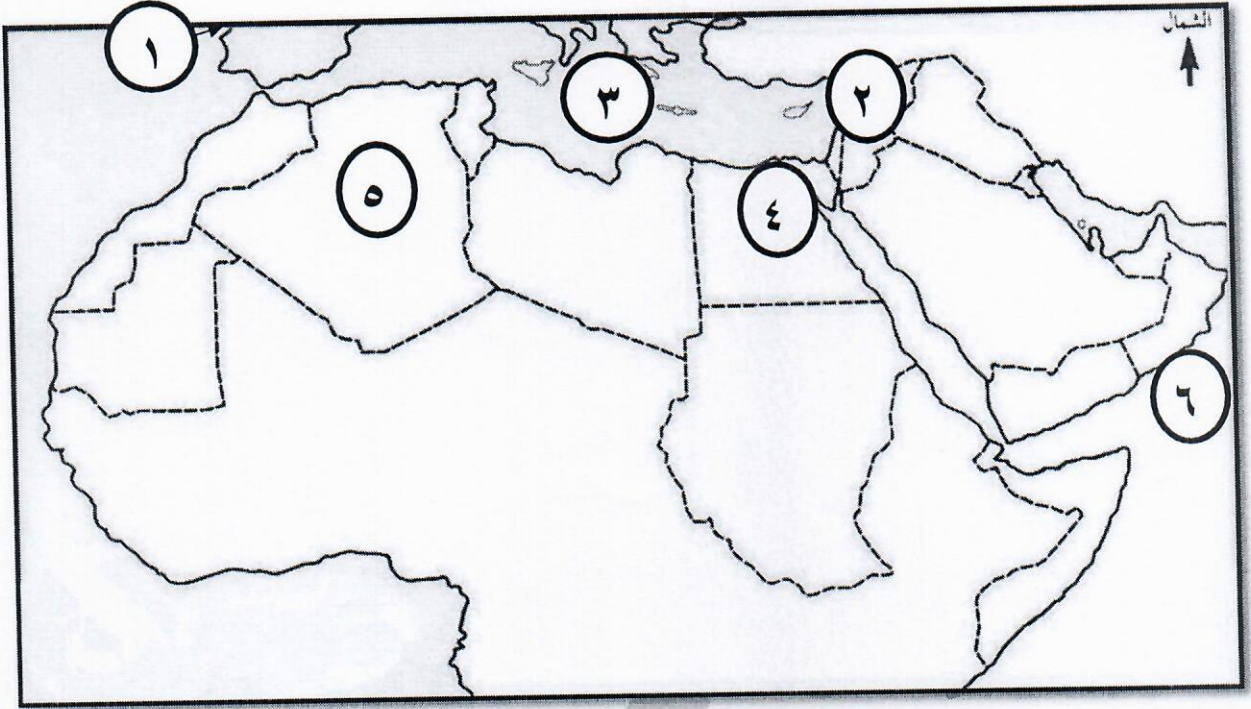
السؤال الأول : موضوعي ويتكون من (أ ، ب ، ج ، د ، هـ ، و)

أ) اختر البديل المناسب من بين البدائل التي تلي كل عبارة :

(٥ درجات)

- ١- مقر جامعة الزيتونة يقع في دولة إسلامية تسمى :
ص ٣٣ (أ - المغرب - ب- تونس - ج- سوريا - د - فلسطين)
 - ٢- العلوم العقلية التي ظهرت وتطورت في الحضارة الاسلامية تشمل :
ص ١٧ (أ - الرياضيات - ب - علوم الدين - ج - علوم التفسير - د - التاريخ)
 - ٣- الدولة الإسلامية التي تحتل المركز الأول في إنتاج الذهب حسب احصاء ٢٠١٤ م تسمى :
ص ٧٠ (أ - السودان - ب - أوزباكستان - ج - كازاخستان - د - إندونيسيا)
 - ٤- من أشهر المدن التي برع فيها المسلمون في مد المجاري الجوفية:
ص ٤٣ (أ - الشام - ب - بغداد - ج - مجريط - د - غرناطة)
 - ٥- الهضبة التي تمتد من ساحل المحيط الأطلسي غرباً إلى مرتفعات البحر الأحمر شرقاً تسمى :
ص ٥٧ (أ - الصحراء الكبرى - ب - الأناضول - ج - نجد - د - الشطوط)
- ب) صحح ما تحته خط في العبارات التالية بكتابة الإجابة الصحيحة بين الأقواس : (٥ درجات)
- ١- الدولة الإسلامية الوحيدة التي تقع في قارة أمريكا الجنوبية تسمى ألبانيا . (سورينام) ص ٥١
 - ٢- أول حاكم بعد وفاة الرسول صلى الله عليه وسلم عمر بن الخطاب (أبو بكر الصديق) ص ٢٥
 - ٣- يبلغ إنتاج العالم الإسلامي من الغاز الطبيعي بالنسبة للإنتاج العالمي ٤٦ % . (٣٦ %) ص ٦٧
 - ٤- مؤلف كتاب الجبر والمقابلة والذي يعد من أشهر علماء الجبر يسمى الرازي . (الخوارزمي) ص ٣٩
 - ٥- أحد أكبر مساجد العالم وأول القبلتين في الإسلام المسجد النبوي . (المسجد الأقصى) ص ٣٣

(ج) لاحظ خريطة العالم الإسلامي ، ثم اكتب مدلولات الأرقام التالية : (٥ درجات)

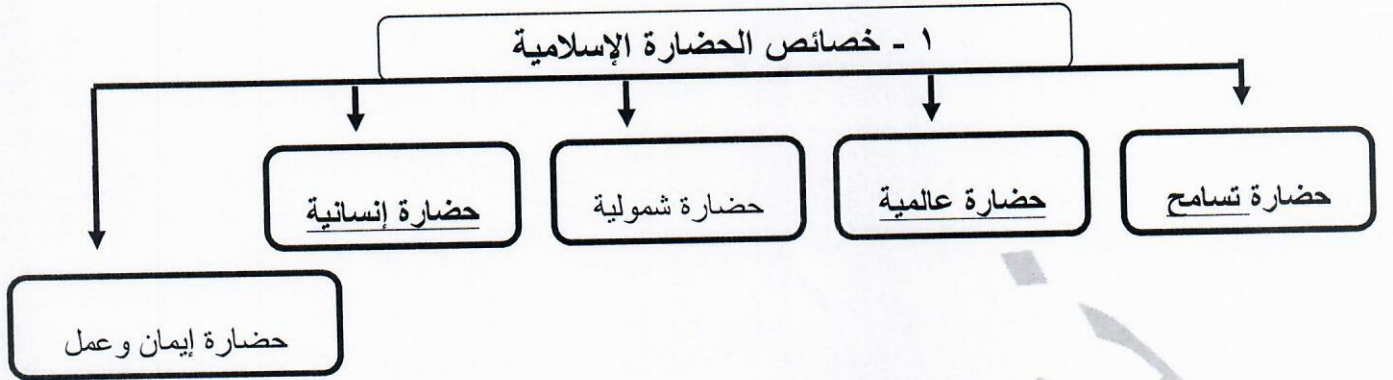


- بلاد الشام يمثلها على الخريطة الرقم (٢) ص ٤١
- مصر يمثلها على الخريطة الرقم (٤) ص ٦٨
- البحر المتوسط يمثلها على الخريطة الرقم (٣) ص ٧٤
- بلاد الأندلس يمثلها على الخريطة الرقم (١) ص ٤١
- بحر العرب يمثلها على الخريطة الرقم (٦) ص ٥٩

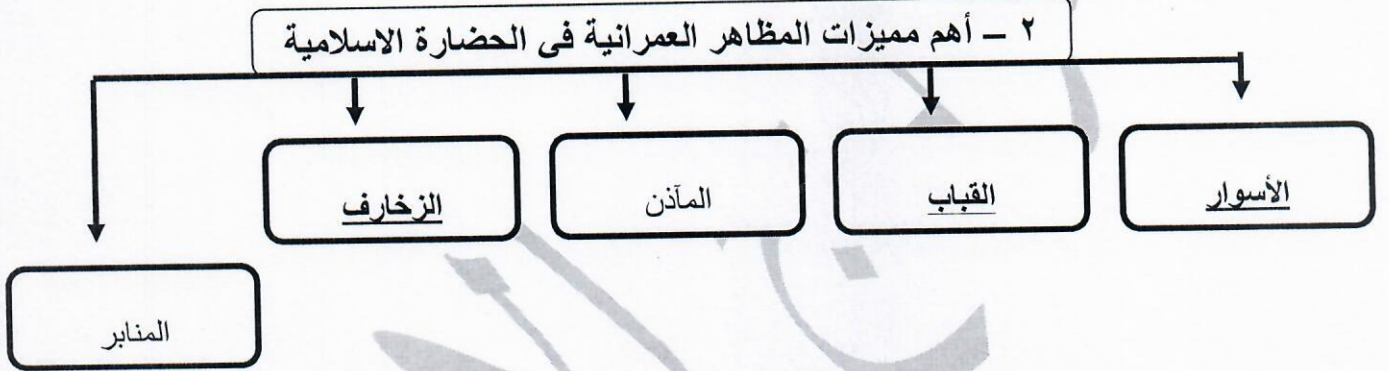
(د) أكمل العبارات التالية بما يناسبها فيما درست: (٥ درجات)

- ١- المدينة التي انطلقت منها الحضارة الإسلامية تسمى المدينة المنورة . ص ١٧
٢- العالم المسلم الذي اكتشف معادلة نصف قطر الأرض يسمى البيروني . ص ١٩
٣- المنصب الإداري الجديد الذي استحدث في عهد الخليفة عمر بن الخطاب يسمى المحتسب . ص ٢٥
٤- أصغر دول العالم الإسلامي من حيث المساحة تسمى جمهورية المالديف . ص ٥٢
٥- المحاصيل الزراعية التي تزرع من أجل التصدير تسمى الغلات النقدية . ص ٧٣

هـ) أكمل المخططات السهمية التالية : (٦ درجات) ص ٢٢ ، ٢٣



ص ٣٠



و) اكتب المفاهيم والمصطلحات الدالة على العبارات التالية : (٤ درجات)

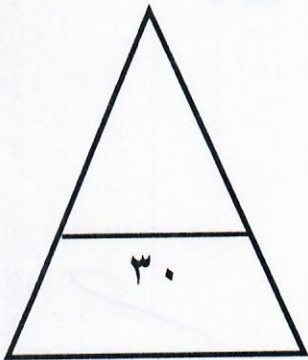
١- (الجزية) مبلغ مالي يدفعه الرجال غير المسلمين من (أهل الذمة) القادرون على حمل السلاح نظير حماية الدولة لهم . ص ٢٩

٢- (الحضارة) كل ما يطرأ على المجتمع من تقدم وتطور ورقي سواء في الجانب المادي أو الجانب الروحي . ص ١٨

٣- (الهضبة) أرض مرتفعة سطحها مستوٍ وتمتد لمساحة واسعة . ص ٥٣ + ٥٦

ص ٦٨

٤- (احتياطي النفط) كمية النفط المخزونة في باطن الأرض ولم تستخرج بعد .



السؤال الثاني : (مقال) ويتكون من (أ ، ب)

أ) : علل لما يأتي :

- ١- ازدهار العلم وظهور العلماء في الدولة الإسلامية . (درجتان) - يكتفى بنقطتين - ص ٣٧
- تشجيع العلماء ورعاية وتمويل القيادات السياسية لهم من خلفاء وملوك وسلاطين وأمراء .
- الرخاء الاقتصادي . - التنافس العلمي بين الدول الإسلامية .
- حركة التعريب (الترجمة) للكتب القديمة اليونانية والهندية والفارسية .
- ٢- تنوع المناخ في دول العالم الإسلامي . (درجتان) - يكتفى بنقطتين - ص ٦٣
- امتداد دول العالم الإسلامي على مساحة شاسعة . - الموقع بالنسبة لدوائر العرض .
- الإطلالة على عدة مسطحات مائية في معظم أجزائه . - التنوع في التضاريس من جبال وهضاب وسهول ووديان .

ب) اكتب فيما يلي مما درست :

- ١- أسس الحضارة الإسلامية . (درجتان) - يكتفى بنقطتين - ص ٢٠
- الدين الإسلامي . - اللغة العربية . - الحضارات الأخرى .
- ٢- جهود المسلمين في الزراعة . (درجتان) - يكتفى بنقطتين - ص ٢٦
- شق القنوات المائية والترع . - إقامة السدود . - تنظيم وسائل الري .
- ٣- العوامل التي ساعدت على زيادة الإنتاج الزراعي في دول العالم الإسلامي . (درجتان) - يكتفى بنقطتين - ص ٧٢
- التربة الخصبة . - المناخ . - وجود البحيرات والأنهار والآبار .
- سقوط الأمطار . - كثرة السكان والأيدي العاملة .

السؤال الثالث : (مقال) ويتكون من (أ ، ب)

(٤ درجات)

(أ) فرق بين كل مما يلي :

الطقس ص ٦٤	المناخ ص ٦٤
حالة الجو في مكان لمدة زمنية قصيرة تتراوح بين يوم أو عدة أيام من حيث درجة الحرارة والرطوبة والأمطار والضغط الجوي .	حالة الجو خلال فترة زمنية طويلة من حيث درجة الحرارة والرطوبة والأمطار والضغط الجوي .
السهول ص ٥٣	الوادي ص ٥٣
أجزاء فسيحة من سطح الأرض تتميز باستوائها وقلة ارتفاعها	حوض أو منخفض طبيعي على سطح الأرض

(ب) اجب عن الاسئلة التالية :

(٦ درجات)

- ١- عدد أهم المراكز العلمية في الحضارة الإسلامية .
- يكتفى بنقطتين - ص ٣٨
- المسجد الحرام في مكة المكرمة والمسجد النبوي في المدينة المنورة .
- بيت الحكمة في بغداد . - المرصد الفلكي في مراغة في أذربيجان .
- مجمع باي كاليان في مدينة بخارى في أوزبكستان .
- ٢- أذكر أهم الشخصيات الكويتية البارزة في مجال العمل الخيري والإنساني . - يكتفى بنقطتين - ص ٢٤
- سمو أمير البلاد الشيخ صباح الأحمد الصباح (قائد العمل الإنساني) .
- الداعية الدكتور عبد الرحمن السميطة .
(ما يراه المصحح مناسباً)
- ٣- ما أهمية السهول ؟ يكتفى بنقطتين - ص ٥٨
- استخدامها كموانئ طبيعية .
- تشييد المدن .
- تركيز السكان فيها لسهولة التنقل .



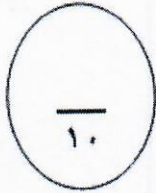
السؤال الرابع: (مقال) ويتكون من (أ ، ب)

- (أ) قارن بين العمان المدنية التالية حسب الجدول التالي : (٤ درجات)

وجه المقارنة	قصر عمرة ص ٣٤	قصر الرصافة ص ٣٥
ال خليفة الذي بناه	- يزيد بن الوليد .	- هشام بن عبد الملك .
الدولة التي يوجد بها	- الأردن	- سوريا .

(ب) علل لما يأتي : (٦ درجات)

- ١- لقيت التجارة تشجيعاً كبيراً في الحضارة الإسلامية .
- يكتفى بنقطتين - ص ٢٨
- لدورها الكبير في التبادل التجاري مع المناطق المجاورة .
- إسهامها في نشر الدين الإسلامي .
- امتلاك العالم الإسلامي موقعا استراتيجيا والعديد من الخطوط التجارية البرية والبحرية .
- ٢- قلة عدد السكان في المناطق الجبلية في دول العالم الإسلامي . - يكتفى بنقطتين - ص ٥٥
- شدة انحدارها . - قلة وجود الأكسجين . - صعوبة التنقل .
- ندرة المياه . - ارتفاع درجة الحرارة .
- ٣- تعدد وتنوع مصادر انتاج الاسماك في دول العالم الإسلامي . - يكتفى بنقطتين - ص ٧٤
- وجود المحيطات و البحار . (مصادر طبيعية)
- المياه العذبة . (مصادر طبيعية)
- الاستزراع السمكي . (مصادر غير طبيعية)



(انتهت الأسئلة)