



# مذكرة الصف الثاني عشر أدبي

مادة  
التاريخ

أسئلة امتحانات  
وإجاباتها النموذجية

الفترة الأولى

العام الدراسي  
2022-2021



وزارة التربية

التوجيه الفني العام للاجتماعيات

العام الدراسي : ٢٠١٩ / ٢٠٢٠ م

الزمن : ساعتان وربع

عدد الصفحات : (٦)

امتحان نهاية الفترة الدراسية الأولى

مقرر / تاريخ العالم الحديث والمعاصر

لصف الثاني عشر / القسم الأدبي

\*\*\*\*\*

أجب عن ( أربعة ) أسئلة فقط على أن يكون السؤال الأول منها ( إجبارياً ) :

السؤال الأول الموضوعي ( إجباري ) ويتكون من ( أ - ب - ج - د ) :

( أ ) أكمل العبارات التالية بما يناسبها فيما درست :

- ١- العام الذي قامت فيه الثورة المجيدة في إنجلترا هو ..... م .
- ٢- الحدث التاريخي الذي يعتبر بداية للعصور الوسطى عام ٤٧٦ م يسمى .....
- ٣- المكتشف الأوروبي الذي وصل إلى خط عرض ٧٢ شمالاً اسمه .....
- ٤- الأسطول الأسباني الذي تحطم على يد الإنجليز عام ١٥٨٨ م يسمى .....

( ب ) ضع خطأ تحت الخيار الصحيح من بين الخيارات التي تلي كل عبارة :

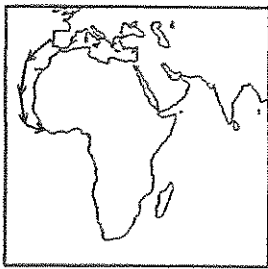
العالم الذي اخترع (الدينامو) عام ١٨٣١ م :

أ - الميكانيكي فولتا . ب - توماس أديسون . ج - بلانشارد . د - مايكل فاراداي

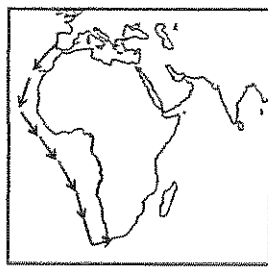
٢- الدولة التي فقدت استقلالها وضمت للتاج الأسباني عام ١٥٨٠ م :

أ - فرنسا . ب - البرتغال . ج - إيطاليا . د - إنجلترا .

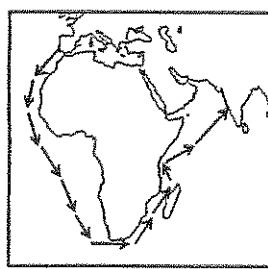
٣- الخريطة التي تمثل خط سير رحلة المكتشف بارثلميو دياز :



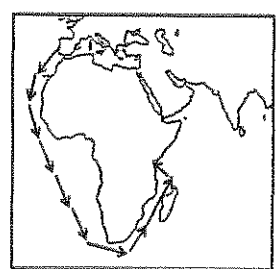
- أ -



- ب -

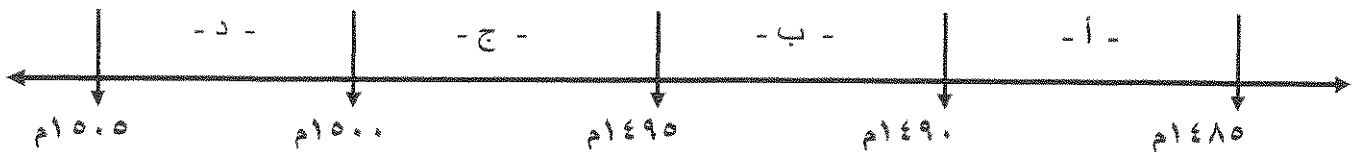


- ج -



- د -

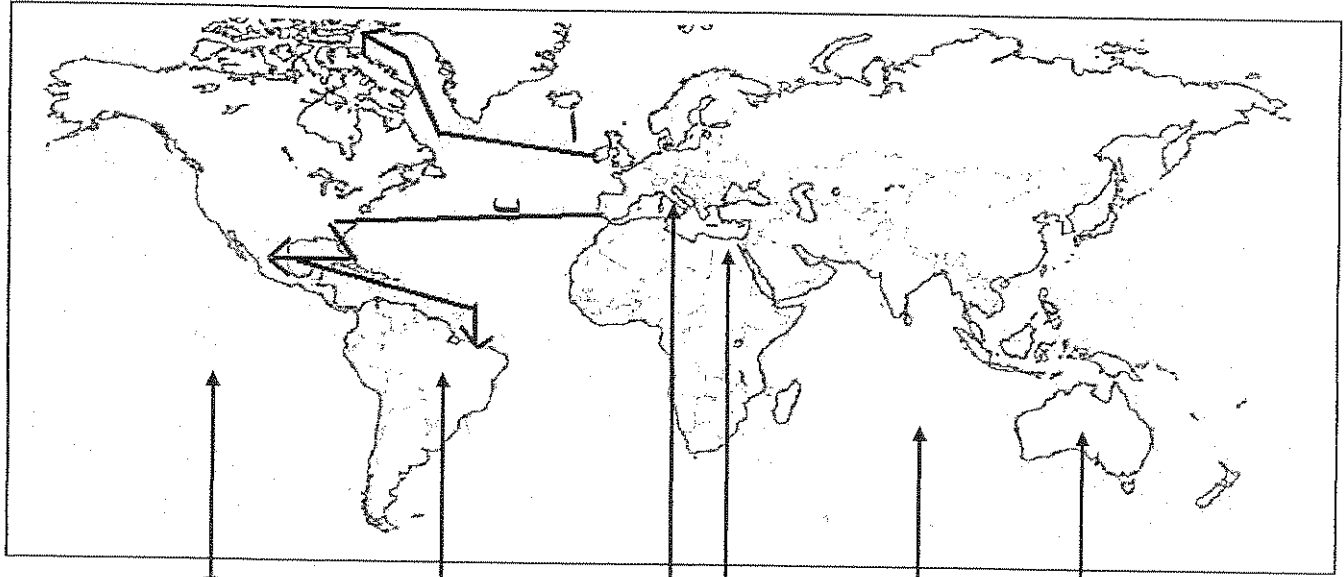
٤- الفترة الزمنية التي حدثت فيها رحلة جون كابوت يمثلها على المخطط الزمني الحرف :



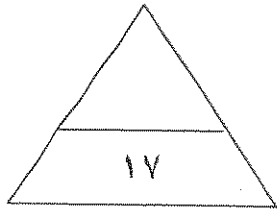
(ج) اختر للمجموعة (أ) ما يرتبط بها من المجموعة (ب) بوضع الرقم المناسب :

م	المجموعة (أ)	الرقم المناسب	المجموعة (ب)
١	المكتشف الذي تمكن من الوصول إلى القطب الشمالي .		مارتن فروبشير
٢	المكتشف الذي تمكن من اكتشاف مضيق هسن .		روبرت بيرى
٣	المكتشف الذي أثبت أن قارة أنتاركتيكا كتلة ضخمة مغطاة بالثلج .		روالد أموندسن
٤	المكتشف الذي تمكن من الوصول إلى القطب الجنوبي.		جون فرانكلين
			تشارلز ويلكز

(د) أمامك خريطة العالم الصماء اكتب الرقم الدال على العبارات التالية :



- \* خط سير رحلة أمريكو فسبوتشي يمثلها على الخريطة الحرف ( )
- \* الدولة التي انطلقت منها النهضة الأوروبية يمثلها على الخريطة الرقم ( )
- \* القارة التي وصل إليها المكتشف جيمس كوك يمثلها على الخريطة الرقم ( )
- \* أحد مراكز انتقال الحضارة العربية الإسلامية إلى أوروبا يمثلها على الخريطة الرقم ( )
- \* المحيط الذي عبره ماجلان يمثلها على الخريطة الرقم ( )



السؤال الثاني (اختياري) ويتكون من ( أ - ب - ج ) :

( أ ) عرف المفاهيم والمصطلحات التالية :

- ١- الثورة الصناعية : .....
- ٢- الاستعمار : .....
- ٣- الكرافيل : .....

( ب ) أجب عن الأسئلة التالية :

١- اذكر أهم حجج مارتن لوثر التي علقها على باب كنيسة وتنبرج .

- ..... \*
- ..... \*

٢- فسر : كان البرتغاليون أول من قام بحركة الكشوف الجغرافية في نهاية القرن الخامس عشر الميلادي .

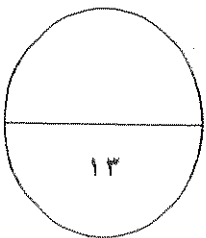
- ..... \*
- ..... \*

٣- عدد العوامل الاستراتيجية لقيام النظام الاستعماري الأوروبي .

- ..... \*
- ..... \*

( ج ) فرّق بين كل من :

العامل الاقتصادي لقيام النظام الاستعماري الأوروبي	الدافع الاقتصادي لحركة الكشوف الجغرافية
..... *	..... *
..... *	..... *



السؤال الثالث ( اختياري ) ويتكون من ( أ - ب - ج ) :

( أ ) عدد كلاً مما يلي :

١- الأعمال التي قام بها الأمير هنري الملاح للقيام بحركة الكشوف الجغرافية .

..... \*

..... \*

٢- جهود المفكرين الأوروبيين في إحياء الدراسات اليونانية القديمة .

..... \*

..... \*

٣- العوامل التي ساعدت البرتغاليين في تأسيس الإمبراطورية واحتكار تجارة الشرق .

..... \*

..... \*

( ب ) قارن بين كل من :

التميز العنصري	الاستيطان	أوجه الاختلاف
		التعريف
		مثال واحد فقط

( ج ) لاحظ الصورة التي أمامك ثم أجب عن الأسئلة التالية :

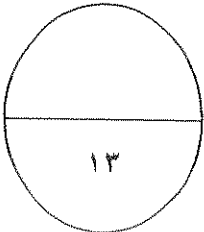

١- ما اسم الكتاب الذي ألفه ؟

..... \*

٢- ما أهم آرائه السياسية ؟

..... \*

..... \*



السؤال الرابع (اختياري) ويتكون من ( أ - ب - ج ) :

( أ ) نفذ المطلوب من بين الأقواس :

١- الثورة الصناعية . (النتائج السياسية)

..... \*

..... \*

٢- رحلة جاك كارتية . (المناطق المكتشفة)

..... \*

..... \*

٣- نمو المدن الأوروبية وازدهارها . (المراحل التي مرت بها)

..... \*

..... \*

( ب ) فند العبارات التالية :

١- لم تؤثر حركة مارتن لوثر على مكانة الكنيسة في أوروبا .

..... \*

..... \*

٢- لم يكن للاستعمار الأوروبي آثار سلبية على الدول المستعمره .

..... \*

..... \*

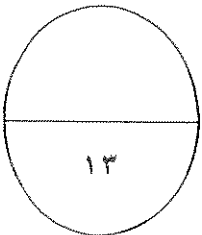
( ج ) كون فقرة مناسبة باستخدام الكلمات التالية :

١- ( القيود - العصور الوسطى - النهضة الأدبية - الإنسانيين )

..... -

.....

.....



تابع امتحان تاريخ العالم الحديث والمعاصر - الصف الثاني عشر الأدبي - الفترة الدراسية الأولى - العام الدراسي 2019 / 2020

السؤال الخامس (اختياري) ويتكون من ( أ - ب - ج ) :

( أ ) إقرأ الفقرة التالية ثم أجب عما يليها من أسئلة :

كان لرحلات الكشوف الجغرافية أثر كبير في التعرف على الكرة الأرضية وأقاليمها الجغرافية ، والتحقق من كثير من الأفكار والمعلومات الجغرافية المتصلة بها ، وتغيير جوانب كثيرة في حياة شعوب العالم مما أدى إلى ظهور الطبقة الرأسمالية وظهور تجارة الرق .

١- عرف ما تحته خط .

٢- استخرج من الفقرة : النتائج الاجتماعية للكشوف الجغرافية .

( ب ) علل لما يلي :

١- انهيار الإمبراطورية الاستعمارية الهولندية .

٢- رفض ملك البرتغال وملكة إسبانيا مشروع كريستوفر كولمبس .

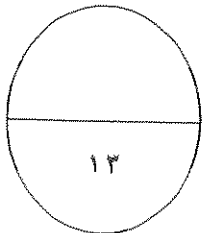
٣- إنطلاق الثورة الصناعية من إنجلترا .

( ج ) ماذا يحدث لو لم :

١- يخترع العالم الألماني " حنا جوتنبرج " أحرف الطباعة المعدنية .

٢- ينجح فاسكو دي جاما بالوصول إلى الهند عبر رأس الرجاء الصالح .

انتهت الأسئلة مع تمنياتنا بالتوفيق والنجاح ،،





وزارة التربية

التوجيه الفني العام للاجتماعيات

امتحان نهاية الفترة الدراسية الاولى

مقرر / تاريخ العالم الحديث والمعاصر

للفص الثاني عشر / القسم الأدبي

العام الدراسي : ٢٠١٩ / ٢٠٢٠ م

الزمن : ساعتان وربع

عدد الصفحات : (٦)

اجب عن ( اربعة ) أسئلة فقط على أن يكون السؤال الأول منها ( إجباريا ) :

السؤال الأول الموضوعي ( إجباري ) ويتكون من ( أ - ب - ج - د ) :

وزارة التربية



( أ ) أكمل العبارات التالية بما يناسبها فيما درست : ( ١ X ٤ = ٤ درجات )

١- العام الذي قامت فيه الثورة المجيدة في إنجلترا هو ١٦٨٩ م . ص ٦٢

٢- الحدث التاريخي الذي يعتبر بداية للعصور الوسطى عام ٤٧٦ م يسمى سقوط روما . ص ١١

٣- المكتشف الأوروبي الذي وصل إلى خط عرض ٧٢ شمالاً اسمه جون ديفيز . ص ٣٨

٤- الأسطول الأسباني الذي تحطم على يد الإنجليز عام ١٥٨٨ م يسمى الأرمادا . ص ٥٤

( ب ) ضع خطأ تحت الخيار الصحيح من بين الخيارات التي تلي كل عبارة : ( ١ X ٤ = ٤ درجات )

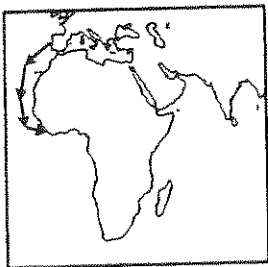
~~العالم الذي اخترع (الدينامو) عام ١٨٦١ م : ص ١٧~~

~~أ - الساندرو فونانا . ب - توماس أديسون . ج - بلاشارد . د - مايكل فاراداي~~

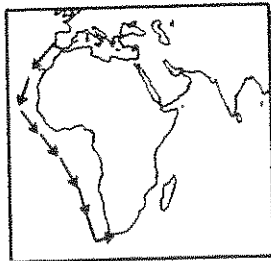
٢- الدولة التي فقدت استقلالها وضمت للتاج الأسباني عام ١٥٨٠ م : ص ٥٣

أ - فرنسا . ب - البرتغال . ج - إيطاليا . د - إنجلترا .

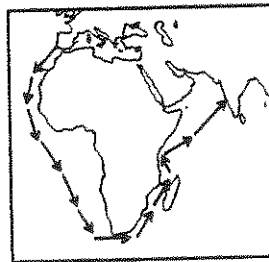
٣- الخريطة التي تمثل خط سير رحلة المكتشف بارثلميو دياز : ص ٢٨



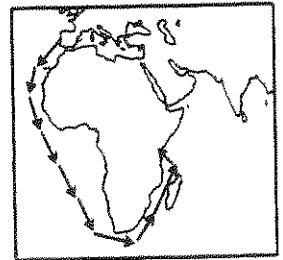
- د -



- ج -

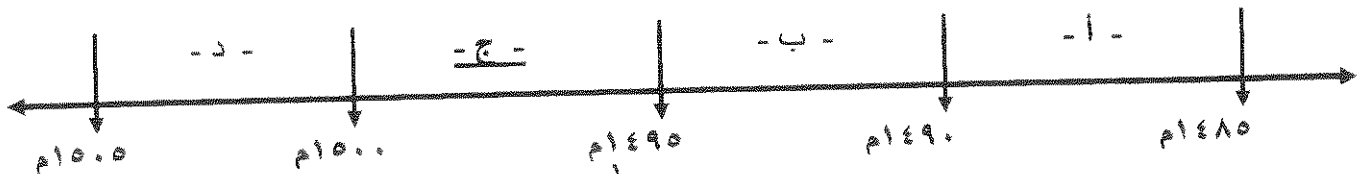


- ب -



- أ -

٤- الفترة الزمنية التي حدثت فيها رحلة جون كابوت يمثلها على المخطط الزمني الحرف : ص ٢٧

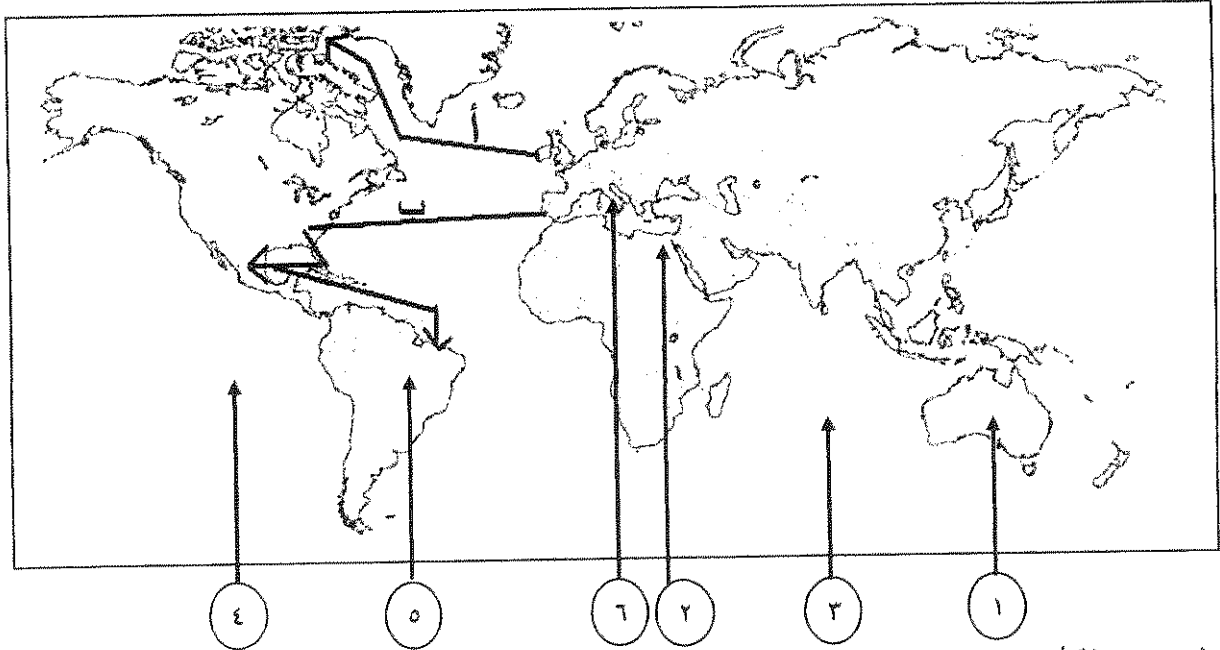




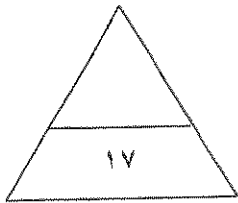
(ج) اختر للمجموعة (أ) ما يرتبط بها من المجموعة (ب) بوضع الرقم المناسب : ( ١ × ٤ = ٤ درجات )

م	المجموعة (أ)	الرقم المناسب	المجموعة (ب)
١	المكتشف الذي تمكن من الوصول إلى القطب الشمالي . ص ٤٢	٢	مارتن فروبشير
٢	المكتشف الذي تمكن من اكتشاف مضيق هسن . ص ٣٧	١	روبرت بيرى
٣	المكتشف الذي أثبت أن قارة أنتاركتيكا كتلة ضخمة مغطاة بالثلج . ص ٤٣	٤	روالد أمونسن
٤	المكتشف الذي تمكن من الوصول إلى القطب الجنوبي. ص ٤٣	--	جون فرانكلين
		٣	تشارلز ويلكز

(د) أمامك خريطة العالم الصماء اكتب الرقم الدال على العبارات التالية : ( ١ × ٥ = ٥ درجات )



- \* خط سير رحلة أمريكو فسبوتشي يمثلها على الخريطة الحرف (ب) ص ٣٤
- \* الدولة التي انطلقت منها النهضة الأوروبية يمثلها على الخريطة الرقم (٦) ص ١٢
- \* القارة التي وصل إليها المكتشف جيمس كوك يمثلها على الخريطة الرقم (١) ص ٣٩
- \* أحد مراكز انتقال الحضارة العربية الإسلامية إلى أوروبا يمثلها على الخريطة الرقم (٢) ص ١٤
- \* المحيط الذي عبره ماجلان يمثلها على الخريطة الرقم (٤) ص ٣٥



**السؤال الثاني (اختياري) ويتكون من ( أ - ب - ج ) :**

**( أ ) عرف المفاهيم والمصطلحات التالية : ( ٣ درجات )**

- ١- الثورة الصناعية : عملية تغيير شامل في أدوات الإنتاج ووسائله وحجمه وعلاقاته ومستواه وتبدل كامل في أساليب التمويل والتسويق والتوزيع . ص ٦١
- ٢- الاستعمار : سيطرة دولة ما بالاتفاقيات السياسية أو القوة العسكرية أو القوة الاقتصادية أو المال أو التفوق التكنولوجي والعلمي على دولة أو عدة دول وتستغل مواردها وثرواتها لصالحها . ص ٤٩
- ٣- الكرافيل : سفن عملاقة تميزت بكبر حمولتها واستعمالها لعدد أكبر من الأشرعة وازدياد القدرة على المغامرة وسط المحيطات . ص ٢٦

**( ب ) أجب عن الأسئلة التالية :**

- ١- انكر أهم حجج مارتين لوثر التي علقها على باب كنيسة وتبرج . ص ٢٠ ( درجتان ويكتفى بنقطتين )  
\* معارضة فكرة صكوك الغفران . \* رفض احتكار البابا لتفسير الكتاب المقدس .  
\* طلب إنقاص عدد الأبيرة . \* عارض الحج إلى روما . \* المطالبة بالسماح بزواج رجال الدين .
- ٢- فسر : كان البرتغاليون أول من قام بحركة الكشوف الجغرافية في نهاية القرن الخامس عشر الميلادي .  
\* توافر الأدوات اللازمة من علم وخبرة وسفن متطورة . ص ٢٧ ( درجتان )  
\* استقرار الوضع في بلادهم لذلك وجهوا اهتمامهم لاكتشاف طريق جديد خارج نطاق البحر المتوسط .
- ٣- عدد العوامل الاستراتيجية لقيام النظام الاستعماري الأوروبي . ص ٥٠ ( درجتان ويكتفى بنقطتين )  
\* استغلال المواقع الاستراتيجية لإقامة المحطات التجارية والقواعد العسكرية .  
\* حماية خطوط المواصلات البحرية .  
\* توفير خدمات للسفن التجارية .

**( ج ) فرّق بين كل من :**

<p><b>العامل الاقتصادي لقيام النظام الاستعماري الأوروبي</b> ص ٥٠</p>	<p><b>الدافع الاقتصادي لحركة الكشوف الجغرافية ص ٢٥</b></p>
<p>- رغبة الدول الأوروبية الاستعمارية في الحصول على المواد الأولية والأيدي العاملة الرخيصة لتشغيل المصانع بعد قيام الثورة الصناعية . - تصريف المنتجات الصناعية الأوروبية في أسواق المستعمرات . - العمل على استثمار أموالهم في المستعمرات .</p> <p>( درجتان ويكتفى بنقطتين )</p>	<p>- البحث عن التوابل . - محاولة تخطي الوساطة التجارية الإسلامية وسيطرتها على طرق التجارة . - الوصول إلى منابع التجارة الآسيوية والأفريقية . - حاجة الأوروبيين إلى المزيد من الذهب والفضة ( مجاعة نقدية ) . - الحروب التي عانت منها أوروبا في آخر القرن الخامس عشر وترتب عليها حدوث أزمة اقتصادية في أوروبا . - العثور على أراض جديدة للسيطرة عليها لإيواء من ضاقت بهم أوطانهم بسبب زيادة عدد السكان .</p> <p>( درجتان ويكتفى بنقطتين )</p>



### السؤال الثالث ( اختياري ) ويتكون من ( أ - ب - ج ) :



( أ ) عدد كلاً مما يلي :

- ١- الأعمال التي قام بها الأمير هنري الملاح للقيام بحركة الكشوف الجغرافية . ص ٢٧ ( درجتان ويكتفى بنقطتين )
    - \* أنشأ مدرسة بحرية التي اهتمت بتطوير الأدوات التي استخدمت في عملية الكشوف الجغرافية كالأهتمام برسم الخرائط .
    - \* أنشأ مرصداً بحرياً في الطرف الجنوبي لشاطئ البرتغال .
    - \* جلب علماء الرياضيات ورسامي الخرائط والفلكيين من إيطاليا وصقلية .
    - \* استعان بالمسلمين الذين كانت لهم دراية في المجال البحري .
  - ٢- جهود المفكرين الأوروبيين في إحياء الدراسات اليونانية القديمة . ص ١٥ ( درجتان ويكتفى بنقطتين )
    - \* تبادل علماء القسطنطينية وإيطاليا الزيارات العلمية بحثاً عن العلوم والفنون الإغريقية والإيطالية .
    - \* تنافس الأمراء والأثرياء في إنشاء المكتبات مما أدى إلى ازدهار مكتبات البندقية وفلورنسا إلى جانب مكتبة الفاتيكان .
    - \* ظهور الأكاديميات العلمية في إيطاليا مما ساعد على إثراء الحركة العلمية .
    - \* جهود أسرة آل مديتشي في فلورنسا وأسرة سوفرزا في ميلانو في رعاية الحركة العلمية والأدبية والفنية .
    - \* اختراع أحرف الطباعة المعدنية على يد الألماني ( حنا جوتنبرج ١٣٩٦ - ١٤٦٨ م ) أدى إلى سهولة طباعة الكتب وتداولها مما ساهم في نشر جهود العلماء وفي مختلف المجالات .
  - ٣- العوامل التي ساعدت البرتغاليين في تأسيس الإمبراطورية واحتكار تجارة الشرق . ص ٥٣ ( درجتان ويكتفى بنقطتين )
    - \* انشغال الدولة العثمانية بحربها مع الصفويين .
    - \* عدم توحيد القوى الإسلامية الكبرى ( الدولة العثمانية - الصفوية - المملوكية ) . \* تفكك بلاد الهند .
    - \* استخدم البرتغاليون قوة السلاح والبارود والأساطيل الضخمة ، حيث لم تكن متوفرة لدى شعوب الشرق .
- ( ب ) قارن بين كل من : ص ٥١ ( ٤ درجات )

أوجه الاختلاف	الاستيطان	التمييز العنصري
التعريف	هجرة مجموعة من سكان دولة أجنبية قوية إلى دولة ضعيفة وتملك الأرض بطرد السكان المحليين ، وتكون الهجرة على شكل إرساليات تنصيرية / تجار / سياح ...	أسلوب استعماري قائم على التفرقة بين الناس بسبب اللون أو الجنس أو الدين حيث مورست فيه ألوان من القهر والاستعباد .
مثال واحد فقط	- هجرة الأوروبيين للعالم الجديد وطرد الهنود الحمر . - هجرة الأوروبيين لأستراليا وطرد السكان الأصليين . - الغزو الصهيوني لفلسطين . ( يكتفى بمثال )	- جنوب أفريقيا . - فلسطين وممارسات الصهاينة . ( ويكتفى بمثال )

( ج ) لاحظ الصورة التي أمامك ثم أجب عن الأسئلة التالية :

- ١- ما اسم الكتاب الذي ألفه ؟ ص ٢١ . ( درجة )  
\* كتاب ( الأمير ) .
- ٢- ما أهم أرائه السياسية ؟ ص ٢١ . ( درجتان )  
\* تأييد نظام الحكم المطلق القائم على نظرية التفويض الإلهي .  
\* إقرار مبدأ ( أن الغاية تبرر الوسيلة ) .



التوجيه الفني العام للإجتماعيات

السؤال الرابع (اختياري) ويتكون من ( أ - ب - ج ) :

( أ ) نفذ المطلوب من بين الأقواس :

١- الثورة الصناعية . ص ٦٩ ( النتائج السياسية ) ( درجتان ويكتفى بنقطتين )

- \* سيطرة الطبقة الرأسمالية على مقاليد السلطة السياسية في أوروبا .
- \* التسابق الاستعماري حول المستعمرات لجلب المواد الخام منها وجعلها أسواقاً للإنتاج الصناعي .
- \* ظهور الأحزاب السياسية المدافعة عن حقوق العمال .

٢- رحلة جاك كارتييه . ص ٤٠ ( المناطق المكتشفة ) ( درجتان ويكتفى بنقطتين )

- \* اكتشف كندا . \* اكتشف نهر سانت لورنس وجزيرة أورليانز . \* وصل إلى ما وراء نهر سانت لورنس وهي منطقة تسمى حالياً مونتريال . \* أسس مدينة كوبيك .

٣- نمو المدن الأوروبية وازدهارها . ص ١٦ ( المراحل التي مرت بها ) ( درجتان ويكتفى بنقطتين )

- \* تحالف المدن الصغيرة في شكل كومونات مما منحها الاستقلال والقوة السياسية .
- \* ظهور الطبقة الوسطى ( البرجوازية ) التي تحالفت مع الملوك لتحطيم النظام الإقطاعي مما أحدث تغييراً كبيراً في ملامح المدن الأوروبية سياسياً واقتصادياً واجتماعياً .
- \* قيام ثورة ثقافية من خلال إنشاء المدارس في المدن بعيداً عن سيطرة الأديرة .

( ب ) فُند العبارات التالية :

١- لم تؤثر حركة مارتن لوثر على مكاتبة الكنيسة في أوروبا . ص ٢٠ ( درجتان ويكتفى بنقطتين )

- \* قيام صراع كبير بين أتباعه والكنيسة وما صاحب ذلك من ثورات وحروب .
- \* نبهت إلى أهمية تحرير الكنيسة من مفسدها . \* التخلص من هيمنتها المطلقة على حياة الناس في أوروبا .

٢- لم يكن للاستعمار الأوروبي آثار سلبية على الدول المستعمره . ص ٥٧ ( درجتان ويكتفى بنقطتين )

- \* قامت القوى الاستعمارية باستغلال مستعمراتها واستفادت منها اقتصادياً .
- \* قامت القوى الحاكمة في عدد من المستعمرات بتعطيل الهياكل الاقتصادية التقليدية وتغييرها .
- \* ألزمو المستعمرات بإنتاج المواد الخام وشراء معظم السلع المصنعة من الدول الحاكمة .
- \* حطم المستعمرون الأنشطة التجارية والصناعية في المستعمرات .
- \* فقد شعوب المستعمرات القدرة على التحكم في مقدراتها الاقتصادية .
- \* توقف التحسن في مستوى المعيشة .
- \* فرض ثقافتهم على الشعوب المستعمرة .

( ج ) كون فقرة مناسبة باستخدام الكلمات التالية : ( ثلاث درجات )

- ١- ( القيود - العصور الوسطى - النهضة الأدبية - الإنسانيين ) ص ١٧
- انطلقت النهضة الأدبية من خلال الاهتمام بدراسة الإنسان باعتباره محور الحياة وذلك لتخليصه من القيود التي كبلت فكره وحطت من مكانته خلال العصور الوسطى ، وقد ظهر ذلك من خلال جهود الإنسانيين الذين عبروا في كتاباتهم الأدبية عن صورة الإنسان الذي يتصف بالإبداع والثقة في النفس والمحب للحياة بجوانبها المشرقة . ( أو ما يراه المصحح مناسباً )



**السؤال الخامس (اختياري) ويتكون من ( أ - ب - ج ) :**

**( أ ) اقرأ الفقرة التالية ثم أجب عما يليها من أسئلة :**

كان لرحلات الكشوف الجغرافية أثر كبير في التعرف على الكرة الأرضية وأقاليمها الجغرافية ، والتحقق من كثير من الأفكار والمعلومات الجغرافية المتصلة بها ، وتغيير جوانب كثيرة في حياة شعوب العالم مما أدى إلى ظهور الطبقة الرأسمالية وظهور تجارة الرق .

١- عرف ما تحته خط . ص ٢٥ ( درجة )

- حركة قام بها الأوروبيون خلال القرنين الخامس عشر والسادس عشر الميلاديين للتعرف على أراض جديدة لم تكن معروفة لهم من قبل في المعمورة .

٢- استخرج من الفقرة : النتائج الاجتماعية للكشوف الجغرافية . ص ٤٦ ( درجتان )

\* ظهور الطبقة الرأسمالية .

\* ظهور تجارة الرق .

**( ب ) علل لما يلي :**

١- انهيار الإمبراطورية الاستعمارية الهولندية . ص ٥٥ ( درجتان ويكتفى بنقطتين )

\* الهولنديون أمة صغيرة ، غير قادرة على حماية الإمبراطورية التي تم تأسيسها بشكل كبير تجاوز حدود إمكاناتهم .

\* كان اعتمادهم الأول على التجارة مما أدى لإهمال قطاعي الزراعة والصناعة .

\* سياستهم الاستبدادية في المستعمرات .

\* منافسة الدول الأوروبية الجديدة لها مثل إنجلترا وفرنسا .

٢- رفض ملك البرتغال وملكة إسبانيا مشروع كريستوفر كولمبس . ص ٣١ ( درجتان )

\* ملك البرتغال رفض بسبب توصية مستشاريه الذين رأوا أنه لا ضرورة للبحث عن طرق جديدة .

\* ملكة إسبانيا رفضت بسبب لأنها مشغولة بالحرب مع المسلمين في الأندلس .

٣- إنطلاق الثورة الصناعية من إنجلترا . ص ٦٢ ( درجتان ويكتفى بنقطتين )

\* الاستقرار الداخلي . \* وفرة رأس المال . \* سهولة الحصول على المواد الخام . \* وجود القوى المحركة .

\* الأيدي العاملة الرخيصة . \* تشجيع العلماء والمخترعين . \* وجود أسطول تجاري كبير .

**( ج ) ماذا يحدث لو لم :**

١- يخترع العالم الألماني " حنا جوتنبرج " أحرف الطباعة المعدنية . ص ١٥ ( درجتان ويكتفى بنقطتين )

\* لما أدى إلى سهولة طباعة الكتب وتداولها .

\* لما ساهم في نشر جهود العلماء في مختلف المجالات .


٢- ينجح فاسكو دي جاما بالوصول إلى الهند عبر رأس الرجاء الصالح . ص ٢٩ ( درجتان )

\* لما حقق أمل البرتغال في كشف طريق مباشر في الوصول إلى الهند خارج ديار المسلمين وكانت أكبر ضربة اقتصادية

وجهت للعالم الإسلامي .

\* لما أصبحت البرتغال في مركز متقدم في منطقة المحيط الهندي التجارية .

انتهت الأسئلة مع تمنياتنا بالتوفيق والنجاح ،،



وزارة التربية

التوجيه الفني العام للإجتماعيات



وزارة التربية

امتحان نهاية الفترة الدراسية الأولى  
لمقرر تاريخ العالم الحديث والمعاصر  
للسف الثاني عشر / القسم الأدبي

العام الدراسي ٢٠١٨/٢٠١٩ م  
الزمن: ساعتان وربع  
عدد الأوراق: ٦

اجب عن ( اربعة ) اسئلة فقط على ان يكون السؤال الأول منها (اجبارياً):

السؤال الأول (اجباري) ويتكون من ( ا - ب - ج - د ):

أ) أكمل العبارات التالية فيما درست:

١- القارة الوحيدة الغير أهلة بالسكان والتي بقيت مجهولة بالنسبة للعالم حتى أوائل القرن التاسع عشر اسمها .....

٢- الرحالة الذي وصل إلى خط عرض ٧٢ شمالاً اسمه .....

٣- الاختراع الذي توصل إليه العالم "توماس إديسون" عام ١٨٧٧م اسمه .....

٤- المحور الأساسي للدخل القومي في أوروبا قبل الثورة الصناعية يسمى .....

٥- القارة التي وصل " جيمس كوك" إلى سواحلها الشرقية في رحلته الأولى تسمى .....

ب) ضع خطأ تحت الخيار الصحيح من بين الخيارات التي تلي كل عبارة:

١- المجال الذي اشتهر فيه الفنان "مايكل أنجلو":

أ- العمارة      ب- التصوير      ج- النحت      د- الرسم

٢- الرحالة الذي اكتشف نهر " بيس" و بحيرة "سليف الكبرى":

أ- تشارلز ويلكز      ب- روالد أموندسن      ج- الكسندر ماكينزي      د- صمويل هيرن

٣- العام الذي قامت فيه الثورة المجيدة في إنجلترا:

أ- ١٦٨٧م      ب- ١٦٨٨م      ج- ١٦٨٩م      د- ١٦٩٠م

٤- أول شعب أوروبي قام بتأسيس إمبراطورية استعمارية فيما وراء البحار:

أ- الأسبان      ب- البرتغاليون      ج- الإيطاليون      د- الإنجليز

ج) صوب ما تحته خط في العبارات التالية:

١- الشكل الذي تحالفت فيه المدن الأوروبية الصغيرة مما منحها الاستقلال والقوة السياسية يسمى البرجوازية ( )

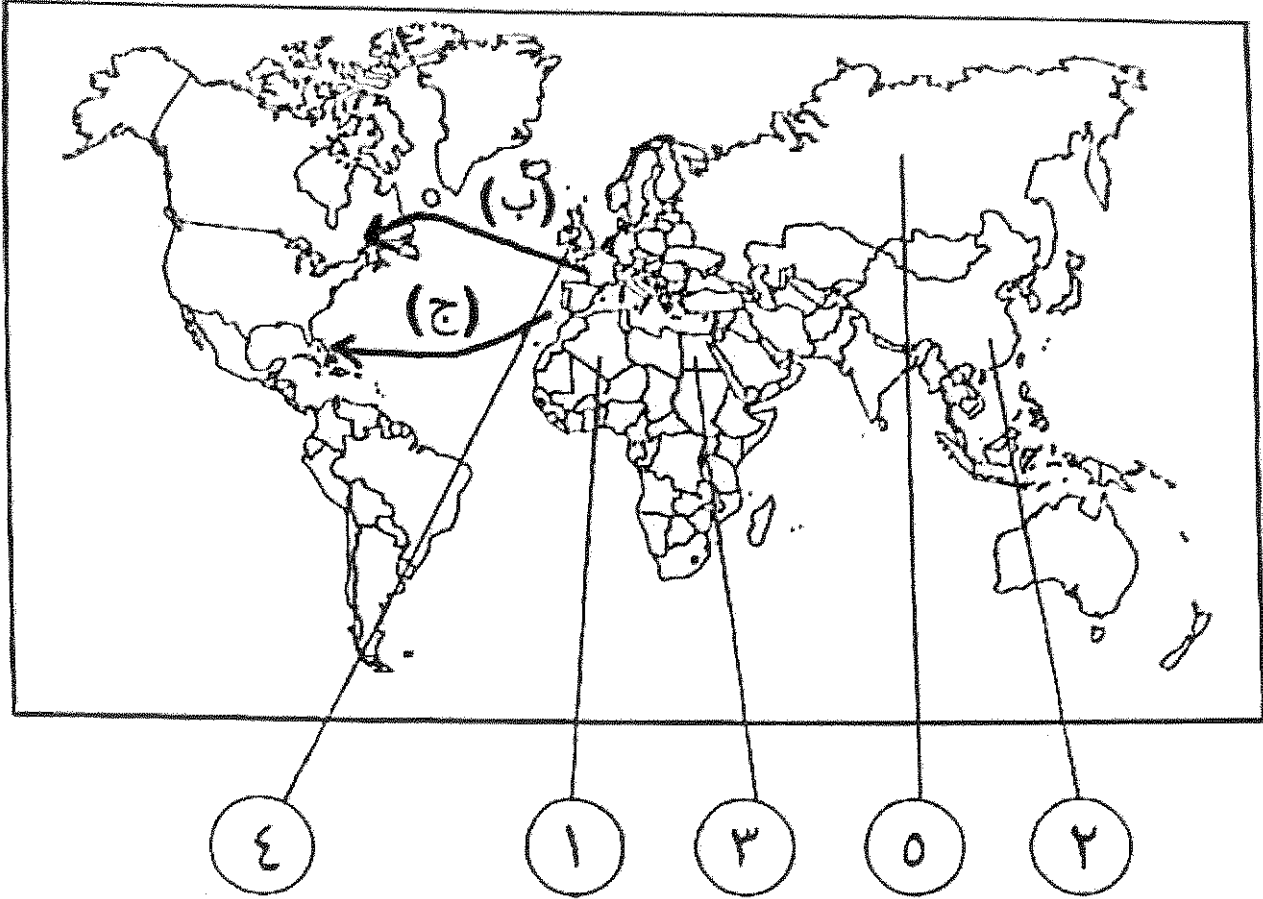
٢- حاجة الأوربيين إلى المزيد من الذهب والفضة كانت تسمى أزمة اقتصادية ( )

٣- الميثاق الذي فرضت فيه الدول المستعمرة على المستعمرات عدم المتاجرة إلا مع البلد المستعمر وتأمين المحاصيل له وما هو ضروري لقيام الصناعة يعرف باسم الاستيطان ( )

٤- الأراء المضادة للفكر الرأسمالي تسمى الإمبريالية ( )

تابع السؤال الأول ( الإجابى ) :

د) أمامك خريطة العالم السياسية الصماء اكتب الرقم أو الحرف الدال على العبارات التي تليها:

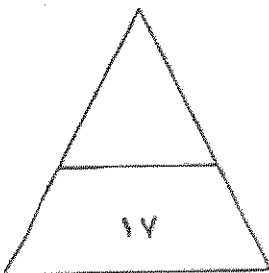


- الدولة التي يقع فيها ميناء بريستول يمثلها على الخريطة الرقم .....

- الدولة التي تعرضت للغزو العسكري عام ١٨٨٢م يمثلها على الخريطة الرقم .....

- الدولة الاستعمارية التي اشتهرت في العمل بتجارة الفراء يمثلها على الخريطة الرقم .....

- خط سير رحلة المكتشف " جاك كارتيه " يمثلها على الخريطة الحرف .....



السؤال الثاني ( اختياري ) ويتكون من ( أ - ب - ج ) :

أ) علل لما يلي :

١- ثورة الهولنديين ضد الحكم الأسباني في القرن السادس عشر الميلادي .

.....

٢- تقسيم المجتمع الأوروبي إلى مجتمع طبقي في العصور الوسطى .

.....

٣- ضعف القوة البحرية الأسبانية في الربع الأخير من القرن السادس عشر الميلادي .

.....

ب) فرق بين كل مما يلي:

الكشوف الجغرافية البرتغالية من حيث الاتجاه	الكشوف الجغرافية الأسبانية من حيث الاتجاه
الانتداب	الوصاية
نظرية بطليموس	نظرية نيكولاس كوبرنيكوس

ج) ما تفسيرك لما يلي:

١- احتكار البرتغاليين لتجارة الشرق وتأسيسهم لإمبراطوريتهم .

.....

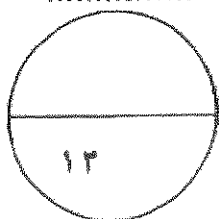
.....

٢- اعتبر المؤرخون سقوط العاصمتين (روما والقسطنطينية) نقطتي تحول في التاريخ .

.....

\* روما : .....

\* القسطنطينية : .....





السؤال الثالث ( اختياري ) ويتكون من ( أ - ب - ج ) :

أ) ماذا يحدث لو لم:

١- ينادي "مارتن لوثر" بإصلاح أوضاع الكنيسة .

.....  
.....

٢- يصل الملاح " بارثلميو دياز " إلى الساحل الجنوبي لقارة أفريقيا .

.....

٣- تقع حرب السنين السبع بين إنجلترا وفرنسا ( ١٧٥٦ - ١٧٦٣ م ) .

.....

ب) اكتب النتائج الاقتصادية المترتبة على كل مما يلي:

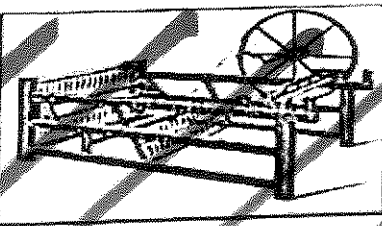

١- حركة الكشوف الجغرافية .

.....  
.....  
.....

٢- الثورة الصناعية .

.....  
.....

ج) قارن بين كل من:

		أوجه الاختلاف
.....	.....	اسم الاختراع
.....	.....	أثر الاختراع

السؤال الرابع ( اختياري ) ويتكون من ( أ - ب - ج ):

( ا ) دال على صحة العبارات التالية:

١- واجه مشروع " كريستوفر كولومبس " العديد من العقبات قبل تنفيذه.

.....  
.....

٢- بذل المفكرون الأوروبيون جهدا كبيرا في إحياء الدراسات اليونانية القديمة .

.....  
.....  
.....

( ب ) عرف المفاهيم والمصطلحات التالية :

١- الإنسانيين :

.....

٢- الكرافيل :

.....

٣- المعاهدات والاتفاقيات الخاصة :

.....

٤- الثورة الصناعية :

.....

( ج ) ما دور كل من الشخصيات التالية:

١- أمريكو فسبوتشي :

.....

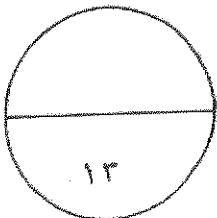
.....

.....

.....

٣- لويس الرابع عشر :

.....



السؤال الخامس ( اختياري ) ويتكون من ( أ - ب - ج ) :

( أ ) فند العبارات التالية:

١- اقتصرت آثار الاستعمار على الجانب السلبي فقط بالنسبة للمستعمرات .

.....  
.....

٢- انتهت رحلة " فاسكو دي جاما " دون أن تحقق آمال البرتغاليين .

.....  
.....

٣- ~~لم تسهم الثورة الصناعية بأي اختراعات في مجال النقل .~~

.....  
.....  
.....

( ب ) نفذ المطلوب منك ما بين الأقواس:

١- العوامل التي ساعدت على قيام الثورة الصناعية في إنجلترا. ( عندها )

.....  
.....

٢- دور هنري الملاح في قيام حركة الكشوف الجغرافية. ( أعماله قبل الرحلة )

.....  
.....

( ج ) اقرأ الفقرة التالية ثم أجب عما يليها من أسئلة:

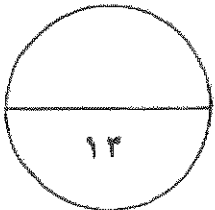
" أسهمت كل من ( إيطاليا ، البرتغال ) و إنجلترا في إبراز ملامح تاريخ أوروبا الحديث والمعاصر حيث كان لهذه الدول دور الريادة في العديد من المجالات التي ساهمت بشكل أو بآخر في تشكيل ملامح العالم الحديث والمعاصر . "

- ما الدور الريادي الذي لعبته كل من الدول التالية:

إيطاليا : .....

البرتغال : .....

( انتهت الأسئلة )





وزارة التربية

امتحان نهاية الفترة الدراسية الأولى

التوجيه الفني العام للاجتماعيات لمقرر تاريخ العالم الحديث والمعاصر  
للفص الثاني عشر / القسم الأدبي

العام الدراسي ٢٠١٨/٢٠١٩م

الزمن: ساعتان وربع

عدد الأوراق: ٦

( نموذج إجابة )

أجب عن ( أربعة ) أسئلة فقط على أن يكون السؤال الأول منها ( إجبارياً ) :  
السؤال الأول ( إجباري ) ويتكون من ( أ - ب - ج - د ) :-

أ) أكمل العبارات التالية فيما درست: ( ١٧ × ١ = ١٧ درجة )

١- القارة الوحيدة الغير آهلة بالسكان والتي بقيت مجهولة بالنسبة للعالم حتى أوائل القرن التاسع عشر اسمها أنتاركتيكا ص ٤٣

٢- الرحالة الذي وصل إلى خط عرض ٧٢ شمالاً اسمه جون ديفيز ص ٣٨

٣- الاختراع الذي توسل به العالم " توماس إديسون " العام ١٨٧٧م اسمه المصباح الكهربائي ص ٦٧

٤- المحور الأساسي للدخل القومي في أوروبا قبل الثورة الصناعية يسمى الزراعة ص ٦١

٥- القارة التي وصل " جيمس كوك " إلى شمالها الشرقية في رحلته الأولى تسمى أستراليا ص ٣٩

ب) ضع خطأ تحت الخيار الصحيح من بين الخيارات التي تلي كل عبارة:

١- المجال الذي اشتهر فيه الفنان " مايكل أنجلو " ص ١٨

د- الرسم

ج- النحت

ب- التصوير

أ- العمارة

٢- الرحالة الذي اكتشف نهر " بيس " وبحيرة " سليف الكبرى " ص ٤٢

د- صمويل هيرن

ج- الكيندر ماكينزي

ب- روالد أموندسن

أ- تشارلز ويلكز

٣- العام الذي قامت فيه الثورة المجيدة في إنجلترا: ص ٦٢

د- ١٦٩٠م

ج- ١٦٨٩م

ب- ١٦٨٨م

أ- ١٦٨٧م

٤- أول شعب أوروبي قام بتأسيس إمبراطورية استعمارية فيما وراء البحار: ص ٥٣

د- الإنجليز

ج- الإيطاليون

ب- البرتغاليون

أ- الأسبان

ج) صوب ما تحته خط في العبارات التالية :

١- الشكل الذي تحالفت فيه المدن الأوروبية الصغيرة مما منحها الاستقلال والقوة السياسية يسمى البرجوازية .. ( الكومونات ص ١٦ )

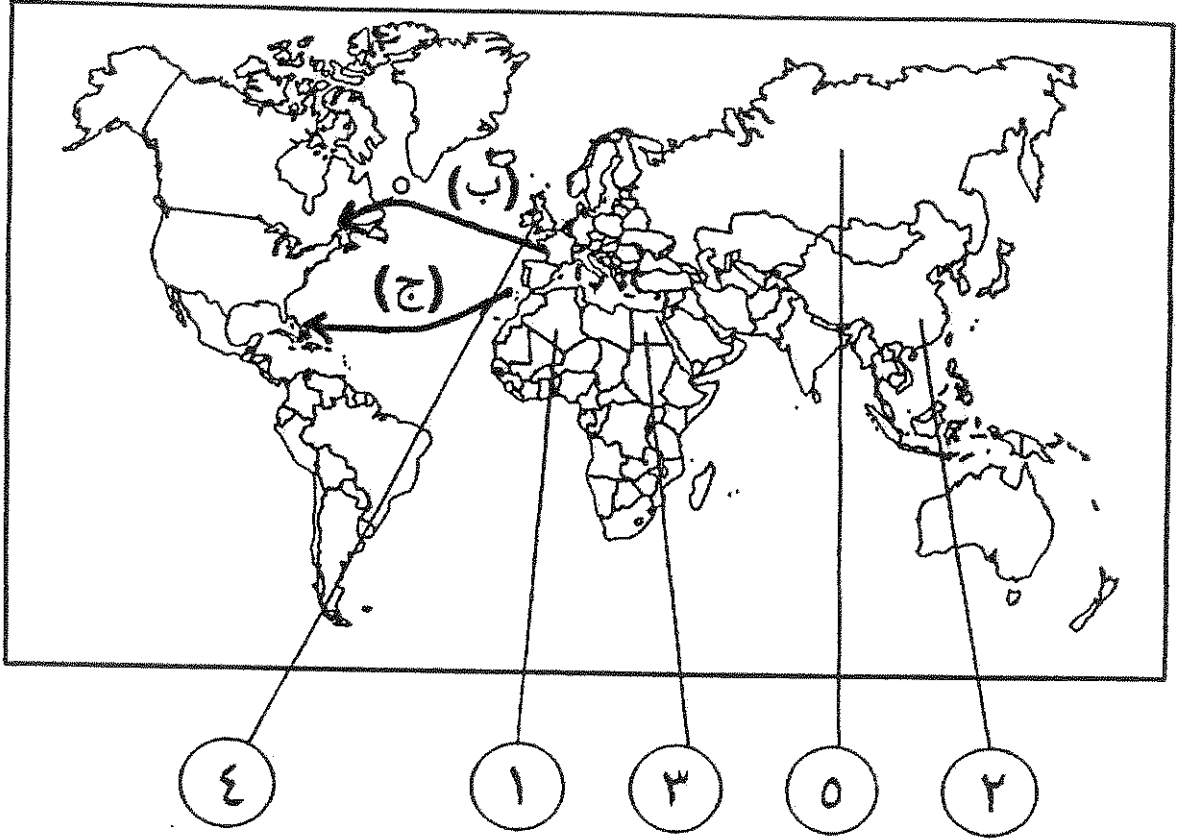
٢- حاجة الأوربيين إلى المزيد من الذهب والفضة كانت تسمى أزمة اقتصادية .... - (مراجعة نقدية ص ٢٥)

٣- الميثاق الذي فرضت فيه الدول المستعمرة على المستعمرات عدم المتاجرة إلا مع البلد المستعمر وتأمين المحاصيل له وما هو هذا الميثاق يعرف باسم الإستيطان .... (الميثاق الاستعماري ص ٥٦)

٤- الآراء القائدة للفكر الرأسمالي تسمى الإمبريالية ... ( الاشتراكية ص ٦٩ )



تابع / السؤال الأول ( الإجابى ) :  
د) أمامك خريطة العالم السياسية الصماء اكتب الرقم أو الحرف الدال على العبارات التى تليها:



- الدولة التي يقع فيها ميناء بريستول يمثلها على الخريطة الرقم (٤) ص ٣٧
- الدولة التي تعرضت للغزو العسكري عام ١٨٨٢م يمثلها على الخريطة الرقم (٣) ص ٥١
- الدولة الاستعمارية التي اشتهرت في العمل بتجارة الفراء يمثلها على الخريطة الرقم (٥) ص ٥٦
- خط سير رحلة المكتشف "جاك كارتيه" يمثلها على الخريطة الحرف (ب) ص ٤٠



**السؤال الثاني ( اختياري ) ويتكون من ( أ - ب - ج ) : ( ١٣ × ١ = ١٣ درجة )**  
**أ) علل لما يلي :**

- ١- ثورة الهولنديين ضد الحكم الأسباني في القرن السادس عشر الميلادي. ص ٥٥  
- تعرضهم للاضطهاد على يد الأسبان بعد اعتناقهم المذهب البروتستانتي مع ظهور حركة الإصلاح الديني.
- ٢- تقسيم المجتمع الأوروبي إلى مجتمع طبقي في العصور الوسطى. ص ١١  
- بسبب ظهور النظام الإقطاعي الذي تسبب في تقسيم المجتمع الأوروبي إلى مجتمع طبقي.
- ٣- ضعف القوة البحرية الأسبانية في الربع الأخير من القرن السادس عشر الميلادي. ص ٥٤  
- تحطم الإسطول الأسباني " الأرمادا " على يد الإنجليز عام ١٥٨٨ م .

**ب) فرق بين كل مما يلي :**

الكشوف الجغرافية البرتغالية من حيث الاتجاه ص ٣١	الكشوف الجغرافية الأسبانية من حيث الاتجاه ص ٣١
اتخذوا الاتجاه غربا وذلك بعبور المحيط الأطلسي للوصول إلى القارة الآسيوية لتحقيق هدفهم	اتجه البرتغاليون في كشوفهم الجغرافية إلى الشرق لتحقيق أهدافهم
الوصاية ص ٥١	الانتداب ص ٥١
ظهر في أعقاب الحرب العالمية الثانية عام ١٩٤٥م فقد وضعت المناطق التي كانت تحت النفوذ الألماني والأطلسي الياباني تحت وصاية دولة من اختيار الأمم المتحدة	ظهر أثر انتهاء الحرب العالمية الأولى عام ١٩١٩م حيث انتدبت الدول المنتصرة لإدارة شؤون الأقطار التي تحكمها الدولة العثمانية أو ألمانيا لهزيمتهما بالحرب بحجة الأخذ بيدها نحو التطور والاستقلال.
نظرية نيكولاس كوبرنيكوس ص ٤٦	نظرية بطليموس ص ٤٦
الشمس هي محور الكون وأن الكواكب الأخرى بما فيها الأرض تسير في مسارات حول الشمس.	الأرض محور الكون و بنى عليها أن الشمس والقمر والكواكب الأخرى تدور حول الأرض.

**ج) ما تفسيرك لما يلي :**

- ١- احتكار البرتغاليين لتجارة الشرق وتأسيسهم لإمبراطوريتهم. ص ٥٣ (يكتفى بإجابتين)  
- انشغال الدولة العثمانية بحربها مع الصفويين .  
- عدم توحيد القوى الإسلامية الكبرى (الدولة العثمانية - الصفوية - المملوكية) - تفكك بلاد الهند .  
- استخدم البرتغاليون قوة السلاح والبارود والأساطيل الضخمة حيث لم تكن متوفرة لدى شعوب الشرق .
- ٢- اعتبر المؤرخون سقوط العاصمتين ((روما والقسطنطينية)) نقطتي تحول في التاريخ. (ص ١١، ١٢)  
- سقوط روما على يد القبائل الجرمانية عام ٤٧٦م بداية العصور الوسطى .  
- قرار الفتح العثماني لمدينة القسطنطينية عاصمة الإمبراطورية البيزنطية عام ١٤٥٣م بداية عصر النهضة والعصور الحديثة.



السؤال الثالث ( اختياري ) ويتكون من ( أ - ب - ج ) : ( ١٣ × ١ = ١٣ درجة )

أ) ماذا يحدث لو لم :

١- يفادي "مارتن لوثر" بإصلاح أوضاع الكنيسة ص ٢٠ (يكتفى بإجابتين)  
- لما قام صراع بين أتباعه والكنيسة - لما قامت ثورات وحروب داخل أوروبا - لما تم المطالبة بتحرير الكنيسة من المفساد والتخلص من هيمنتها المطلقة على حياة الناس في أوروبا (وما يراه المصحح مناسباً)

٢- يصل الملاح "بارثولميوديو" إلى الساحل الجنوبي لقارة أفريقيا ص ٢٨  
- لم يكتشف البرتغاليون رأس العواصف (رأس الرجاء الصالح) (وما يراه المصحح مناسباً)

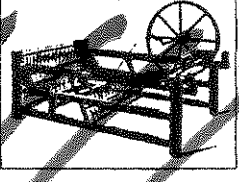
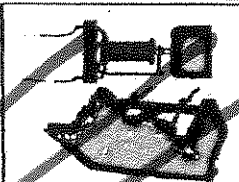
٣- تقم حرب السبعين بين إنجلترا وفرنسا ١٧٥٦-١٧٦٣ م . ص ٥٥  
- لما انفردت إنجلترا في المستعمرات بكل من الهند وأمريكا الشمالية على حساب فرنسا (وما يراه المصحح مناسباً)

ب) اكتب النتائج الاقتصادية المترتبة على كل مما يلي:

١- حركة الكشوف الجغرافية. ص ٥٥ (يكتفى بثلاث إجابات)  
- تحول طرق التجارة العالمية بين أوروبا وآسيا فقد ضعفت مكانة البحر المتوسط تجارياً .  
- تدفق الثروات من البضائع ومن المعادن الثمينة (الذهب والفضة) على أوروبا مما أدى إلى ارتفاع كبير في أسعار المواد الغذائية فتضررت الفئات العامة والفلاحون بشكل كبير طيلة القرن السادس عشر الميلادي بفعل عدم التوازن ما بين العرض والطلب واهتمت كبار التجار وازدادت أهمية البنوك ولتحت الطبقة البرجوازية التجارية.  
- نتيجة لتوفير البضائع والمال وازدياد النشاط التجاري الاقتصادي قامت صناعات جديدة مما أدى إلى زيادة رؤوس الأموال، ومن هنا ظهرت الحاجة إلى الحصول على مستعمرات لتصريف مصنوعات الدولة، والحصول على المعادن والمواد الأولية اللازمة للصناعة .  
- ظهور البورصات المالية على نطاق عالمي وازدياد نشاط دور المصارف .

٢- الثورة الصناعية. ص ٦٩ (يكتفى بإجابتين)  
- قيام المصانع الكبيرة التي تعتمد على الصناعة الآلية مما أدى إلى زيادة الإنتاج .  
- انتعاش النشاط الاقتصادي من خلال حركة البنوك والوكالات التجارية ومراكز التوزيع والتسويق .  
- اتساع النشاط التجاري العالمي - ارتفاع الدخل القومي نتيجة لزيادة عائدات التجارة .  
- ظهور المدن الصناعية واتساع حركة العمران في أوروبا . - سيادة النظام الاقتصادي الرأسمالي .

ج) قارن بين كل من :

		أوجه الاختلاف
ص ٦٣	ص ٦٨	اسم الاختراع
آلة يدوية للغزل	الهاتف (التليفون)	أثر الاختراع
غزل ثمانية خيوط	الاتصالات الهاتفية (التليفونية)	السمات



السؤال الرابع ( اختياري ) ويتكون من ( أ - ب - ج ) : ( ١٣ x ١ = ١٣ درجة )

(أ) دال على صحة العبارات التالية:

- ١- واجه مشروع "كريستوفر كولومبس" العديد من العقبات قبل تنفيذه. ص ٣١  
- رفض ملك البرتغال مشروعه بناء على توصية مستشاريه الذين رأوا أنه لا ضرورة للبحث عن طرق جديدة.  
- رفض ملك أسبانيا فرديناند والملكة إيزابيلا بسبب انشغالها بالحرب مع المسلمين في الأندلس.
- ٢- بذل المفكرون الأوروبيون جهداً كبيراً في إحياء الدراسات اليونانية القديمة. ص ١٥ (يكتفي بثلاث إجابات)  
- تبادل علماء القسطنطينية وإيطاليا الزيارات العلمية بحثاً عن العلوم والفنون الإغريقية والإيطالية.  
- تنافس الأمراء والأثرياء في إنشاء المكتبات مما أدى إلى ازدهار مكتبات البندقية وفلورنسا إلى جانب مكتبة الفاتيكان.  
- ظهور الأكاديميات العلمية في إيطاليا مما ساعد على إثراء الحركة العلمية.  
- جهود أسرة (أل منديس) في فلورنسا وأسرة (سوفرزا) في ميلانو في رعاية الحركة العلمية والأدبية والفنية.  
- اختراع أحرك الطباعة المعدنية على يد (جان جوتنبرج) مما أدى إلى سهولة طباعة الكتب وتداولها ونشر جهود العلماء في مختلف المجالات.

(ب) عرف المفاهيم و المصطلحات التالية:

- ١- الإنسانيين: ص ١٧  
هم أبناء عبروا في كتاباتهم الأدبية عن صورة الإنسان الذي يتصف بالإبداع والثقة في النفس والمحب للحياة بجوانبها المشرقة.
- ٢- الكرافيل: ص ٢٦  
سفن عملاقة تميزت بكبر حمولتها واستعمالها لعدد كبير من الأشرعة وازدياد القدرة على المغامرة وسط المحيطات.
- ٣- المعاهدات والاتفاقيات الخاصة: ص ٥١  
عقد معاهدات حماية بين دولة أوروبية (المستعمرة) والدولة الضعيفة بحيث ستر من الحجج والأسباب.
- ٤- الثورة الصناعية: ص ٦١  
هي عملية تغيير شامل في أدوات الإنتاج ووسائله وحجمه وعلاقته ومستواه وبشكل كامل في أساليب التمويل والتسويق والتوزيع.


(ج) ما دور كل من الشخصيات التالية:

- ١- أمريكي فسبوتشي: ص ٣٤ (يكتفي بإجابتين)  
- اكتشاف ساحل المكسيك.  
- اكتشاف جزر الساحل الشرقي للولايات المتحدة وساحل أمريكا الجنوبية.  
- وصل إلى البرازيل وأكد فيما بعد أنه قد وصل إلى عالم جديد وفي عام ١٥٠٧ م سمي هذا العالم الجديد "أمريكا" نسبة إليه ..

~~٢- كريستوفر كولومبس: ص ٣١  
- رفض ملك البرتغال مشروعه بناء على توصية مستشاريه الذين رأوا أنه لا ضرورة للبحث عن طرق جديدة.~~

٣- لويس الرابع عشر: ص ٥٥

١- قامت شركة الهند الشرقية للفرنسية عام ١٦٦٤م بتشجيع من الملك لويس الرابع عشر وبرأس مال كبير من خزانة الدولة.





السؤال الخامس ( اختياري ) ويتكون من ( أ - ب - ج ) : ( ١٣ x ١ = ١٣ درجة )

( أ ) فند العبارات التالية :

- ١- اقتصر آثار الاستعمار على الجانب السلبي فقط بالنسبة للمستعمرات. ص ٥٧ (يكتفى بإجابتين)
  - حقق المستعمرون شيئا من التنمية الاقتصادية للمستعمرات .
  - انخلوا إليها طرق الزراعة والصناعة والعلوم الطبية الغربية .
  - ربط المستعمرات بالنظام الاقتصادي الدولي .
  - أدخلت النظام الديمقراطي بالحكم في هذه المستعمرات .
- ٢- انتهت رحلة " فاسكو دي جاما " دون أن تحقق آمال البرتغاليين. ص ٢٩
  - حقق أمل البرتغاليين في كشف طريق مباشر للوصول للهند خارج ديار المسلمين وكانت أكبر ضربة اقتصادية وجهت للعالم الإسلامي .
  - أصبحت البرتغال في مركز متميز في منطقة المحيط الهندي التجارية .
- ٣- لم تسهم الثورة الصناعية بأي اختراعات في مجال النقل. ص ٦٥ (يكتفى بثلاث إجابات)
  - اختراع السفن البخارية - القاطن البخارية - محرك ريشي الأشواط اختراع سيارة البنزين - محرك الاحتراق الداخلي .

( ب ) نفذ المطلوب منك ما بين الأقواس :

- ١- العوامل التي ساعدت على قيام الثورة الصناعية في إنجلترا. (ص ٦٢) (يكتفى بإجابتين) (عدّها)
  - الاستقرار الداخلي - وفرة رأس المال - سهولة الحصول على المواد الخام - وجود القوى المحركة - تشجيع العلماء والمخترعين - وجود أسطول تجاري كبير - الأيدي العاملة المتخصصة
- ٢- دور هنري الملاح في قيام حركة الكشوف الجغرافية. ص ٢٧ (يكتفى بإجابتين) (أعمل قبل الرحلة)
  - إنشاء مرصدا بحريا جنوب البرتغال - إنشاء مدرسة بحرية اهتمت بتطوير الأدوات اللازمة التي استخدمت في عملية الكشوف الجغرافية كالاتمام برسم الخرائط - جلب علماء الرياضيات ورسامي الخرائط والفلكيين من صقلية وإيطاليا - استعان بالمسلمين الذين كانت لهم دراية في المجال البحري .


( ج ) اقرأ الفقرة التالية ثم أجب عما يليها من أسئلة :

" أسهمت كل من (إيطاليا ، البرتغال ) و إنجلترا في إبراز ملامح تاريخ أوروبا الحديث والمعاصر حيث كان لهذه الدول دور الريادة في العديد من المجالات التي ساهمت بشكل أو بآخر في تشكيل ملامح العالم الحديث والمعاصر ."

- ما الدور الريادي الذي لعبته كل من الدول التالية:

إيطاليا: انطلقت منها حركة النهضة ثم انتقلت إلى كافة أنحاء أوروبا ص ١٢

البرتغال: أول من قام بحركة الكشوف الجغرافية في نهاية القرن الخامس عشر ميلادي ولها دور كبير في الوصول إلى الهند ص ١١





وزارة التربية

امتحان نهاية الفترة الدراسية الأولى

العام الدراسي : ٢٠١٧ - ٢٠١٨ م

زمن الامتحان : ساعتان وربع

عدد الأوراق : ٦ أوراق

التوجيه الفني العام للاجتماعيات للصف الثاني عشر أدبي  
لمادة تاريخ العالم الحديث والمعاصر

أجب على أربعة أسئلة مما يلي على أن يكون السؤال الأول من بينها إجبارياً :-

السؤال الأول : ( إجباري ) يتكون من ( أ ، ب ، ج ، د ) :-

أ) ضع خطاً تحت الخيار الصحيح من بين الخيارات التي تلي كل عبارة :-

١- شاعر إيطالي تأثر بقصة المعراج ورسالة الغفران للشاعر العربي أبي العلاء المعري :

أ- أرازموس      ب- بوكاشيو      ج- بترارك      د- دانتي

٢- ملاح تمكن من الوصول إلى القطب الشمالي عام ١٩٠٩ م :

أ- روبرت بيرري      ب- روالد أموندسن      ج- روبرت ماكلور      د- جون فرانكلين

٣- منطقة تمكن أمريكي فسيوتشي من الوصول إليها في أمريكا الجنوبية :

أ- الأرجنتين      ب- البرازيل      ج- تشيلي      د- فنزويلا

٤- العام الذي سقطت فيه الإمبراطورية الرومانية على يد القبائل الجرمانية :

أ- ٤٧٦ م      ب- ٤٧٧ م      ج- ٤٧٨ م      د- ٤٧٩ م

~~عالم اخترع المكوك الطائر عام ١٧٢٣ م :~~

~~أ- جيمس هارجرينز      ب- جون كي      ج- ريتشارد أركرايت      د- جيمس وات~~

ب) أكمل العبارات التالية بما يناسبها فيما درست :-

~~١- فنان متعهد المراهب أطلق عليه لقب ( عبقري النهضة ) اسمه .....~~

٢- جزر وصل إليها الملاح جيمس كوك عام ١٧٧٦ م اسمها .....

٣- مكتشف أثبت أن قارة أنتاركتيكا عبارة عن كتلة ضخمة مغطاة بالثلج اسمه .....

٤- دولة استعمارية تمكنت من إخضاع سيبيريا والعمل بتجارة الفراء اسمها .....

~~٥- الاختراع الذي تم وصل البرق بالإنسان اسمه .....~~

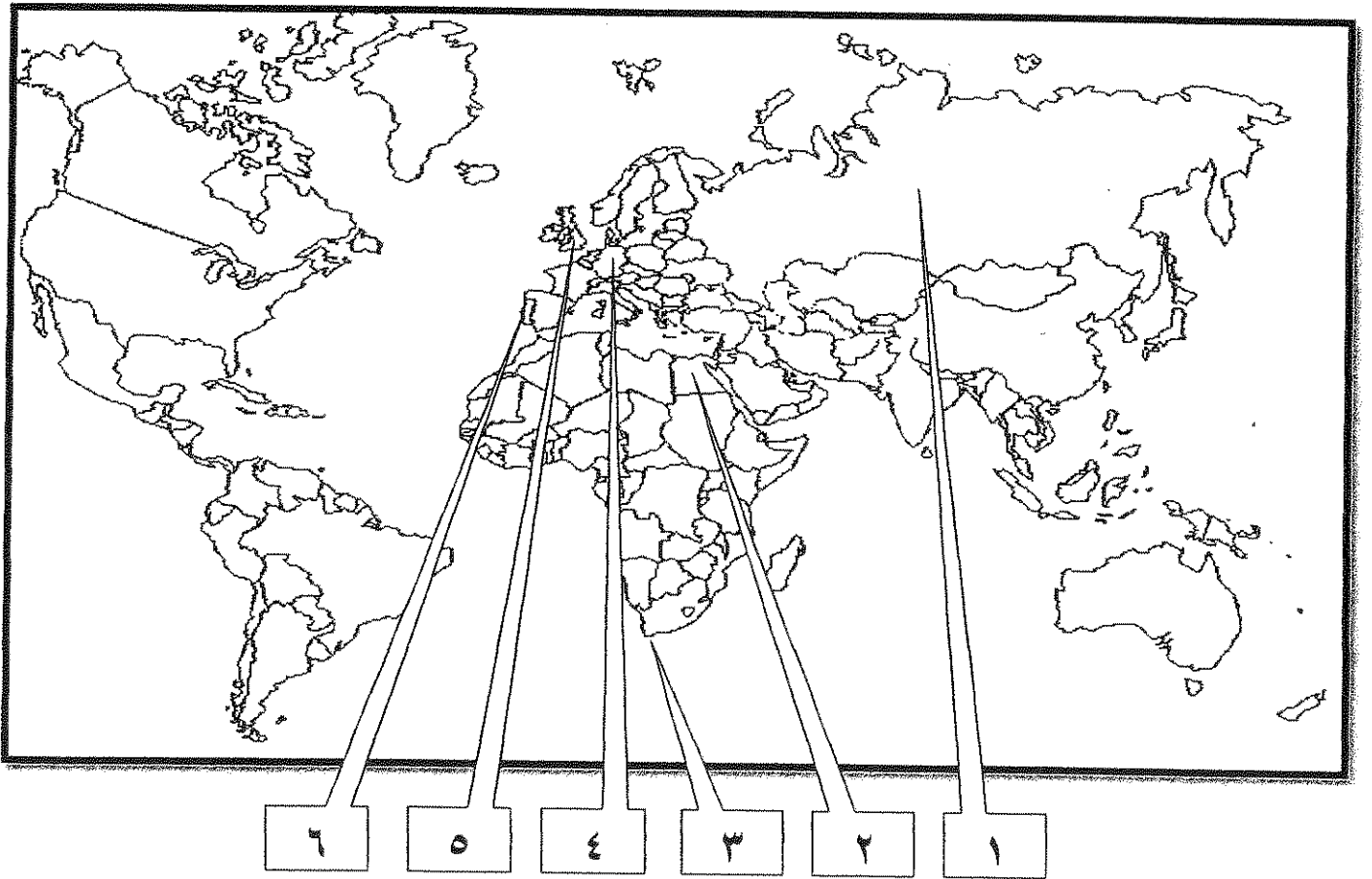
تابع السؤال الأول ( إجباري ) :-

ج ( صنف الشخصيات التالية حسب مكانها المناسب بالجدول التالي :-

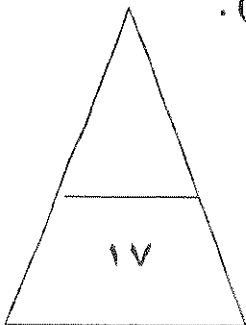
( ماجلان - جاك كارتية - هنري الملاح - مارتن فروبشير - جون ديفيز )

الكشوف البرتغالية	الكشوف الاسبانية	الكشوف الانجليزية	الكشوف الفرنسية
.....-	.....-	.....-	.....-
.....-	.....-	.....-	.....-

د ( أمامك خريطة العالم الصماء - أكتب الرقم الدال على العبارات التي تليها:-



- ١- مركز للحضارة الإسلامية أمد أوروبا بأعظم الانجازات العلمية والأدبية والفنية يمثلها على الخريطة رقم ( ) .
- ٢- منطقة تمكن الملاح بارتلميودياز من الوصول لها عام ١٤٨٨ م يمثلها على الخريطة رقم ( ) .
- ٣- دولة استعمارية سيطرت على هرمز عام ١٥٠٧ م يمثلها على الخريطة رقم ( ) .
- ٤- مركز انطلاق الثورة الصناعية في أوروبا يمثلها على الخريطة رقم ( ) .



السؤال الثاني ( اختياري ) يتكون من ( أ ، ب ، ج ) :-

( أ ) دلل على صحة العبارات التالية :-

١ - اسبقت إيطاليا في حركة النهضة الأوروبية .

.....  
.....

٢ - للاستعمار آثار سلبية على الدول المستعمرة .

.....  
.....

٣ - الفكرة الصناعية أثر على مجال النقل من حيث الاختراع .

.....  
.....

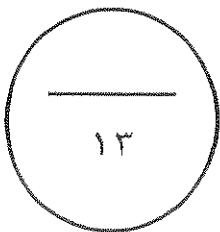
( ب ) فرق بين كل من حسب الجدول التالي :-

النتائج الاقتصادية لحركة الكشوف الجغرافية	النتائج الاجتماعية لحركة الكشوف الجغرافية
.....	.....
.....	.....
.....	.....
.....	.....

( ج ) كون فقرة باستخدام الكلمات التالية :-

( كولومبس - ملكة إيزابيلا - مشروعه - المسلمين - ١٤٩٢ م )

.....  
.....  
.....



السؤال الثالث ( اختياري ) يتكون من ( أ ، ب ، ج ) :-

أ) فند العبارات التالية :-

١- لم يبذل المفكرون الأوروبيون جهداً في أحياء الدراسات اليونانية القديمة .

.....  
.....  
.....

٢- لم يحقق الرحالة فاسكودي جاما أي نتائج جغرافية للبرتغال .

.....  
.....

ب) عدد لكل من :-

١- رواد الحركة الفنية ( النحت ) .

.....  
.....

٢- العوامل التي ساعدت على قيام الثورة الصناعية في إنجلترا .

.....  
.....  
.....

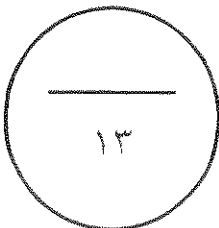
ج) فسر كلام من :-

١- انهيار الإمبراطورية البرتغالية في الشرق .

.....  
.....

٢- أهمية الدافع الديني في حركة الكشوف الجغرافية .

.....



السؤال الرابع ( اختياري ) يتكون من ( أ ، ب ، ج ) :-

أ ( عرف المفاهيم التالية :-

١- برجوازية : .....

٢- كرافيل : .....

٣- استعمار : .....

ب ( قارن بين كل مما يلي حسب الجدول التالي :-

انهار الإمبراطورية الهولندية	انهار الإمبراطورية الإسبانية	أوجه المقارنة
.....	.....	الشبه
.....	.....	الاختلاف

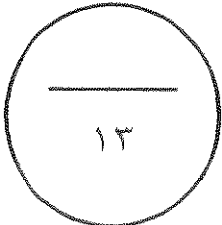
ج ( علل كلاً مما يلي :-

١ - تسمية العالم الجديد بأمريكا .

٢ - أسبقية البرتغال في حركة الكشوف الجغرافية .

٣ - تسمية النهر الكبير بنهر هدسون .

٤ - قيام حركة الإصلاح الديني .



السؤال الخامس ( اختياري ) يتكون من ( أ - ب - ج ) :-  
( أ ) أكتب النتائج المترتبة على كل من :

١- حركة الكشوف الجغرافية . ( العلمية و الثقافية و الفكرية )

..... -  
..... -  
..... -

٢- الثورة الصناعية . ( سياسياً )

..... -  
..... -

ب ( أضرِبْ مثالين لكل مما يلي :-

١- الانتداب كشكل من أشكال التفويض من المنظمات الدولية.

..... -  
..... -

٢- الوصاية بعد الحرب العالمية الثانية.

..... -  
..... -

ج ( ماذا يحدث لو لم :-

١- ينادي مارتن لوتر بإصلاح أوضاع الكنيسة .

..... -

٢- يصل الرحالة بارثلميو دياز إلى رأس الرجاء الصالح .

..... -

٣- يهتم الأدباء الإنسانيون بالإنسان .

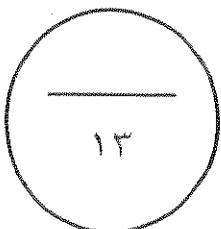
..... -

~~يضرع وللم ماركوني اللاسلكي والرائد~~

..... -

" انتهت الأسئلة مع تمنياتنا

لكم بالتوفيق "





وزارة التربية

امتحان نهاية الفترة الدراسية الأولى

العام الدراسي : ٢٠١٧ - ٢٠١٨ م

زمن الامتحان : ساعتان وربع

عدد الأوراق : ٦ أوراق

التوجيه الفني العام للاجتماعيات للصف الثاني عشر أدبي  
لمادة تاريخ العالم الحديث والمعاصر

اجب على اربعة أسئلة مما يلي على أن يكون السؤال الأول من بينها إجبارياً :-

السؤال الأول : ( إجباري ) يتكون من ( أ ، ب ، ج ، د ) :-

( ٥ درجات = كل نقطة درجة )

١ ( ضع خطأ تحت الخيار الصحيح من بين الخيارات التي تلي كل عبارة :-

١- شاعر إيطالي تأثر بقصة المعراج ورسالة الفران للشاعر العربي أبي العلاء المعري : ص ١٧

د- دانتي

ج- بترارك

ب- بوكاشيو

أ- أرازموس

٢- ملاح تمكن من الوصول إلى القطب الشمالي عام ١٩٠٩ م : ص ٤٢

د- جون فرانكلين

ج- روبرت ماكلور

ب- روالد أموندسن

أ- روبرت بيرى

٣- منطقة تمكن أمريكو فسبوتشي من الوصول إليها في أمريكا الجنوبية : ص ٣٤

د- فنزويلا

ج- تشيلي

ب- البرازيل

أ- الأرجنتين

٤- العام الذي سقطت فيه الإمبراطورية الرومانية على يد القبائل الجرمانية : ص ١١

د- ٤٧٩ م

ج- ٤٧٨ م

ب- ٤٧٧ م


أ- ٤٧٦ م

د- جيمس وات

ج- تشارلز باباج

ب- جون كني

أ- جيمس هارجريلز



( ٥ درجات = كل نقطة درجة )

١- فنان متعدد المواهب أطلق عليه لقب ( عبقرى النهضة ) اسمه ليوناردو دافنشي . ص ١٩

٢- جزر وصل إليها الملاح جيمس كوك عام ١٧٧٦ م اسمها هاواي . ص ٣٩

٣- مكتشف أثبت أن قارة أنتاركتيكا عبارة عن كتلة ضخمة مغطاة بالثلج اسمه تشارلز ويلكز . ص ٤٣

٤- دولة استعمارية تمكنت من إخضاع سيبيريا والعمل بتجارة الفراء اسمها الاستعمار الروسي . ص ٥٦

٥- الاختراع الذي توصل إليه توماس أديسون اسمه المصباح الكهربائي . ص ٦٧



تلم / امتحان الصف الثاني عشر الأبي - تاريخ العالم الحديث والمعاصر - نهاية الفترة الدراسية الأولى - العام الدراسي ٢٠١٧ / ٢٠١٨ م

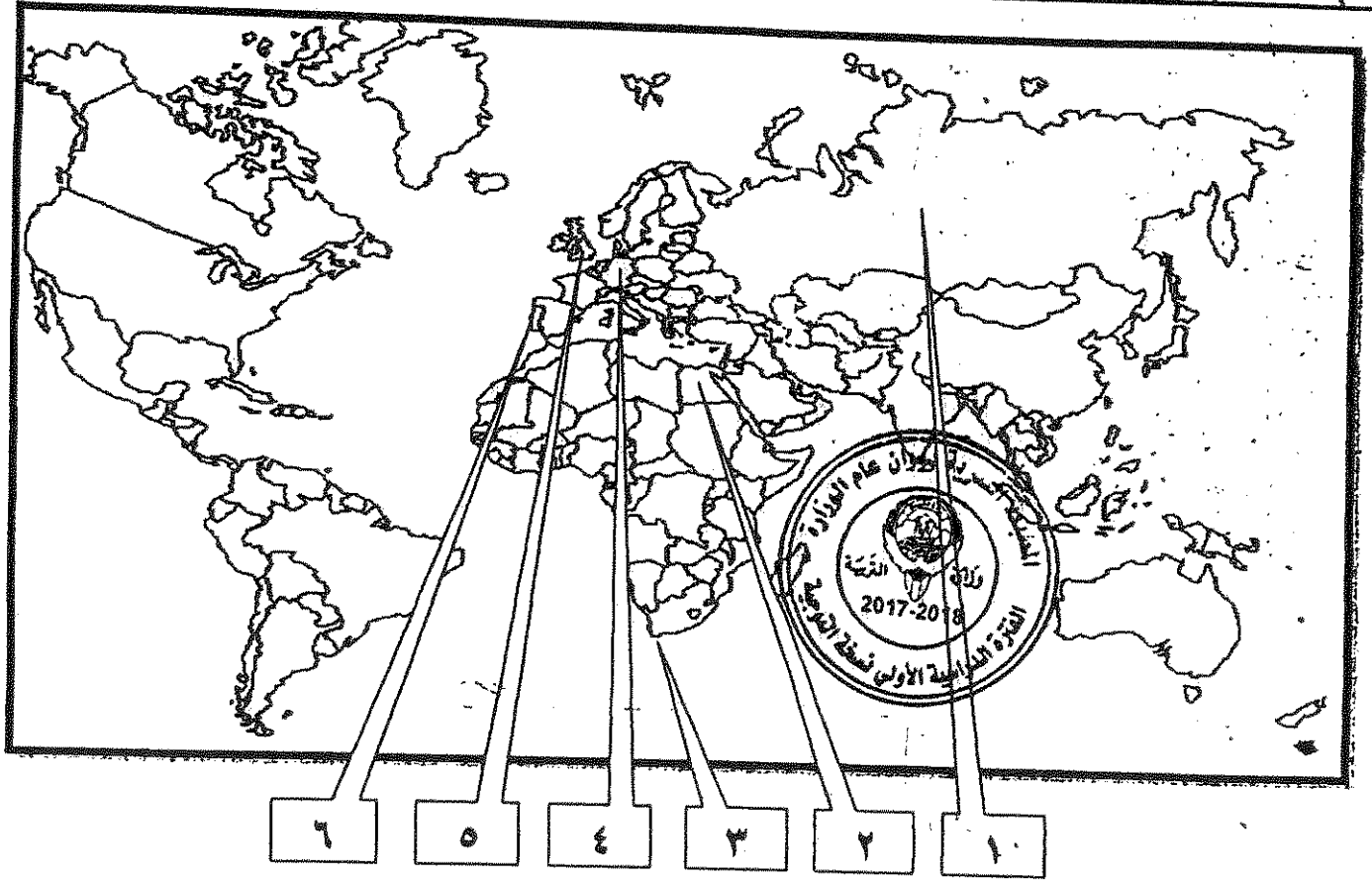
( ٥ درجات = كل نقطة درجة )

تابع السؤال الأول ( إجباري ) :-

( ج ) صنف الشخصيات التالية حسب مكانها المناسب بالجدول التالي :-  
( ماجلان - جاك كارتية - هنري الملاح - مارتن فروبشير - جون ديفيز )

الكشوف البرتغالية	الكشوف الاسبانية	الكشوف الإنجليزية	الكشوف الفرنسية
هنري الملاح ص ٢٧	ماجلان ص ٣٥	مارتن فروبشير ص ٣٧ جون ديفيز ص ٣٨	جاك كارتية ص ٤٠

( د ) امامك خريطة العالم الصماء - أكتب الرقم الدال على العبارات التي تليها :- ( برجتان = كل نقطة نصف درجة )



- ١- مركز للخضارة الإسلامية امد أوروبا بأعظم الانجازات العلمية والأدبية والفنية يمثلها على الخريطة رقم ( ٢ ) . ص ١٤
- ٢- منطقة تمكن الملاح بارثلميو دياز من الوصول لها عام ١٤٨٨م يمثلها على الخريطة رقم ( ٣ ) . ص ٢٨
- ٣- دولة استعمارية سيطرت على هرمز عام ١٥٠٧م يمثلها على الخريطة رقم ( ٦ ) . ص ٥٣
- ٤- مركز انطلاق الثورة الصناعية في أوروبا يمثلها على الخريطة رقم ( ٥ ) . ص ٦٢

السؤال الثاني ( اختياري ) يتكون من ( أ ، ب ، ج ) :-

( ٦ درجات = كل نقطة درجة )

( أ ) دلل على صحة العبارات التالية :-

- ١- اسبقت إيطاليا في حركة النهضة الأوروبية . ص ١٢ ( يكتفى بنقطتين )
- لعبت دور الوسيط التجاري بين موانئ البحر المتوسط . - حلقة اتصال بين الشرق والغرب .
- وجود مركز البابوية فيها . - ماضي الإمبراطورية الرومانية العريقة .
- ٢- للاستعمار آثار سلبية على الدول المستعمرة . ص ٥٧ ( يكتفى بنقطتين )
- قامت القوى الاستعمارية باستغلال مستعمراتها واستفادت منها اقتصاديا . - أدخلت النظام الديمقراطي في الحكم .
- قامت القوى الحاكمة بتعطيل الهياكل الاقتصادية التقليدية وتغييرها . - فرض المستعمر ثقافته على الشعوب .
- ألزام المستعمرات بإنتاج المواد الخام وشراء معظم السلع المصنعة من الدول الحاكمة .
- تحطيم الأنشطة التجارية والصناعية في المستعمرات . - فقد شعوب المستعمرات القدرة على التحكم في مقدراتها الاقتصادية .

~~٣- الثورة الصناعية أثر على مجال النقل من حيث الاختراع . ص ٢٥ ( يكتفى بنقطتين )~~  
~~٤- اختراع السفن البخارية . اختراع الطائرة البخارية . اختراع محرك رباعي الأشواط . اختراع سيارة البنزين . اختراع محرك الاحتراق الداخلي .~~

( ٤ درجات = كل نقطة درجة )

( ب ) فرق بين كل من حسب الجدول التالي :-

النتائج الاقتصادية لحركة الكشوف الجغرافية ص ٥٥ ( يكتفى بنقطتين )	النتائج الاجتماعية لحركة الكشوف الجغرافية ص ٤٦ ( يكتفى بنقطتين )
<ul style="list-style-type: none"> <li>- تحول طرق التجارة العالمية بين أوروبا وأسيا فقد ضعفت مكانة البحر المتوسط تجاريا .</li> <li>- تدفقت الثروات من البضائع ومن المعادن الثمينة ( الذهب والفضة ) على أوروبا مما أدى إلى ارتفاع كبير في أسعار المواد الغذائية . فتضررت الفئات العامة والفلاحون بشكل كبير طيلة القرن ١٦ ميلادي بفعل عدم التوازن ما بين العوض والطلب ، واعتنى كبار التجار وازدادت أهمية البنوك ونمت طبقة البورجوازية التجارية .</li> <li>- نتيجة لتوفير البضائع والمال وازدياد النشاط التجاري الاقتصادي ، قامت صناعات جديدة ، مما أدى إلى زيادة رؤوس الأموال ، ومن هنا ظهرت الحاجة إلى الحصول على مستعمرات لتصريف مصنوعات الدولة ، والحصول على المعادن والمواد الأولية اللازمة للصناعة .</li> <li>- ظهور البورصات المالية على نطاق عالمي وازدياد نشاط دور المصارف .</li> </ul>	<ul style="list-style-type: none"> <li>- اعتمدت على سياسة إبادة السكان الأصليين في العالم الجديد كما دمر المستعمرون الجدد مدنا كاملة وقضوا على حضارة أهلها بعد أن استوطنوها ونهبوا ثرواتها لسد احتياجاتهم .</li> <li>- جلب العبيد من أفريقيا وظهرت تجارة الرق .</li> <li>- ظهور الطبقة الرأسمالية التي لعبت دورا مهما في أوروبا .</li> </ul>



( ٣ درجات )

( ج ) كون فقرة باستخدام الكلمات التالية :- ص ٣١

( كولومبس - ملكة إيزابيلا - مشروعه - المسلمين - ١٤٩٢ م )

عرض كولومبس مشروعه على ملك البرتغال فرفضه بناء على توصية مستشاريه الذين رأوا أنه لا ضرورة للبحث عن طرق جديدة ، وعلى إثر ذلك توجه لآسبانيا وقدم مشروعه إلى الملك فرديناند والملكة إيزابيلا ولكنها رفضت بدعوى أنها مشغولة بالحرب مع المسلمين في الأندلس إلا أنه لم ييأس من رفضها وانتظر إلى أن انتهت الحرب وعاد ليجدد طلب تمويل إيزابيلا لمشروعه ، وبالفعل وافقت له ومولته في عام ١٤٩٢ م . ( أي ربط صحيح بين الكلمات يحقق وحدة علمية متكاملة يراه المصحح )

**السؤال الثالث ( اختياري ) يتكون من ( ا ، ب ، ج ) :-**

( ٥ درجات = كل نقطة درجة )

**( ا ) فند العبارات التالية :-**

- ١- لم يبذل المفكرون الأوروبيون جهداً في إحياء الدراسات اليونانية القديمة . ص ١٥ ( يكتفى بثلاث نقاط )  
- تبادل علماء القسطنطينية وإيطاليا الزيارات العلمية بحثاً عن العلوم والفنون الإغريقية والإيطالية .  
- تنافس الأمراء والأثرياء في إنشاء المكتبات مما أدى إلى ازدهار مكتبات البندقية وفلورنسا إلى جانب مكتبة الفاتيكان .  
- ظهور الأكاديميات العلمية في إيطاليا مما ساعد على إثراء الحركة العلمية .  
- جهود أسرة آل مديتشي في فلورنسا وأسرة سوفرزا في ميلانو في رعاية الحركة العلمية والأدبية والفنية .  
- اختراع أحرف الطباعة المعدنية على يد الألماني ( جونا جوتنبرج ١٣٩٦ - ١٤٦٨ م ) أدى إلى سهولة طباعة الكتب وتداولها مما ساهم في نشر جهود العلماء وفي مختلف المجالات .

- ٢- لم يحقق الرحالة فاسكودي جاما أي نتائج جغرافية للبرتغال . ص ٢٩ ( يكتفى بنقطتين )  
- حقق أمل البرتغال في كشف طريق مباشر في الوصول إلى الهند خارج ديار المسلمين وكانت أكبر ضربة اقتصادية وجهت للعالم الإسلامي .  
- أصبحت البرتغال في مركز متقدم في منطقة المحيط الهندي التجاري .

( ٥ درجات = كل نقطة درجة )



**( ب ) عدد لكل من :-**

- ١- رواد الحركة الفنية ( النحت ) . ص ١٨ ( يكتفى بنقطتين )  
- دوناتلو . - مايكل أنجلو .
- ٢- العوامل التي ساعدت على قيام الثورة الصناعية في إنجلترا . ص ٦٢ ( يكتفى بثلاث نقاط )  
- الاستقرار الداخلي . - وفرة رأس المال . - سهولة الحصول على المواد الخام . - وجود القوى المحركة .  
- الأيدي العاملة الرخيصة . - تشجيع العلماء والمخترعين . - وجود أسطول تجاري كبير .

( ٣ درجات = كل نقطة درجة )

**( ج ) فسر كلاً من :-**

- ١- انهيار الإمبراطورية البرتغالية في الشرق . ص ٥٣ ( يكتفى بنقطتين )  
- سوء إدارة المستعمرات وانتشار الرشوة .  
- قسوة البرتغاليين في معاملة السكان الأصليين وإجبارهم على اعتناق المسيحية .  
- السلطة كانت في يد نائب الملك في ( جوا ) وهو المسئول أمام الملك دون رقابة ، ولقصر مدة حكمه كان يقوم بابتزاز الأموال وعدم الاعتناء بالمستعمرة .  
- منافسة الهولنديين والإنجليز للبرتغاليين في مجال الاستعمار .  
- فقدت البرتغال استقلالها كدولة وضممت للتاج الأسباني في عهد الملك فيليب الثاني عام ١٥٨٠ م ولمدة ٦٠ عاماً .
- ٢- أهمية الدافع الديني في حركة الكشوف الجغرافية . ص ٢٦  
- رغبة الدول الأوروبية في نشر المسيحية في المناطق المكتشفة ومحاوله تطويق العالم الإسلامي وتقوية الممالك المسيحية .

**السؤال الرابع ( اختياري ) يتكون من ( أ ، ب ، ج ) :-**

( ٣ درجات = كل نقطة درجة )

**( أ ) عرف المفاهيم والمصطلحات التالية :-**

- ١- برجوازية : هي الطبقة الوسطى التي تحالفت مع الملوك لتحطيم النظام الإقطاعي مما أحدث تغييراً كبيراً في ملامح المدن الأوروبية سياسياً واقتصادياً واجتماعياً . ص ١٦ (درجة)
- ٢- كرافيل : سفن عملاقة تميزت بكبر حمولتها واستعمالها لعدد أكبر من الأشرعة وازدياد القدرة على المغامرة وسط المحيطات . ص ٢٦ (درجة)
- ٣- استعمار : سيطرت دولة ما بالاتفاقيات السياسية أو القوة العسكرية أو القوة الاقتصادية أو المال أو التفوق التكنولوجي والعلمي على دولة أو عدة دول وتستغل مواردها وثرواتها لصالحها . ص ٤٩ (درجة)

( ٤ درجات = كل نقطة درجة )

**( ب ) قارن بين كل مما يلي حسب الجدول التالي :-**

أوجه المقارنة	انهيار الإمبراطورية الإسبانية ص ٥٤	انهيار الإمبراطورية الهولندية ص ٥٥
الشبه	- سياسة الاستبداد في المستعمرات - منافسة الإنجليز لهم .	
الاختلاف	- استغلال المستعمرات لمصلحة أسبانيا والملك . - تدفق الثروات على الأسبان حرض قراصنة الإنجليز والهولنديين والفرنسيين بتشجيع من حكوماتهم على السطو على السفن الأسبانية . - كنته نقطة واحدة	- الهولنديون أمة صغيرة غير قادرة على حماية الإمبراطورية التي تم تأسيسها بشكل كبير تجاوز حدود إمكاناتهم . - كان اعتمادهم الأول على التجارة مما أدى إلى قطاعي الزراعة والصناعة . - كنته نقطة واحدة

( ٦ درجات = كل نقطة درجة )

**( ج ) علل كل ما يلي :-**



- ١- تسمية العالم الجديد بأمريكا . ص ٣٤ (درجة)
- نسبة للرحالة المكتشف أمريكي فسيبوتشي .
- ٢- أسبقية البرتغال في حركة الكشوف الجغرافية . ص ٢٧ (يكتفى بنقطتين)
- توافر الأدوات اللازمة من علم وخبرة وسفن متطورة .
- استقرار الوضع في بلادهم لذلك وجهوا اهتمامهم لاكتشاف طريق جديد خارج نطاق البحر المتوسط .
- ٣- تسمية النهر الكبير بنهر هدسون . ص ٣٨ (درجة)
- تكريما لهنري هدسون الرحلة الانجليزي .
- ٤- قيام حركة الإصلاح الديني . ص ٢٠ (يكتفى بنقطتين)
- جهود الحركة الإنسانية في التنبيه لأهمية إصلاح الكنيسة .
- الرغبة في تحرير التقدم العلمي من قيود الكنيسة .
- اهتمام أوروبا بجوانب الحياة الدنيوية .
- ظهور كثير من المصلحين الذين نادوا بتخليص الكنيسة من مفسادها .

(٥ درجات = كل نقطة درجة)

السؤال الخامس ( اختياري ) يتكون من ( أ - ب - ج ) :-

أ ) أكتب النتائج المترتبة على كل من :

- ١- حركة الكشوف الجغرافية . ( العلمية و الثقافية و الفكرية ) ص ٤٥+٤٦ ( يكتفى بثلاث نقاط )
  - أدى الاتصال بين أوروبا والقارات الأخرى إلى إنماء المعرفة وساعد على تقدم بعض العلوم كعلم الجغرافيا و علم الاجتماع و النبات و الحيوان و البحار و الجيولوجيا ، وكان الهدف الأساسي من كل تقدم علمي ، تذليل المصاعب التي تواجه الناس ، و تأمين حياة أكثر رخاء ، و قد كانت المنجزات و الاكتشافات التي حققها العلماء في مختلف المجالات ، إيذانا بمولد عصر جديد في أوروبا و العالم .
  - تصحيح بعض المعلومات الجغرافية ، و حدوث انقلاب جذري في المبادئ الأساسية التي يقوم عليها علم الجغرافيا و القضاء على الأفكار التي كانت سائدة عن الأرض و حجمها و شكلها و قاراتها و محيطاتها .
  - اتسع مجال البحوث التاريخية فلم يعد قاصرا على العالم القديم المعروف بل امتد و شمل البلاد التي اكتشف ، و حتى ذلك التاريخ كانت الحضارة الإغريقية في أعين الأوروبيين مركز البشرية .
  - اختفاء بعض معالم الحضارات الوطنية القديمة لبعض الشعوب المكتشفة .
  - وفي علم الفلك ظهرت لعلماء الفلك مجموعة نجوم لم يتمكن رصدها إلا من النصف الجنوبي من الكرة الأرضية ، وكان الاعتقاد السائد منذ القدم ، أن الأرض هي محور الكون ، و هي النظرية التي قدمها العالم اليوناني بطليموس في القرن ١٣ ميلادي ، أتى عالم الفلك البولندي نيكولاس كوبرنيكوس ١٤٧٣-١٥٤٣ م بنظرية مخالفة ، توضح أن الشمس هي محور الكون و أن الكواكب الأخرى بما فيها الأرض ، تسير في مدارات حول الشمس .

٢- الثورة الصناعية . ( سياسياً ) ص ٦٩ ( يكتفى بنقطة )

- سيطرة الطبقة الرأسمالية على مقاليد السياسة و السياسة في أوروبا .
- التسابق الاستعماري حول المستعمرات و إكسابها طابعاً اقتصادياً .
- ظهور الأحزاب السياسية المدافعة عن حقوق العمال و النقابات .

ب ) أضرب مثالين لكل مما يلي :-

(٤ درجات = كل نقطة درجة)

الانتداب كشكل من أشكال التفويض من المنظمات الدولية الوصاية بعد الحرب العالمية الثانية ص ٥١	ص ٥١
- سوريا و لبنان تحت الانتداب الفرنسي . - فلسطين و الأردن تحت الانتداب البريطاني .	- الصومال تحت الوصاية الإيطالية . - إقليم ناميبيا تحت وصاية اتحاد جنوب أفريقيا .

(٤ درجات = كل نقطة درجة)

ج ) ماذا يحدث لو لم :-

- ١- ينادي مارتن لوثر بإصلاح أوضاع الكنيسة . ص ٢٠ (درجة)
- لما حدث أكبر حركة الإصلاح الديني في أوروبا .
- ٢- يصل الرحالة بارثولميودياز إلى رأس الرجاء الصالح . ص ٢٨ (درجة)
- لما وصل إلى الساحل الجنوبي لقارة أفريقيا و الوصول إلى الهند دون المرور بديار المسلمين .
- ٣- يهتم الأدباء الإنسانيون بالإنسان . ص ١٧ (درجة)
- لما خلاص من القيود و حطت من مكانته خلال العصور الوسطى .

( أي إجابة يراها المصحح مناسبة )

" انتهت الأسئلة مع تمنياتنا

لكم بالتوفيق "



أجب عن أربعة أسئلة مما يلي على أن يكون السؤال الأول من بينها اجبارياً :-

السؤال الأول (إجباري) ويتكون من ( أ - ب - ج - د ) :-

( أ ) أكمل العبارات التالية بما يناسبها مما درست :-

١- القبائل التي أسقطت الإمبراطورية الرومانية عام ٤٧٦ م تسمى .....

٢- الملك الذي تم في عهد كشف طريق رأس الرجاء الصالح يسمى .....

٣- العام الذي خضعت فيه مصر للاستعمار الإنجليزي .....

٤- الأسطول الأسباني الذي تحطم على يد الإنجليز اسمه .....

~~٥- العالم الذي اخترع المكوك الطائر يسمى .....~~

( ب ) ضع خطأ تحت الخيار الصحيح من بين الخيارات التي تلي كل عبارة :-

١- يبلغ عدد الحجج التي علقها مارتن لوثر على كنيسة وتبرج :

( ٩٣ - ٩٤ - ٩٥ - ٩٦ )

٢- الدولة التي استعمرتها فرنسا عام ١٨٣٠ م :

( الجزائر - مصر - الأردن - العراق )

٣- قارة غير مأهولة بالسكان :

( استراليا - انتاركتيكا - أمريكا الجنوبية - أفريقيا )

٤- الرحلة التي اكتشف فيها كريستوفر كولمبس جزر الدومينكا :

( الرحلة الأولى - الرحلة الثانية - الرحلة الثالثة - الرحلة الرابعة )

~~٥- مخترع التلفاز الكهربائي :~~

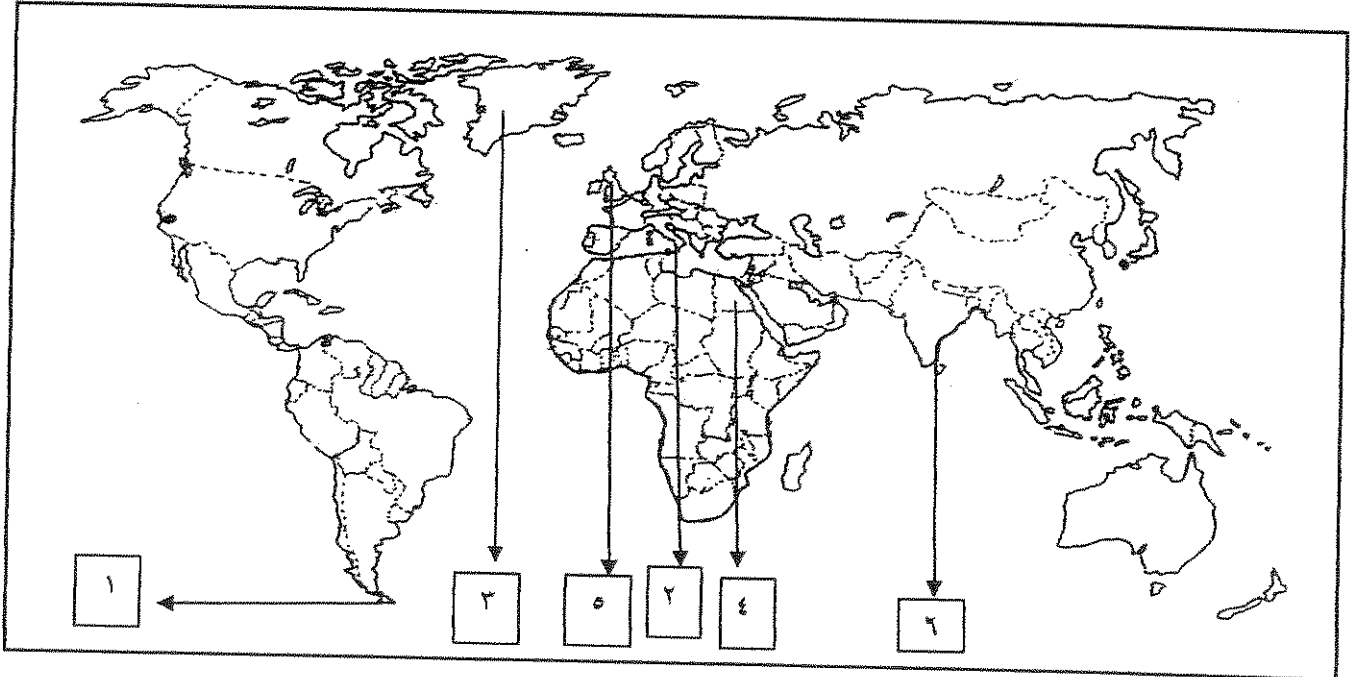
~~( جراهام بل - وليم ماركوني - صمويل موريس - بلانشارد )~~

تابع السؤال الأول (إجباري) :-

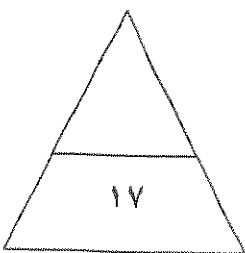
ج) اكتب المفاهيم أو المصطلحات الدالة على العبارات التالية:

- ١- (.....) الاحتلال بالقوة العسكرية.
- ٢- (.....) عملية تغير شامل في أدوات الانتاج ووسائله وحجمه وعلاقاته ومستواه وتبديل في أساليب التسويق والتوزيع.
- ٣- (.....) أسلوب استعماري قام على التفرقة بين الناس بسبب اللون أو الجنس أول اللون.
- ٤- (.....) سفن عملاقة تميزت بكبر حمولتها واستعمالها لعدد كبير من الأشرعة.
- ٥- (.....) العصور التاريخية التي تميزت بسيطرة رجال الدين والنظام الإقطاعي.

د) لاحظ خريطة العالم التي أمامك ثم نفذ المطلوب عليها:-



- ١- أول الدول الأوروبية في حركة النهضة يمثلها على الخريطة الرقم .....
- ٢- أحد مراكز انتقال الحضارة الإسلامية إلى أوروبا يمثلها على الخريطة الرقم .....
- ٣- المضيق الذي اكتشفه ماجلان يمثلها على الخريطة الرقم .....
- ٤- الدولة التي دخلت مع فرنسا حرب السنين السبع يمثلها على الخريطة الرقم .....



مجموع درجات السؤال الأول .....

السؤال الثاني ( اختياري ) ويتكون من ( أ - ب - ج ) :-

( أ ) علل لما يلي :-

١- يعتبر الدافع الديني أحد أسباب الكشوف الجغرافية.

.....  
.....

٢- انهيار الإمبراطورية البرتغالية في الشرق.

.....  
.....

( ب ) دلل على صحة العبارات التالية :-

١- للمفكرين الأوروبيين دور كبير في إحياء الدراسات اليونانية القديمة.

.....  
.....

٢- للأمير هنري الملاح دور هام في حركة الكشوف الجغرافية.

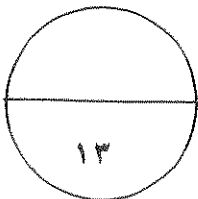
.....  
.....

~~عشر المستشرقون من أحد العلماء الذين برزوا بعد قيام الثورة الصناعية~~

.....

( ج ) قارن بين كل مما يلي :-

المعيار	الانتداب	الوصاية
التعريف	..... ..... .....	..... ..... .....
الأمثلة	..... .....	..... .....



مجموع درجات السؤال الثاني .....



السؤال الثالث ( اختياري ) ويتكون من ( أ - ب - ج ) :-

أ) اكتب النتائج المترتبة على الأحداث التالية:-

١- رحلة فاسكو دي جاما.

.....  
.....

٢- اختراع المطبعة البخارية

.....

٣- حركة الإصلاح الديني.

.....  
.....

ب) اكتب فقرة تاريخية مترابطة مستعيناً بالكلمات التالية:-

( مدن أوربية - كومونات - طبقه وسطى - ثورة ثقافية )

.....  
.....  
.....

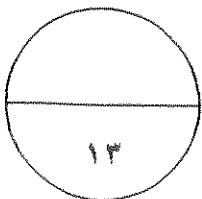
ج) برهن على صحة العبارات التالية:-

١- أحدثت الثورة الصناعية في أوروبا تغيرات من الناحية الاقتصادية.

.....  
.....  
.....

٢- أدت الكشوف الجغرافية الى تكوين دول وإمبراطوريات كبرى استعمارية.

.....  
.....



مجموع درجات السؤال الثالث .....

السؤال الرابع ( اختياري ) ويتكون من ( أ - ب - ج ) :-

أ) عرف المفاهيم التالية :-

١- عصر النهضة:

.....

٢- المجاعة النقدية:

.....

٣- الاستيطان:

.....

ب) فند العبارات التالية :-

١- لم تكن هناك آثار بالغة الأهمية للكشوف الجغرافية في حياة أوروبا والعالم الجديد من الناحية الاجتماعية.

.....

.....

.....

٢- أيد كتاب الأمير لنيقولا مكيافيللي المشاركة الشعبية في الحكم والسياسة.

.....

.....

٣- اقتصر آثار الاستعمار على الجوانب السلبية فقط.

.....

ج) اكتب إنجازات الشخصيات التالية:

١- روبرت بيرري.

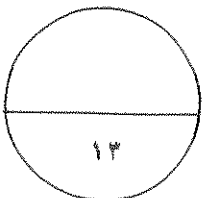
.....

٢- نيكولاس كوبر نيكوس.

.....

٣- دانتي:

.....



السؤال الخامس ( اختياري ) ويتكون من ( أ - ب - ج ) :-

أ) اقرأ الفقرة التالية ثم أجب عما يليها:-

"يعتبر البرتغاليون أول من قاموا بحركة الكشوف الجغرافية في نهاية القرن الخامس عشر الميلادي ولهم دور كبير في الوصول إلى الهند ."

١- عرف ما تحته خط.

٢ - عدد العوامل التي جعلت البرتغال في مقدمة حركة الكشوف الجغرافية.

ب) فرق بين كل من:

المظاهر الفنية في عصر النهضة	المظاهر الأدبية في عصر النهضة
..... -	..... -
..... -	..... -

ج) نفذ المطلوب منك ما بين الأقواس:-

(الأسباب)

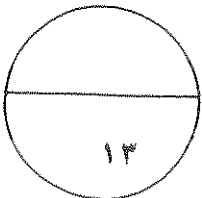
١- قيام حركة الإصلاح الديني.

(العوامل)

٢- تأسيس الإمبراطورية البرتغالية واحتكارها لتجاره الشرق.

(نتائج رحلاته)

٣ - الملاح مارتن فروبيشر.



( انتهت الاسئلة )  
مع تمنياتنا بالنجاح والتوفيق

مجموع درجات السؤال الخامس .....

اجب عن اربعة اسئلة مما يلي على ان يكون السؤال الاول من بينها اجباريا:-

السؤال الأول (اجباري) ويتكون من ( ا - ب - ج - د ):-

كل نقطة درجة

( ا ) أكمل العبارات التالية بما يناسبها مما درست :-

- ١- القبائل التي أسقطت الإمبراطورية الرومانية عام ٤٧٦ م تسمى الجرمانية ص ١١
- ٢- الملك الذي تم في عهده كشف طريق الرجاء الصالح يسمى جون الثاني ص ٢٨
- ٣- العام الذي خضعت فيه مصر للاستعمار الإنجليزي ١٨٨٢ م ص ٥١
- ٤- الأسطول الأسباني الذي تحطم علي يد الإنجليز اسمه الأرمادا ص ٥٤
- ٥- العام الذي اخترع المكوك المأهول يسمى جون ص ٦٣

( ب ) ضع خطأ تحت الخيار الصحيح من بين الخيارات التي تلي كل عبارة :-

كل نقطة درجة

١- يبلغ عدد الحجج التي علقها مارتن لوثر على كنيسة وتبرج : ص ٢٠

( ٩٣ - ٩٤ - ٩٥ - ٩٦ )

٢- الدولة التي استعمرتها فرنسا عام ١٨٣٠ م : ص ٥١

( الجزائر - مصر - الأردن - العراق )

٣- قارة غير مأهولة بالسكان : ص ٤٣

( استراليا - انتاركتيكا - أمريكا الجنوبية - أفريقيا )

٤- الرحلة التي اكتشف فيها كريستوفر كولمبس جزر الدومينيكا : ص ٣٢

( الرحلة الأولى - الرحلة الثانية - الرحلة الثالثة - الرحلة الرابعة )

ص ٦٨

مخترع التلفزيون الكمبرنجي

( جراهام بل - وليام ماركوني - صمويل موريس - بلانتشارد )



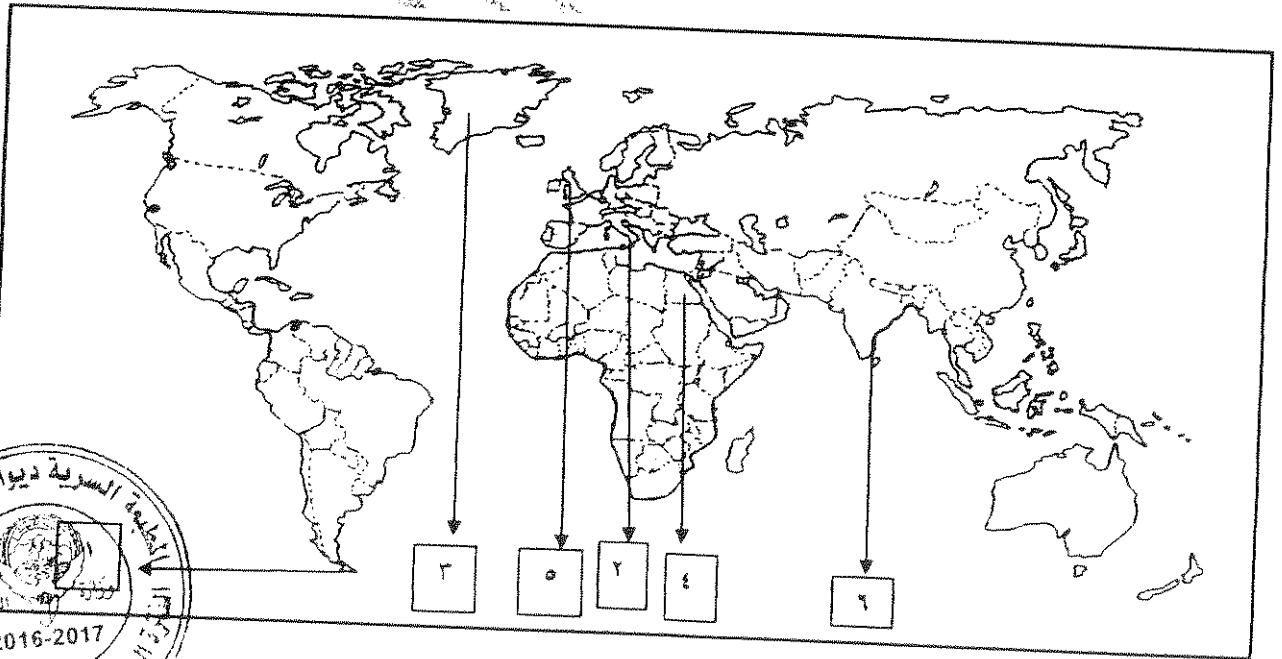
تابع السؤال الأول ( الاجباري ) :-

( ج ) اكتب المفاهيم أو المصطلحات الداله على العبارات التالية :- لكل نقطة درجة

- ١- ( الغزو العسكري ) احتلال بالقوة العسكرية . ص ٥١
- ٢- ( الثورة الصناعية ) عملية تغير شامل في أدوات الإنتاج وسائله وحجمه وعلاقاته ومستواه وتبديل في أساليب التمويل والتسويق والتوزيع . ص ٦١
- ٣- ( التمييز العنصري ) هو أسلوب استعماري قائم على التفرقة بين الناس بسبب اللون أو الجنس أو الدين حيث ص ٥١
- ٤- ( الكارافيل ) سفن عملاقة تميزت بكبر حمولتها واستعمالها لعدد كبير من الأشرعة . ص ٢٦
- ٥- ( العصور الوسطى ) العصور التاريخية التي تميزت بسيطرة رجال الكنيسة ونظام الاقطاعي . ص ١١

لكل نقطة نصف درجة

( د ) لاحظ خريطة العالم التي أمامك ثم نفذ المطلوب عليها :-



- ١- أول الدول الأوربية في حركة النهضة يمثلها على الخريطة الرقم ٢ ص ١٣
- ٢- أحد مراكز انتقال الحضارة الإسلامية إلى أوروبا يمثلها على الخريطة الرقم ٤ ص ١٤
- ٣- المضيق الذي اكتشفه ماجلان يمثلها على الخريطة الرقم ١ ص ٣٥
- ٤- الدولة التي دخلت مع فرنسا حرب السنين السبع يمثلها على الخريطة الرقم ٥ ص ٥٥

**السؤال الثاني ( اختياري ) ويتكون من ( أ - ب - ج ) :-**

(أربع درجات) لكل نقطة درجة

ص ٢٦ يكتفي بنقطتين

( ا ) **علل لما يلي :-**

١- يعتبر الدافع الديني أحد أسباب الكشوف الجغرافية .  
- رغبة الدول الأوروبية بنشر المسيحية في المناطق المكشوفة

- تقوية الممالك المسيحية .

- محاولة تطويق العالم الإسلامي

ص ٥٣ يكتفي بنقطتين

٢- انهيار الإمبراطورية البرتغالية في الشرق .  
- سوء إدارة المستعمرات وانتشار الرشوة - قسوة البرتغاليين في معاملة السكان الأصليين وأجبارهم على اعتناق

المسيحية

- السلطة كانت في يد نائب الملك في جوا وهو المسؤول أمام الملك دون رقابة ويقوم بابتزاز الأموال وعدم الأعتناء  
بالمستعمرة - منافسة الهولنديين والإنجليز للبرتغال في مجال الاستعمار - فقدت البرتغال استقلالها وضمت للتاج

الأسباني .

( خمس درجات ) يكتفي بنقطتين

ص ١٥

**( ب ) دلل على صحة العبارات التالية :-**

١- للمفكرين الأوروبيون دور كبير في إحياء الدراسات اليونانية القديمة .  
- تبادل علماء القسطنطينية وإيطاليا الزيارات العلمية بحثا عن العلوم والفنون الإغريقية والإيطالية  
- تنافس الأمراء والأثرياء في إنشاء المكتبات - ظهور الأكاديميات العلمية في إيطاليا مما ساعد على إثراء الحركة العلمية

- جهود أسرة ال مديتشي في فلورنسا وأسرة سوفرزا في ميلانو في رعاية الحركة العلمية والأدبية والفنية

- اختراع أحرف الطباعة المعدنية علي يد حنا جوتبرج أدي التي سهولة طباعة الكتب وتداولها

ص ٢٧ يكتفي بنقطتين

٢- للأمير هنري الملاح دور هام في حركة الكشوف الجغرافية .  
- أنشأ مدرسة بحرية اهتمت بتطوير الأدوات التي استخدمت في عملية الكشوف الجغرافية كالأهتمام برسم الخرائط

- أنشأ مرصدا بحريا . - جلب علماء الرياضيات ورسمين الخرائط والفلكيين

- الاستعانة بالمسلمين الذين لهم دراية بالمجال البحري . - حاول الوصول للحبشة والهند

- توقف عند ساحل غانا ووصل للراس الأخضر . - اكتشف جزر ماديرا وجزر أزور .

- وصل إلى ساحل زامبيا والسنگال .

٣- يعتبر العالمون في زماننا من أشهر العلماء الذين برروا في مجال الكهرباء

اخترع البطارية الكهربائية مما ادي إلي توليد تيار كهربائي ثابت

( ج ) **قارن بين كل مما يلي :- (أربع درجات) ص ٥١**



المعيار	الانتداب	الوصاية
التعريف	ظهر بعد الحرب العالمية الأولى عام ١٩١٩م حيث انتدبت الدول المنتصرة لإدارة شؤون الأقطار التي تحكمها الدولة العثمانية أو المانيا لهزيمتها بالحرب بحجة الاخذ بيدها نحو التطور والاستقلال .	ظهر في أعقاب الحرب العالمية الثانية عام ١٩٤٥م وضعت المناطق التي كانت تحت النفوذ الألماني والإيطالي والياباني تحت وصاية دولة من اختيار الأمم المتحدة .
الأمثلة	- سوريا ولبنان تحت الانتداب الفرنسي - فلسطين والأردن تحت الانتداب البريطاني	- الصومال تحت الوصاية الإيطالية - إقليم نامبيا تحت وصاية اتحاد جنوب أفريقيا

السؤال الثالث ( اختياري ) ويتكون من ( ا - ب - ج ) :-

( خمسة درجات )

أ) اكتب النتائج المترتبة على الأحداث التالية :- ص ٢٩

- ١- رحلة فاسكو دي جاما.  
- حقق أمل البرتغال في كشف طريق مباشر في الوصول إلى الهند خارج ديار المسلمين - أكبر ضربة اقتصادية وجهت للعالم الإسلامي - أصبحت البرتغال في مركز متقدم في منطقة المحيط الهندي التجارية .

درجة

ص ٦٥

يكتفى بنقطتين

- نيهت إلى أهمية تحرير

ص ٢٠

- ٣- حركة الإصلاح الديني  
- قيام صراع كبير بين أتباع مارتن لوثر والكنيسة - قيام الثورات والحروب الكنيسة من مفسدها والتخلص من هيمنتها المطلقة على حياة الناس وأوربا .

( ثلاث درجات )

ب) اكتب فقرة تاريخية مترابطة مستعينا بالكلمات التالية :- ص ١٦

(مدن أوربية - كومونات - طبقه وسطي - ثورة ثقافية)

تحالفت المدن الأوربية في شكل كومونات مما منحها الاستقلال والقوة السياسية مما أدى إلى ظهور الطبقة الوسطى التي تحالفت مع الملوك لتحطيم النظام الإقطاعي مما أحدث تغييرا كبيرا في ملامح المدن الأوربية سياسيا واقتصاديا واجتماعيا ونتج عن ذلك قيام ثورة ثقافية من خلال إنشاء المدارس في المدن بعيدا عن سيطرة الأديرة .

( خمس درجات ) لكل نقطة درجة

ج) برهن على صحة العبارات التالية :-

- ١- أحدثت الثورة الصناعية في أوروبا تغيرات في الناحية الاقتصادية . ص ٦٩  
- قيام المصانع الكبير التي تعتمد على الصناعة الآلية مما أدى إلى زيادة الإنتاج . - انتعاش النشاط الاقتصادي من خلال حركة البنوك والوكالات التجارية ومراكز التسويق والتوزيع . - اتساع النشاط التجاري العالمي . - ارتفاع الدخل القومي نتيجة زيادة عائدات التجارة . - ظهور المدن الصناعية واتساع حركة العمران في أوروبا . - سيادة النظام الاقتصادي الرأسمالي .

- ٢- أدت الكشوف الجغرافية إلى تكوين دول و إمبراطوريات كبرى استعمارية . ص ٤٥  
- أسبانيا: احتلت أمريكا الوسطى وأجزاء مهمة من أمريكا الجنوبية وجزر الفلبين.  
- البرتغال: احتلت البرازيل ومراكز تجارية على السواحل الأفريقية وسواحل الهند و الخليج العربي .



السؤال الرابع ( اختياري ) ويتكون من ( أ - ب - ج - د ) :-

( ثلاث درجات ) لكل نقطة درجة

أ ) عرف المفاهيم التالية :-

١- عصر النهضة : تعتبر الفترة من القرن ١٣ ميلادي إلى ١٦ ميلادي مرحلة انتقال من العصور الوسطى إلى العصور الحديثة ويؤرخ لها منذ الفتح العثماني لمدينة القسطنطينية عاصمة الإمبراطورية البيزنطية عام ١٤٥٣ م . ص ١٢

٢- المجاعة النقدية : حاجة الأوربيين إلى مزيد من الذهب والفضة . ص ٢٥

٣- الاستيطان : هجرة مجموعة من سكان دولة أجنبية قوية إلى دولة ضعيفة وتملك الأرض بطرد السكان المحليين وتكون الهجرة على شكل إرساليات تنصيرية تجار سياح . ص ٥١

( ٧ درجات ) لكل نقطة درجة

ب ) فند العبارات التالية :-

- ١- لم تكن هناك آثار بالغة الأهمية للكشوف الجغرافية في حياة أوروبا والعالم الجديد من الناحية الاجتماعية . ص ٤٦
- اعتمدت علي سياسة إبادة السكان الأصليين في العالم الجديد كما دمر المستعمرون الجدد مدن كاملة وقضوا على حضارة أهلها بعد أن استوطنوها ونهوا ثقرواتها لسد احتياجاتهم . - جلب العبيد من أفريقيا وظهور تجارة الرق .
- ظهور الطبقة الرأسمالية التي لعبت دوراً مهماً في أوروبا . ص ٢١
- ٢- أيد كتاب ( الأمير ) لنيقولا مكيافيلي المشاركة الشعبية في الحكم والسياسة . ص ٢١
- تأييد نظام الحكم المطلق القائم علي نظرية التفويض الإلهي التي تقول إن الملوك يمثلون الله على الأرض ، وأنهم يستمدون سلطتهم منه وليس من الشعوب التي يجب عليها الخضوع التام للملوك . - إقرار مبدأ ( أن الغاية تبرر الوسيلة ) بمعنى أن من حق الحاكم اتخاذ كل وسيلة تحقق استقرار حكمه مهما كانت متعارضة مع الدين أو الاخلاق وأن يعتمد على الحزم ليكون مرهوباً وأن يقيم المشروعات المفيدة للشعب ليكون محبوباً .
- ٣- اقتصر آثار الاستعمار على الجوانب السلبية فقط . ص ٥٧
- حقق المستعمرون تنمية اقتصادية للمستعمرات فأدخلوا إليها طرق الزراعة والصناعة والعلوم الطبية - أدخل النظام الديمقراطي في الحكم . - ربط المستعمرات بالنظام الاقتصاد الدولي .

( ثلاث درجات )

ج ) اكتب إنجازات الشخصيات التالية :-

- ١- روبرت بيرري . ص ٤٢
- تمكن من الوصول إلى القطب الشمالي .
- ٢- نيكولاس كوبر نيكوس . ص ٤٦
- نظرية أن الشمس هي محور الكون وأن الكواكب الأخرى بما فيها الأرض تسير في مدارات حول الشمس .
- ٣- دانتي . ص ١٧
- أهم أعماله رواية الحياة الجديدة - الكوميديا الإلهية التي تأثر فيها بقصة المعراج ورسالة الغفران لأبي العلاء المعري وقد قدمها من خلال اللغة الإيطالية .





السؤال الخامس ( اختياري ) ويتكون من ( أ - ب - ج ) :-

( أ ) اقرأ الفقرة التالية ثم أجب عما يليها من الأسئلة :- ( ٣ درجات ) لكل نقطة درجة ص ٢٥

"يعتبر البرتغاليون أول من قاموا بحركة الكشوف الجغرافية في نهاية القرن الخامس عشر الميلادي في نهاية القرن الخامس عشر الميلادي ولهم دور كبير في الوصول إلى الهند."

- ١- عرف ما تحته خط .  
- هي حركة قام بها الأوروبيون خلال القرنين الخامس عشر والسادس عشر الميلاديين تعرفوا بها على أرض جديدة لم تكن معروفة لهم من قبل ساعدتهم على تطوير خريطة العالم . ص ٢٥  
٢- عدد العوامل التي جعلت البرتغال في مقدمة الكشوف الجغرافية . ص ٢٧  
- توافر الأدوات اللازمة من علم وخبرة وسفن متطورة .  
- استقرار الوضع في بلادهم لذلك وجهوا اهتماماتهم لاكتشاف طريق جديد خارج نطاق البحر المتوسط .

( أربع درجات )

ب ) فرق بين كل من :

المظاهر الفنية في عصر النهضة	المظاهر الأدبية في عصر النهضة ص ١٧
- حرص الفنانين على محاكاة الفنون القديمة في الروح والتعبير مع التجديد والابتكار والابداع . - اصبح الانسان المحور الرئيسي الذي تدور حوله الاعمال الفنية لتعبر عن قدراته وتقدمه في صورة جميلة مشرقة محب للحياة قادر على العطاء والإنتاج في شتى مجالات الحياة . - وجد الفنانون التشجيع والدعم الفني والمعنوي فانتجوا اعظم اعمالهم الفنية التي حولت المدن الأوروبية إلى متاحف	- الأهتمام بدراسة الإنسان باعتباره محور الحياة . - جهود الانسان الذين عبروا في كتاباتهم الأدبية عن صورة الانسان الذي يتصف بالابداع والثقة في النفس والمحب للحياة بجوانبها المشرقة .



( ٦ درجات )

( الأسباب )

ج ) نفذ المطلوب منك ما بين الأقواس :-

- ١- قيام حركة الإصلاح الديني .  
- جهود الحركة الإنسانية في التنبيه لإصلاح الكنيسة - الرغبة في تحرير حركة التقدم العلمي من قيود الكنيسة - ظهور كثير من المصلحين الذين نادوا بتخليص الكنيسة من مفسادها - إهتمام أوروبا بجوانب الحياة الدنيوية .  
٢- تأسيس الأمبراطورية البرتغالية واحتكارها لتجارة الشرق .  
- انشغال الدولة العثمانية بحربها مع الصفويين . - تفكك بلاد الهند  
- عدم توحيد القوى الإسلامية الكبرى ( العثمانية - الصفوية - المملوكية )  
- استخدام البرتغاليون قوة سلاح البارود والأساطيل الضخمة حيث لم تكن متوفرة لدى شعوب الشرق .  
٣- الملاح مارتن فروبيشر .  
( نتائج رحلاته ) يكتفي بنقطتين درجة ص ٢٧  
- وصل إلى جزيرة شتلند ومنها إلى جزيرة جرينلندا - تمكن من اكتشاف مضيق هُسن .



وزارة التربية  
التوجيه الفني العام للاجتماعيات لمادة: تاريخ العالم الحديث والمعاصر  
امتحان نهاية الفترة الدراسية الثانية العام الدراسي: ٢٠١٥ - ٢٠١٦ م  
الزمن : ساعتان وربع  
عدد الأوراق : ( ٧ )

أجب عن اربعة أسئلة مما يأتي على أن يكون السؤال الاول من بينهما اجبارياً :-  
السؤال الاول ( اجباري ) يتكون من ( أ - ب - ج - د )  
( أ ) أكمل العبارات التالية بما يناسبها فيما درست:

- ١- العام الميلادي الذي فتح فيه العثمانيون مدينة القسطنطينية .....
- ٢- المكتشف الايطالي الاصل الذي اكتشف جزيرة نيوفوندلاند وشبة جزيرة لبرادور اسمه .....
- ٣- دولة عربية وقعت تحت الاحتلال الانجليزي عام ١٨٨٢م اسمها .....
- ٤- مدينة عربية نزل بها الهولنديون ونقلوا منها البن الى اوروبا عام ١٦١٦م اسمها .....
- ٥- عالم اخترع المصباح الكهربائي عام ١٨٧٧م اسمه .....
- ٦- التجارة التي ظهرت نتيجة لجلب الاوربيين العبيد من افريقيا الى العالم الجديد اسمها .....
- ٧- مدينة سقطت على يد القبائل الجرمانية عام ٤٧٦م اسمها .....

( ب ) - اكتب المفاهيم والمصطلحات الدالة على العبارات التالية :

- ١- (.....) نظام ظهر في اوروبا في العصور الوسطى وادى الى تقسيم المجتمع الاوروبي الى مجتمع طبقي.
- ٢- (.....) سيطرة دولة ما بالاتفاقيات السياسية او القوة العسكرية او الاقتصادية على دولة اخرى واستغلال مواردها.
- ٣- (.....) حاجة الاوروبيين الى المزيد من الذهب والفضة في النصف الثاني من القرن الخامس عشر.
- ٤- (.....) عملية تغير شامل في ادوات الانتاج ووسائله وحجمه وعلاقاته ومستواه وتبدل كامل في اساليب التمويل والتسويق والتوزيع .
- ٥- (.....) حركة انطلقت من ايطاليا ثم انتقلت لكافة انحاء اوروبا.
- ٦- (.....) هجرة مجموعة من سكان دولة اجنبية قوية الى دولة ضعيفة و تملك الارض بطرد السكان المحليين.

ج) ضع خطا تحت العنصر المناسب من بين الخيارات التي تلي كل عبارة :

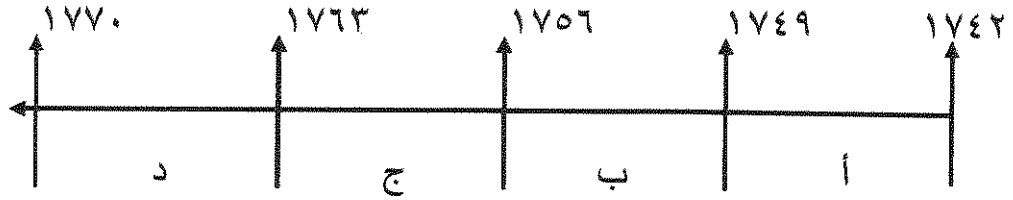
١- استمرت الفترة التاريخية التي بذل فيها المفكرون الاوروبيون جهدا في احياء الدراسات اليونانية القديمة من سنة :

أ- (١٥٠٠م - ١٨٠٠م) ب- (١٣٠٠م - ١٥٠٠م) ج- (١٢٠٠م - ١٦٠٠م) د- (١٤٠٠م - ١٧٠٠م)

٢- عدد الحجج التي قام مارتن لوثر بتعليقها على باب كنيسة وتبرج عام ١٥١٧ م :

أ- ٩٢ حجة ب- ٩٣ حجة ج- ٩٤ حجة د- ٩٥ حجة

٣- الفترة الزمنية التي تمثل حرب السنين السبع يمثلها على المخطط الزمني الحرف :



٤- أول من استخدم طريق رأس الرجاء الصالح للوصول إلى الهند :

أ- فاسكو دي جاما ب- هنري الملاح ج- جون سباستيان د- ماجلان

٥- مدينة أسسها جاك كارتية على نهر سانت لورنس وكانت بداية لانشاء امبراطورية فرنسية في امريكا :

أ- سانت مالو ب- كوبك ج- مونتريال د- نيويورك

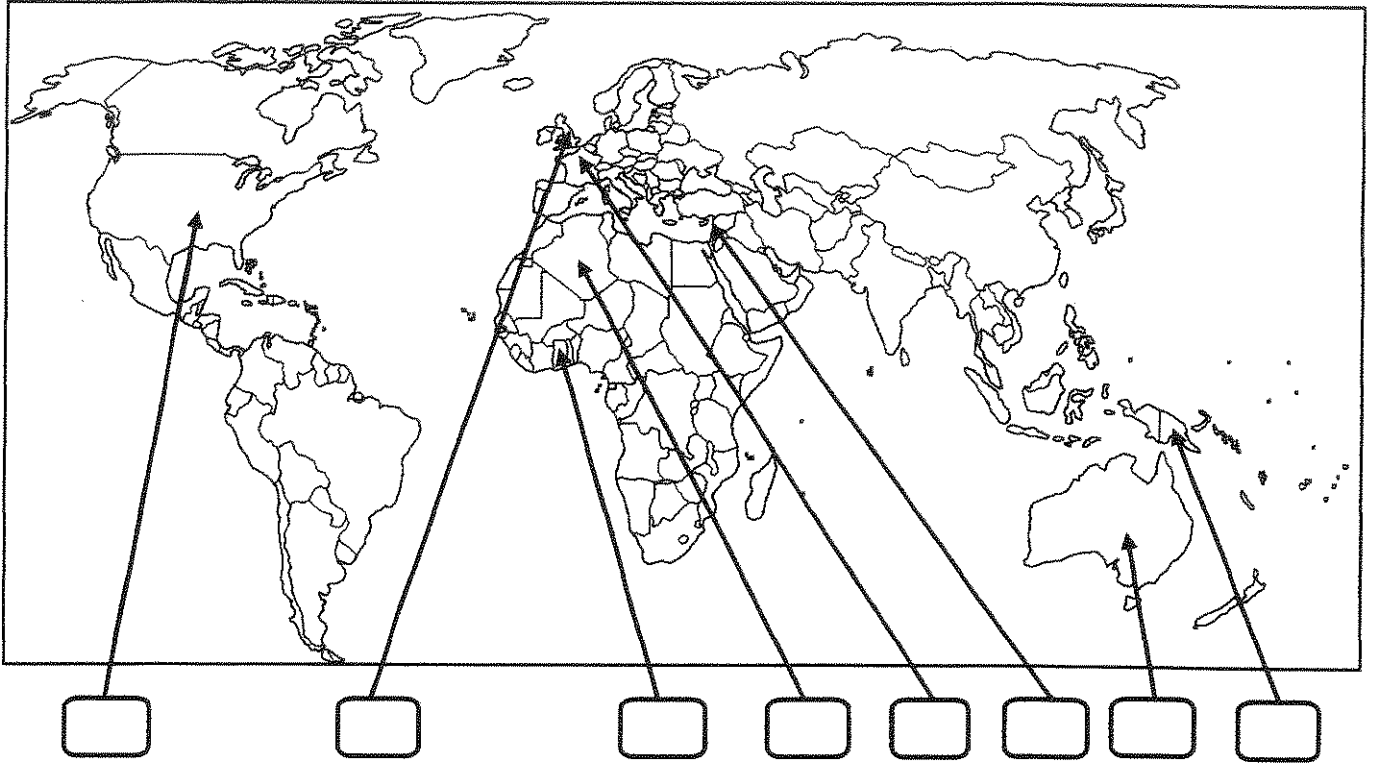
٦- عالم ينسب اليه الفضل في اختراع اللاسلكي (الراديو) :

أ- جراهام بل ب- صمويل موريس ج- وليم ماركوني د- بلانشارد

٧- رحالة اكتشف بحيرة سليف الكبرى :

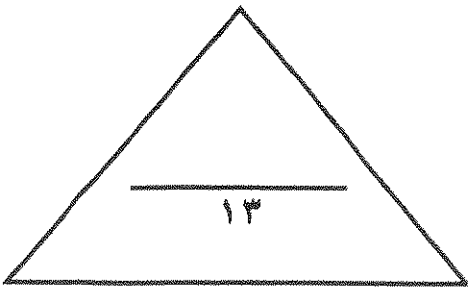
أ- روبرت بيرري ب- صمويل هيرن ج- الكسندر ماكينزي د- روبرت ماكلور

(د) لاحظ خريطة العالم التي امامك ثم نفذ المطلوب مما يليها :



ضع رقم كل عبارة مما يلي في المربعات على الخريطة :

- ١- قارة اكتشافها الملاح جيمس كوك .
- ٢- دولة عربية احتلتها فرنسا عام ١٨٣٠ م .
- ٣- دولة يرجع اليها الفضل في اكتشاف كندا .
- ٤- منطقة توقفت عندها رحلة هنري الملاح .
- ٥- الدولة التي انطلقت منها الثورة الصناعية .
- ٦- احدى مراكز الحضارة العربية الاسلامية التي اسهمت في قيام الحضارة الاوروبية .



السؤال الثاني : اختياري يتكون من ( ا ، ب ، ج )  
( أ ) علل كل مما يلي :-

١- قيام حركة الاصلاح الديني فى اوروبا .

- .....
- .....
- .....

٢- اسبقية البرتغال لدول اوروبا فى مجال الكشوف الجغرافيه .

- .....
- .....

٣- نمو المدن الأوربية وازدهارها .

- .....
- .....
- .....

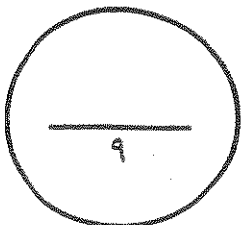
( ب ) - فرق بين كل من :

نظرية كوبرنيكوس	نظرية بطليموس
.....	.....
.....	.....

( ج ) كون فقرة مترابطة مستعيناً بالكلمات التاليه :

امريكو فسبوتشى - ثلاث رحلات - البرتغال - الغرب - العالم الجديد

- .....
- .....
- .....



السؤال الثالث : اختياري يتكون من ( ا ، ب ، ج )

( ا ) عرف لكل ما يلي :

١- الإنسانيون :

..... -

٢- الاستعمار الأوروبي :

..... -

٣- أنتاركتيكا :

..... -

( ب ) ما النتائج المترتبة على كل مما يلي :-

١- قيام النظام الإقطاعي في أوروبا .

..... -

..... -

..... -

٢- دور هنري الملاح في حركة الكشوف الجغرافية .

..... -

..... -

..... -

( ج ) ما تفسيرك فيما يلي :

١- قيام الثورة الصناعية في إنجلترا .

..... -

..... -

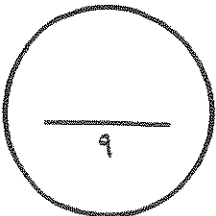
..... -

٢- انهيار الإمبراطورية الأسبانية

..... -

..... -

..... -



السؤال الرابع : اختياري يتكون من ( ا، ب، ج )

( أ ) اجب عما يلي :

١- الجهود التي بذلها المفكرون الأوروبيون في إحياء الدراسات اليونانية القديمة .

..... -  
..... -

٢- شكل الاقتصاد الأوروبي قبل قيام الثورة الصناعية .

..... -  
..... -

٣- النتائج الاقتصادية لحركة الكشوف الجغرافية .

..... -  
..... -

( ب ) قارن بين كل من طبقا للجدول التالي :

الوصاية	الانتداب	المعاصرة
.....	.....	تاريخ النشأة
.....	.....	التعريف

( ج ) نفذ المطلوب منك بين الأقواس :

(الاجتماعية)

١- نتائج الكشوف الجغرافية .

..... -  
..... -  
..... -

(العامل السكاني)

٢- عوامل قيام النظام الاستعماري الأوروبي .

..... -  
..... -  
..... -

السؤال الخامس : اختياري يتكون من ( ا، ب، ج )

( أ ) عدد لكل من:

١- أهم المطالب التي قدمها مارتن لوثر للأصلاح.

..... -

..... -

٢- النتائج السياسية للثورة الصناعية .

..... -

..... -

٣- العوامل الاستراتيجية للاستعمار الاوروبي.

..... -

..... -

( ب ) اكتب المطلوب مما درست فيما يلي :

١- عوامل النهضة الايطالية في اوربا.

..... -

..... -

..... -

..... -

٢- الاستعمار و آثاره السلبية على المستعمرات.

..... -

..... -

..... -

..... -

( ج ) بالور كل من الشخصيات التالية :

١- الاخوان رابيت

..... -

٢- جون كني

..... -

انتهت الأسئلة مع تمنياتنا لكم بالتوفيق





وزارة التربية

امتحان نهاية الفترة الدراسية الثانية العام الدراسي: ٢٠١٥ - ٢٠١٦ م

الزمن : ساعتان وربع

عدد الأوراق : ( ٧ )

مادة: تاريخ العالم الحديث والمعاصر

للمصف الثاني عشر الأدبي

التوجيه الفني العام للاجتماعيات

اجب عن اربعة اسئلة مما يأتي على ان يكون السؤال الاول من بينهما اجبارياً :-

السؤال الاول ( اجباري ) يتكون من ( ا - ب - ج - د )

( ا ) اكمل العبارات التالية بما يناسبها فيما درست : ( ١/٢ درجات لكل نقطة ١/٢ درجة )

- ١- العام الميلادي الذي فتح فيه العثمانيون مدينة القسطنطينية ١٤٥٣ م ص ١٢
- ٢- المكتشف الايطالي الاصل الذي اكتشف جزيرة نيوفونديلاند وشبة جزيرة لبرادور اسمه جون كابوت ص ٢٧
- ٣- دولة عربية وقعت تحت الاحتلال الانجليزي عام ١٨٨٢م اسمها مصر ص ٥١
- ٤- مدينة عربية نزل بها الهولنديون ونقلوا منها البن الى اوروبا عام ١٦١٦م اسمها مخا ص ٥٥
- ٥- عالم الفيزياء الكهربائي عام ١٨٧٧م اسمه توماس اديسون ص ٦٧
- ٦- التجارة التي ظهرت نتيجة لطب الأوربيين العبيد من أفريقيا الى العالم الجديد اسمها الرق ص ٤٦
- ٧- مدينة سقطت على يد القبائل الجرمانية عام ٤٧٦م اسمها روما ص ١١

( ب ) - اكتب المفاهيم والمصطلحات الدالة على العبار الآتية (الاجابة بـ ١/٢ درجات لكل نقطة ١/٢ درجة)

- ١- ( النظام الاقطاعي ) نظام ظهر في اوروبا في العصور الوسطى ٢٠١٥ م الذي تقسيم المجتمع الاوروبي الى مجتمع طبقي. ص ١١
- ٢- ( الاستعمار ) سيطرة دولة ما بالاتفاقيات السياسية او القوة العسكرية او الاقتصادية على دولة اخرى واستغلال مواردها. ص ٤٩
- ٣- ( المجاعة النقدية ) حاجة الاوروبيين الى المزيد من الذهب والفضة في النصف الثاني من القرن الخامس عشر. ص ٢٥
- ٤- ( الثورة الصناعية ) عملية تغير شامل في انوات الانتاج ووسائله وحجمه وعلاقاته ومستواه وتبدل كامل في اساليب التمويل والتسويق والتوزيع ص ٦١
- ٥- ( النهضة ) حركة انطلقت من ايطاليا ثم انتقلت لكافة انحاء اوروبا. ص ١٢
- ٦- ( استيطان ) هجرة مجموعة من سكان دولة اجنبية قوية الى دولة ضعيفة و تملك الارض بطرد السكان المحليين. ص ٥٠

(ج) ضع خطاً تحت العنصر المناسب من بين الخيارات التي تلي كل عبارة : (٣ ½ لكل نقطة ½ درجة)

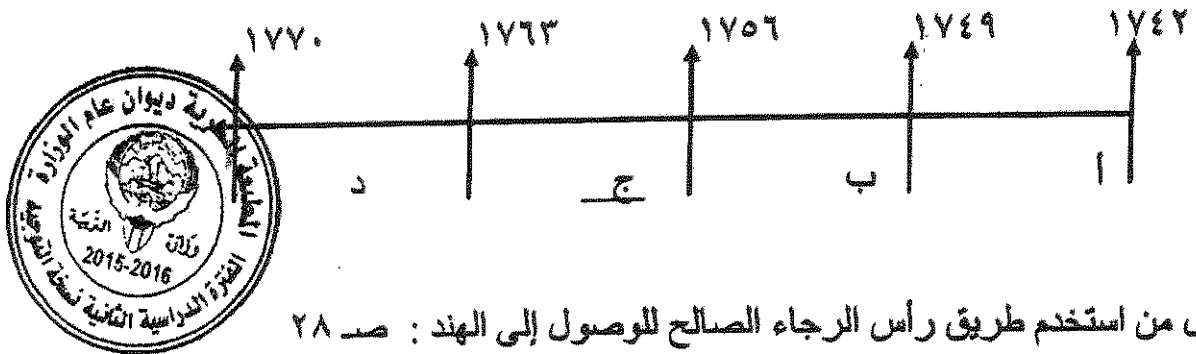
١- استمرت الفترة التاريخية التي بذل فيها المفكرون الاوروبيون جهدا في احياء الدراسات اليونانية القديمة من سنة : ص ١٥

أ- (١٥٠٠م - ١٨٠٠م) ب- (١٣٠٠م - ١٥٠٠م) ج- (١٢٠٠م - ١٦٠٠م) د- (١٤٠٠م - ١٧٠٠م)

٢- عدد الحجج التي قام مارتن لوثر بتعليقها على باب كنيسة وتنبرج عام ١٥١٧م : ص ٢٠

أ- ٩٢ حجة ب- ٩٣ حجة ج- ٩٤ حجة د- ٩٥ حجة

٣- الفترة الزمنية التي تمثل حرب السنين السبع يمثلها على المخطط الزمني الحرف : ص ٥٥



٤- أول من استخدم طريق رأس الرجاء الصالح للوصول إلى الهند : ص ٢٨

أ- فاسكو دي جاما ب- هنري الملاح ج- جون سباستيان د- ماجلان

٥- مدينة أسسها جاك كارتييه على نهر سانت لورنس وكانت بداية لانشاء امبراطورية فرنسية في امريكا : ص ٤٠

أ- سانت مالو ب- كويبيك ج- مونتريال د- نيويورك

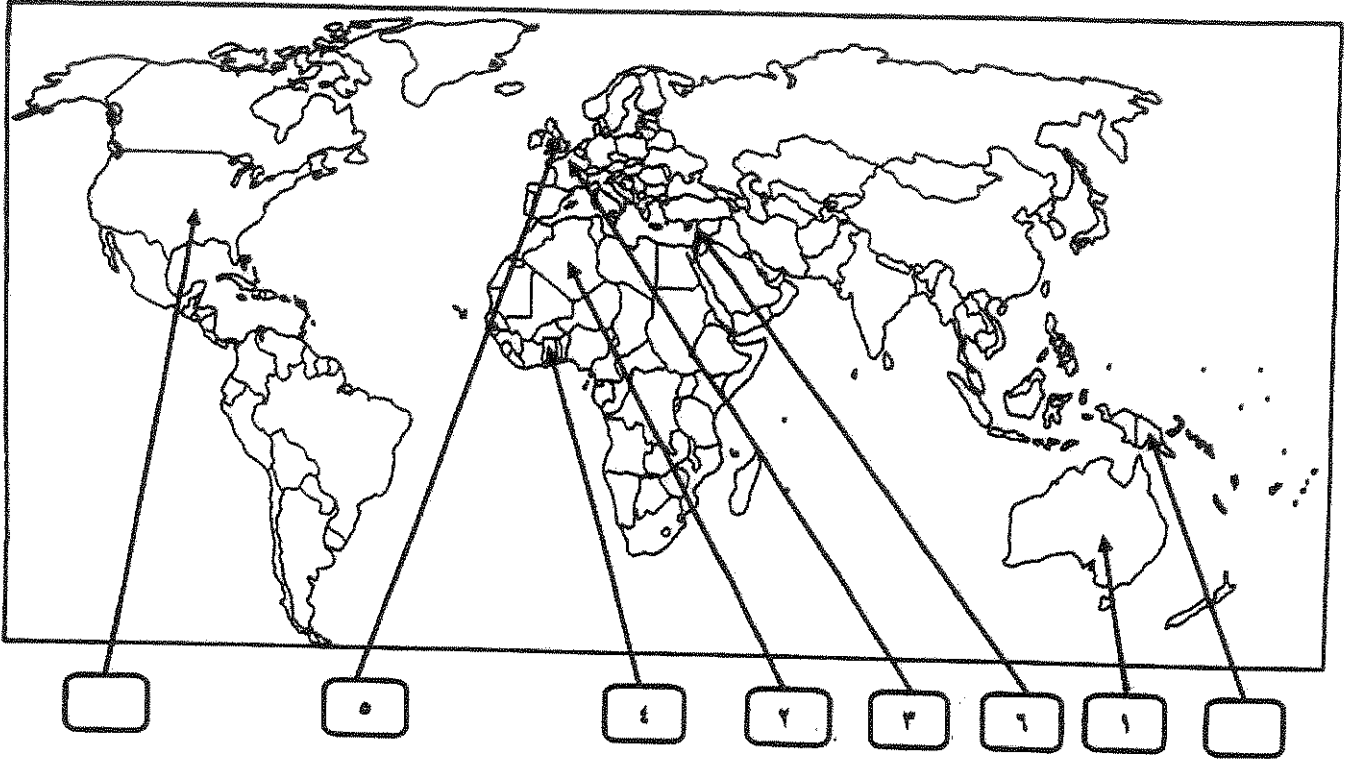
٦- عالم ينسب اليه الفضل في اختراع اللاسلكي (الرائد) : ص ٦٨

أ- جراهام بل ب- صمويل موريس ج- وايم ماركوني د- بلانشارد

٧- رحالة اكتشف بحيرة سليف الكبرى : ص ٤٢

أ- روبرت بيرري ب- صمويل هيرن ج- الكسندر ماكينزي د- روبرت ماكلور

(د) لاحظ خريطة العالم التي امامك ثم نفذ المطلوب مما يليها :



ضع رقم كل عبارة مما يلي في المربعات على الخريطة : (ثلاث درجات لكل نقطة نصف درجة)



- ١- قارة اكتشافها الملاح جيمس كوك . ص ٣٩
- ٢- دولة عربية احتلتها فرنسا عام ١٨٣٠ م . ص ٥١
- ٣- دولة يرجع اليها الفضل في اكتشاف كندا . ص ٤٠
- ٤- منطقة توقفت عندها رحلة هنري الملاح . ص ٢٧
- ٥- الدولة التي انطلقت منها الثورة الصناعية . ص ٦٢
- ٦- احدى مراكز الحضارة العربية الاسلامية التي اسهمت في قيام الحضارة الاوروبية . ص ١٤

**السؤال الثاني : اختياري يتكون من ( ا ، ب ، ج )  
( ا ) علل كل مما يلي :-**

- ١- قيام حركة الاصلاح الديني في اوروبا ص ٢٠ (درجة ونصف )  
- اهتمام اوروبا بالحياة الدنيوية - ظهور كثير من المصلحين الذين نادوا بتخليص الكنيسة من مفسادها  
- الرغبة في تحرير التقدم العلمي من قيود الكنيسة - جهود الحركة الإنسانية في التنبيه لأهمية إصلاح الكنيسة
- ٢- اسبقية البرتغال لدول اوروبا في مجال الكشوف الجغرافيه ص ٢٧ (درجة واحدة)  
- توفر الأدوات اللازمة من علم وخبرة وسفن متطورة .  
- استقرار الوضع في بلادهم وذلك وجهوا اهتمامهم لاكتشاف طريق جديد خارج البحر المتوسط.  
٣- نمو المدن الأوروبية وازدهارها : ص ١٦ (درجة ونصف )  
- ظهور الطبقة الوسطى البرجوازية  
٢- تحالف المدن الصغيرة في شكل كونفدراليون عام الوزارة  
- قيام ثورة ثقافية من خلال إنشاء المدارس في المدن بعيداً عن سيطرة الأديرة
- (ب) - فرق بين كل من :**



نظرية بطليموس	نظرية كوبرنيكوس
تقول هذه النظرية ان الارض هي محور الكون. ص ٤٦	تقول هذه النظرية ان الشمس هي محور الكون وان الكواكب الاخرى بما فيها الارض تنور حولها . ص ٤٦
(درجة واحدة)	(درجة واحدة)

**( ج ) كون فقرة مترابطة مستعينا بالكلمات التالية : ص ٣٤ (٣ درجات)**

امريكو فسبوتشي - ثلاث رحلات - البرتغال - الغرب - العالم الجديد

امريكو فسبوتشي مكتشف ايطالي قام بثلاث رحلات من اوروبا لحساب البرتغال متجها الى الغرب عبر المحيط الاطلسي حيث اكتشف ساحل المكسيك والبرازيل وسمى العالم الجديد باسمه . ( او ما يراه المصصح مناسب )

### السؤال الثالث : اختياري يتكون من ( ا ، ب ، ج )

( ا ) عرف لكل ما يلي : ( ثلاث درجات لكل نقطة درجة )

١- الانسانيون : ص ١٧

هم مجموعة من الكتاب عبروا في كتاباتهم الأدبية عن صورة الإنسان الذي يتصف بالإبداع والثقة بالنفس والمحب للحياة في جوانبها المشرقة .

٢- الاستعمار الأوروبي : ص ٤٩

استغلال دولة قوية لدولة ضعيفة بهدف السيطرة على مواردها الاقتصادية أو الإنتفاع من موقعها الإستراتيجي.

٣- أنتاركتيكا : ص ٤٣

هي القارة الواقعة حول القطب الجنوبي والوحيدة المجهولة بالنسبة للعالم و غير أهله بالسكان .

( ب ) ما النتائج المترتبة على كل مما يلي :-

١- قيام النظام الإقطاعي في أوروبا . ص ١١  
- تقسيم المجتمع الأوروبي إلى مجتمع طبقي  
- عاش الناس في جهل وتخلف  
- حرما من حرية التفكير والبحث العلمي  
- الصراع الدائم بين البابوية والامبراطورية .  
( درجة ونصف )

٢- دور هنري الملاح في حركة الكشوف الجغرافية . ص ٢٧  
- أنشأ مدرسة بحرية - اهتم برسم الخرائط - أنشأ مرصد بحري  
- جلب علماء الرياضيات ورسامي الخرائط والفلكيين من إيطاليا وصقلية . - استعان بالمسلمين الذين كانت لهم دراية في المجال البحري .  
( درجة ونصف )



( ج ) ما تفسيرك فيما يلي :

١- قيام الثورة الصناعية في إنجلترا . ص ٦٢  
- الإستقرار الداخلي ووجود الدستور ونظام برلماني . - وفرة رأس المال - وجود أسطول تجاري كبير .  
- تشجيع العلماء والمخترعين . - سهولة الحصول على المواد الخام . - وجود القوى المحركة . - توفر الأيدي العاملة الرخيصة .  
( درجة ونصف )

٢- إنهيار الإمبراطورية الأسبانية . ص ٥٤  
( درجة ونصف )

- استبعاد الأسبان والمعاملة السيئة للشعوب الأصلية . - استغلال المستعمرات لمصلحة أسبانيا والملك .  
- تدفق الثروات على الأسبان جعل بقية الدول الإستعمارية بتشجيع من حكوماتهم بالسطو على السفن الأسبانية . - تحطم الأسطول الأسباني ( الأرمادا ) على يد الإنجليز سنة ١٥٨٨ م .

**السؤال الرابع : اختياري يتكون من ( ا، ب، ج )**  
**( ا ) اجب صا على :**

- ١- الجهود التي بذلها المفكرون الأوروبيون في إحياء الدراسات اليونانية القديمة . ص ١٥ (درجة واحدة )  
- تبادل علماء القسطنطينية وإيطاليا الزيارات العلمية . - تنافس الأمراء والأثرياء في إنشاء المكتبات .  
- ظهور الأكاديميات العلمية في إيطاليا مما ساعد على إثراء الحركة العلمية . - جهود أسرة آل مديتشي  
وأسرة سوفرازا في رعاية الحركة الأدبية والفنية . - اختراع أحرف الطباعة المعدنية على يد الألماني  
حنا جوتنبرج .  
٢- شكل الاقتصاد الأوروبي قبل قيام الثورة الصناعية ص ٦١ (درجة واحدة )

- كانت الزراعة هي المحور الأساسي للدخل القومي لمعظم دول أوروبا حيث كان غالبية السكان يعملون  
فيها . - كانت الحركة التجارية محدودة ومفككة حيث تفتقر الى وسائل المواصلات التي تربطها . - ظهور  
المد الإستعماري أدى إلى تدفق الثروات والمواد الخام من المستعمرات إلى أوروبا .

**٣- النتائج الاقتصادية لحركة الكشوف الجغرافية ص ٤٥ (درجة واحدة )**

- تحول طرق التجارة بين اسيا وأوروبا وفقد البحر المتوسط مكانته التجارية - تدفقت الثروات والمعادن  
الثمينة على أوروبا مما أدى إلى ارتفاع الأسعار وتضرر الفلاحون والفئات العامة - قيام صناعات جديدة  
مما أدى إلى زيادة رؤوس الاموال فظهرت الحاجة إلى مستعمرات لتصريف المصنوعات والحصول على  
المعادن المواد الأولية - ظهور البورصات وازدياد نشاط المصارف .



**( ب ) قارن بين كل من طبقا للجدول التالي : ص ٤٥**

المعانية	الانتداب	الوصاية
تاريخ النشأة	١٩١٩ ( ١/٢ درجة )	١٩٤٥ ( ١/٢ درجة )
التعريف	انتداب الدول المنتصرة في الحرب العالمية الأولى لإدارة شؤون الاقطار التي تحكمها الدولة العثمانية او المانيا لهزيمتها بالحرب ( درجة واحدة )	وضع المناطق التي كانت تحت النفوذ الألماني والايطالي والياباني تحت وصاية دولة من اختيار الأمم المتحدة ( درجة واحدة )

**( ج ) نفذ المطلوب منك بين الأقواس :**

- ١- نتائج الكشوف الجغرافية .  
- اعتمدت على سياسة ابادة السكان الأصليين في العالم الجديد . - جلب العبيد من أفريقيا وظهور تجارة  
الرق . - ظهور الطبقة الرأسمالية التي لعبت دوراً مهماً في أوروبا .  
٢- عوامل قيام النظام الاستعماري الأوروبي . ( العامل السكاني ) ص ٥٠ ( درجة ونصف )  
- الثورة الصناعية ساعدت على الزيادة السكانية لدول أوروبا . - زيادة عدد السكان في أوروبا أدى إلى  
إتباع سياسة التهجير إلى الأقاليم المستعمرة . - تحسن الخدمات الطبية ساعد على الزيادة السكانية  
الطبيعية في أوروبا . - العمل على تجنيد سكان المستعمرات لصالح القوى العسكرية للدول الإستعمارية .

السؤال الخامس : اختياري يتكون من ( ا، ب، ج )

( أ ) عدد لكل من:

١- أهم المطالب التي قدمها مارتن لوثر للأصلاح. ص ٢٠ يكتفي بنقطتين (درجة واحدة)  
- معارضة فكرة صنوك الغفران. - رفض احتكار البابا لتفسير الكتاب المقدس.  
- طلب انقاص عدد الأديرة. - عارض الحج الى روما. - المطالبة بالسماح بزواج رجال الدين

٢- النتائج السياسية للثورة الصناعية. ص ٦٩ يكتفي بنقطتين (درجة واحدة)  
- ظهور الأحزاب السياسية المدافعة عن حقوق العمال. - سيطرة الطبقة الرأسمالية على مقاليد السلطة السياسية بأوروبا. - التسابق الإستعماري حول المستعمرات لجلب المواد الخام منها وجعلها أسواق للإنتاج الصناعي.

٣- العوامل الاستراتيجية للاستعمار الأوربي. ص ٥٠ يكتفي بنقطتين (درجة واحدة)



- استغلال المواقع الاستراتيجية للأقامة المحطات التجارية و القواعد العسكرية  
- حماية خطوط المواصلات البحرية. - توفير خدمات للسفن التجارية

(ب) اكتب المطلوب مما درست فيما يلي :

١- عوامل النهضة الإيطالية في أوروبا. ص ١٢  
- لعبت دور الوسيط التجاري بين موانئ البحر المتوسط. - وجود مركز البابويه فيها.  
- حلقة اتصال بين الشرق و الغرب. - ماضي الامبراطورية الرومانية العريقة.

٢- الاستعمار و آثاره السلبية على المستعمرات. ص ٥٧ (درجتان)  
- قامت القوى الحاكمة بتعطيل الهياكل الاقتصادية التقليدية. - حطم المستعمرون الانشطة التجارية والصناعية في المستعمرات. - فقدان شعوب المستعمرات القدرة على التحكم في مقدراتها الاقتصادية. - حاول المستعمرون فرض ثقافتهم على الشعوب المستعمرة.

(ج) ما دور كل من الشخصيات التالية :

(درجة واحدة)

ص ٦٦

١- الاخوان رابت

- اختراع طائرة ذات محرك بنزولين مما ادى الى تطور عالم الطيران.

(درجة واحدة)

ص ٦٣

٢- جون كني

- اختراع المحرك الطائرة مما ادى الى زيادة سرعة النسيج

الزمن : ساعتان وربع

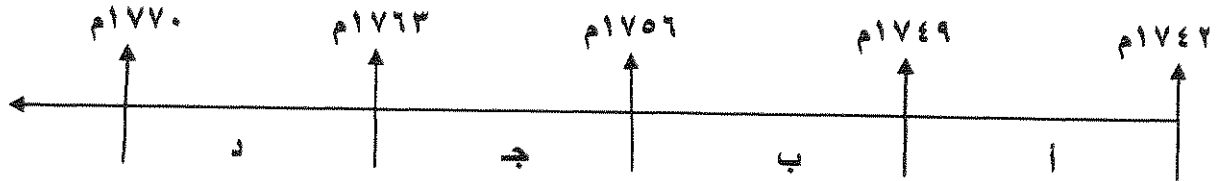
امتحان نهاية الفترة الدراسية الثانية  
للصف الثاني عشر / أدبي للعام ٢٠١٤ / ٢٠١٥ م  
في مادة تاريخ العالم الحديث والمعاصر

أجب عن أربعة أسئلة مما يلي على أن يكون السؤال الأول من بينها إجباريا :-

السؤال الأول ( إجباري ) يتكون من ( أ - ب - ج - د ) :-

أ - اختر البديل الصحيح من بين البدائل التي تلي كل عبارة مما يلي وضع خطا تحته :

١- الفترة الزمنية التي تمثل حرب السنين السبع يمثلها على المخطط الزمني الحرف :



٢- الجزر التي اكتشفها البرتغاليون في عهد هنري الملاح :

- أ- كوبا  
ب- هايتي  
ج- ترينداد  
د- آزور

٣- رواد الحركة الفنية الذين برعوا في مجال النحت يمثلهم في الجدول المقابل الأرقام :

- أ- ( ٣ ، ١ )  
ب- ( ٤ ، ٢ )  
ج- ( ٥ ، ٣ )  
د- ( ٥ ، ٢ )

٤- العالم الذي اخترع القاطرة البخارية :

- أ - ليفولوس أوتو  
ب - ديمر وينز  
ج - جورج ستيفنسن  
د - روبرت فولتن

٥- الرحالة البرتغالي الذي اكتشف رأس الرجاء الصالح :

- أ - بارثلميو دياز  
ب - فاسكو دي جاما  
ج - ماجلان  
د - كريستوفر كولمبس

٦- الدولة العربية التي احتلتها فرنسا عام ١٨٣٠ م :

- أ - تونس  
ب - سوريا  
ج - الجزائر  
د - موريتانيا

ب - أكتب المفهوم الدالة عليه التعريفات التالية :-

- ١- ( طبقة اجتماعية تحالفت مع الملوك في أواخر العصور الوسطى لتحطيم نظام الإقطاع . )  
٢- ( سفن عملاقة تميزت بكبر حمولتها وازدياد قدرتها على المغامرة وسط المحيطات . )  
٣- ( عملية تغيير شامل في أدوات الإنتاج ووسائله وحجمه وعلاقاته ومستواه . )  
٤- ( حركة قام بها الأوروبيون خلال القرنين ١٥ - ١٦ م ساعدت على تطور خريطة العالم . )

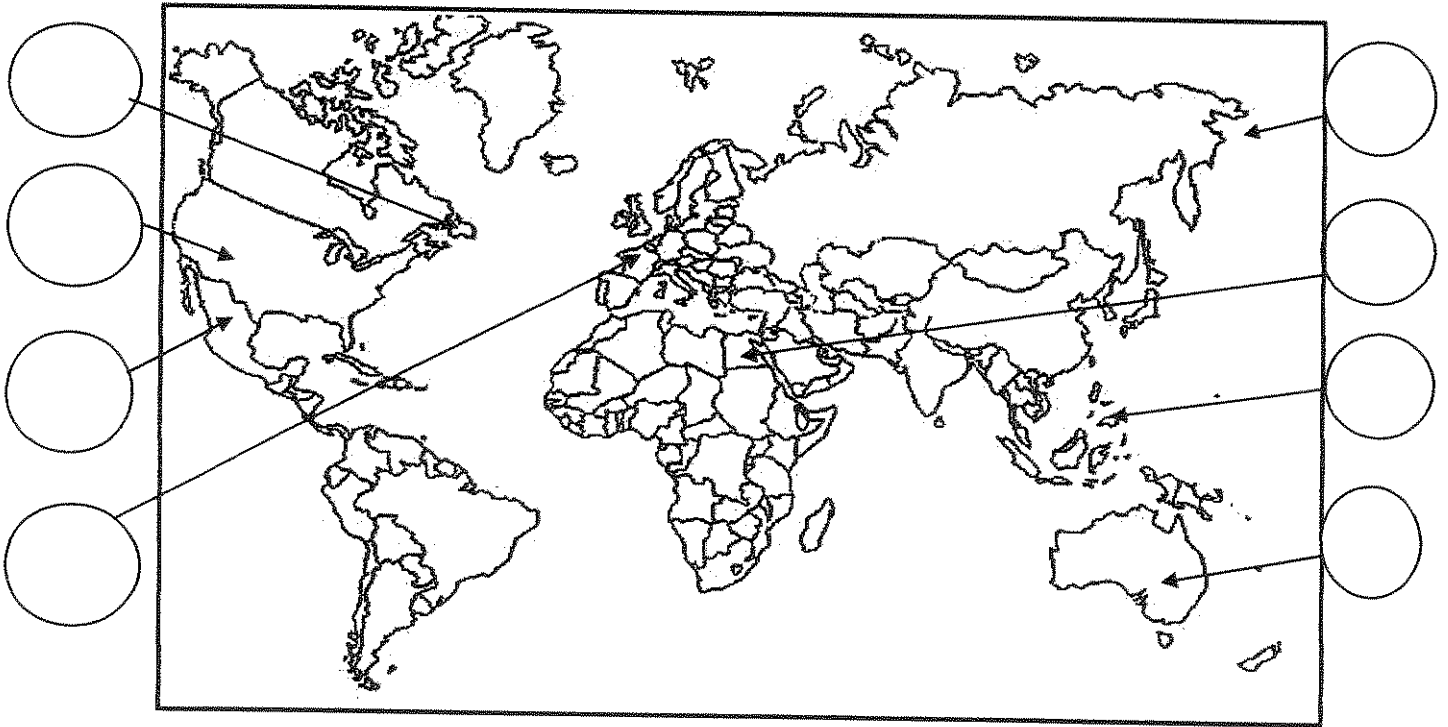


تابع السؤال الأول :-

ج - أكمل الجمل التالية بما يناسبها :-

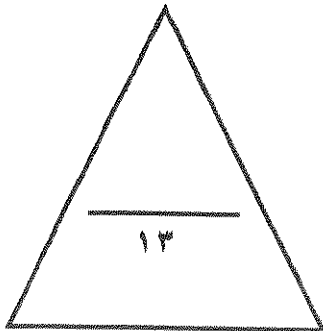
- ١- البحار البرتغالي الذي احتل جزيرة سوقطرة عام ١٥٠٦م يسمى .....
- ٢- ~~المجال الذي برع فيه العالم هنري بيتر يسمى .....~~
- ٣- الحضارة التي ظهرت في بيرو تسمى .....
- ٤- ملكة بريطانيا التي تم في عهدها تأسيس مستعمرة فرجينيا عام ١٦٠٧م تسمى .....
- ٥- الكتاب الذي نشر فيه ماكيافيللي آرائه السياسية يسمى .....
- ٦- الملك الفرنسي الذي شجع قيام شركة الهند الشرقية الفرنسية عام ١٦٦٤م يسمى .....

د- لاحظ خريطة العالم التي أمامك جيدا ثم نفذ المطلوب :



ضع رقم كل عبارة مما يلي في الدوائر على الخريطة:

- ١- جزر قتل فيها ماجلان في صراع مع السكان .
- ٢- أحد مراكز انتقال الحضارة العربية الإسلامية إلى أوروبا .
- ٣- منطقة ظهرت فيها حضارة الأزتك .
- ٤- جزيرة أكتشفها الملاح جيمس كوك .
- ٥- دولة يرجع إليها الفضل في اكتشاف كندا .
- ٦- جزيرة أكتشفها الملاح جون كابوت .



السؤال الثاني ( اختياري ) يتكون من ( أ - ب - ج ) :-

أ - علل لكل مما يلي :-

١- إيطاليا في مقدمة حركة النهضة الأوروبية .

- ..... ●
- ..... ●
- ..... ●
- ..... ●

٢- انهيار الامبراطورية الأسبانية .

- ..... ●
- ..... ●

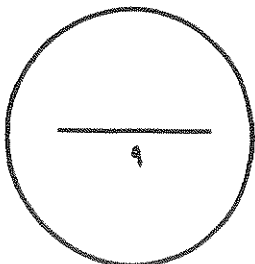
ب - فرق حسب الجدول :-

نظرية كوبرنيكوس في مجال الفلك	نظرية بطليموس في مجال الفلك
..... ● .....	..... ● .....

ج - دال على صحة العبارة التالية :-

١- أن الثورة الصناعية أحدثت تغييرا سياسيا في قارة أوروبا .

- ..... ●
- ..... ●
- ..... ●



السؤال الثالث ( اختياري ) يتكون من ( أ - ب - ج ) :-

١ - اكتب فقرة مترابطة من ثلاثة أسطر مستعينا بالكلمات التالية :-

(( الإستعمار الأوروبي - الحضارة الأوروبية - الإرساليات التبشيرية - المستشرقون ))

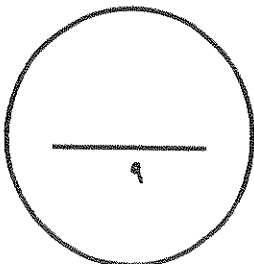
ب - فرق حسب الجدول التالي :-

عوامل انهيار الإمبراطورية الهولندية	عوامل انهيار الإمبراطورية البرتغالية في الشرق
<ul style="list-style-type: none"><li>.....</li><li>.....</li></ul>	<ul style="list-style-type: none"><li>.....</li><li>.....</li></ul>
نتائج رحلة كولمبس الثانية	نتائج رحلة كولمبس الأولى
<ul style="list-style-type: none"><li>.....</li><li>.....</li></ul>	<ul style="list-style-type: none"><li>.....</li><li>.....</li></ul>

ج - ماذا يحدث لو لم :-

١- اخترع حنا جوتنبرج أحرف الطباعة المعدنية .

٢- اخترع توماس أديسون المصباح .



السؤال الرابع ( اختياري ) يتكون من ( أ - ب - ج ) :-

أ - أكتب النتائج المترتبة على كل مما يلي :-

١- رحلة فاسكو دي جاما .

..... ●  
..... ●

٢- حركة الإصلاح الديني في أوروبا .

..... ●  
..... ●

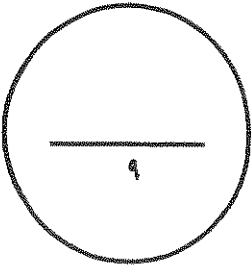
ب - دلل على صدق العبارة التالية :-

" إن العلاقات التي تمت بين قارة أوروبا والقارات الأخرى كانت ذات نتائج عظيمة في الإقتصاد العالمي "

..... ●  
..... ●  
..... ●

ج - ما أوجه الاختلاف بين الإقتصاد الأوروبي قبل ... وبعد الثورة الصناعية .

..... ●  
..... ●



السؤال الخامس ( اختياري ) يتكون من ( أ - ب - ج ) :-

أ - أقرأ الفقرة التالية ثم نفذ المطلوب :-

" اتبعت الدول الإستعمارية أساليب شتى ومتنوعة خلال سيطرتها على الشعوب الأخرى ، حيث هدف الإستعمار لإقامة المحطات التجارية والقواعد العسكرية . وكان لكل أسلوب خصائص خاصة به ، ومع تعدد تلك الخصائص تعددت أشكال الإستعمار . "

١- عرف الإستعمار .

..... \*

٢- عدد أشكال الإستعمار .

..... \*

..... \*

..... \*

..... \*

ب - فند العبارة التالية :-

١- أهملت النهضة الأوروبية دراسة الإنسان .

..... \*

..... \*

ج - علل لكل مما يلي :-

١- قيام حركة الإصلاح الديني في أوروبا .

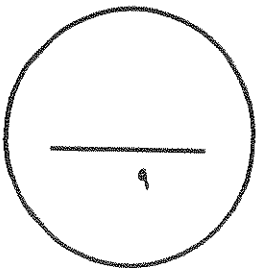
..... \*

..... \*

٢- إنجلترا هي القاعدة التي انطلقت منها الثورة الصناعية .

..... \*

..... \*



انتهت الأسئلة ...،،،،

تمنياتنا لكم بالنجاح والتوفيق ...،،،،

الزمن : ساعتان وربع

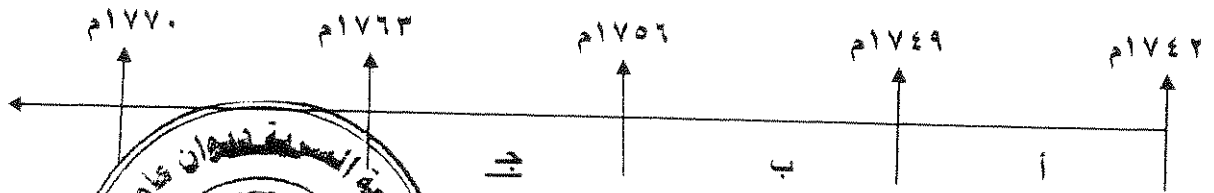
امتحان نهاية الفترة الدراسية الثانية  
للمنتصف الثاني عشر / أدبي للعام ٢٠١٤ / ٢٠١٥ م  
في مادة تاريخ العالم الحديث والمعاصر

أجب عن أربعة أسئلة مما يلي على أن يكون السؤال الأول من بينها إجباريا :-

السؤال الأول ( إجباري ) يتكون من ( أ - ب - ج - د ) لكل نقطة نصف درجة

أ - اختر البديل الصحيح من بين البدائل التي تلي كل عبارة مما يلي وضع خطا تحته :

١- الفترة الزمنية التي تمثل حرب السنين السبع يمثلها على المخطط الزمني الحرف : ص ٥٥



٢- الجزر التي اكتشفها البرتغاليون في عهد هنري الملاح : ص

- أ- كوبا  
ب- هايتي  
ج- ترينداد  
د- أزور

٣- رواد الحركة الفنية الذين برعوا في مجال النحت يمثلهم في الجدول المقابل الأرقام :

ص ١٨

- أ- ( ٣ ، ١ )  
ب- ( ٤ ، ٢ )  
ج- ( ٥ ، ٣ )  
د- ( ٥ ، ٢ )

٤- العالم الذي اخترع القاطرة البخارية : ص ٦٥

- أ- ستيفنسون  
ب- جيمس واتسون  
ج- جورج ستيفنسن  
د- روبرت فوولتون

٥- الرحالة البرتغالي الذي اكتشف رأس الرجاء الصالح : ص ٢٨

- أ- بارثلميو دياز  
ب- فاسكو دي جاما  
ج- ماجلان  
د- كريستوفر كولمبس

٦- الدولة العربية التي احتلتها فرنسا عام ١٨٣٠ م : ص ٥١

- أ- تونس  
ب- سوريا  
ج- الجزائر  
د- موريتانيا

لكل نقطة درجة واحدة

٧- أكتب المصطلح الدالة على التوريفات التالية :

- ١- ( البرجوازية / الوسطى ) طبقة اجتماعية تحالفت مع الملوك في أواخر العصور الوسطى لتحطيم نظام الإقطاع ص ١٦  
٢- ( الكرافيز ) سفن عملاقة تموزت بغير حمولة ( الدماء قارتها على السفنمارة وسط المحيطات ) ص ١٦

تابع إجابة السؤال الأول ( الإجابي ) :

- ٣- ( الثورة الصناعية ) عملية تغيير شامل في أدوات الإنتاج ووسائله وحجمه وعلاقاته ومستواه . ص ٦١
- ٤- ( الكشوف الجغرافية ) حركة قام بها الأوروبيون خلال القرنين ١٥ - ١٦م ساعدت على تطور خريطة العالم .  
تابع السؤال الأول :-  
ص ٢٥

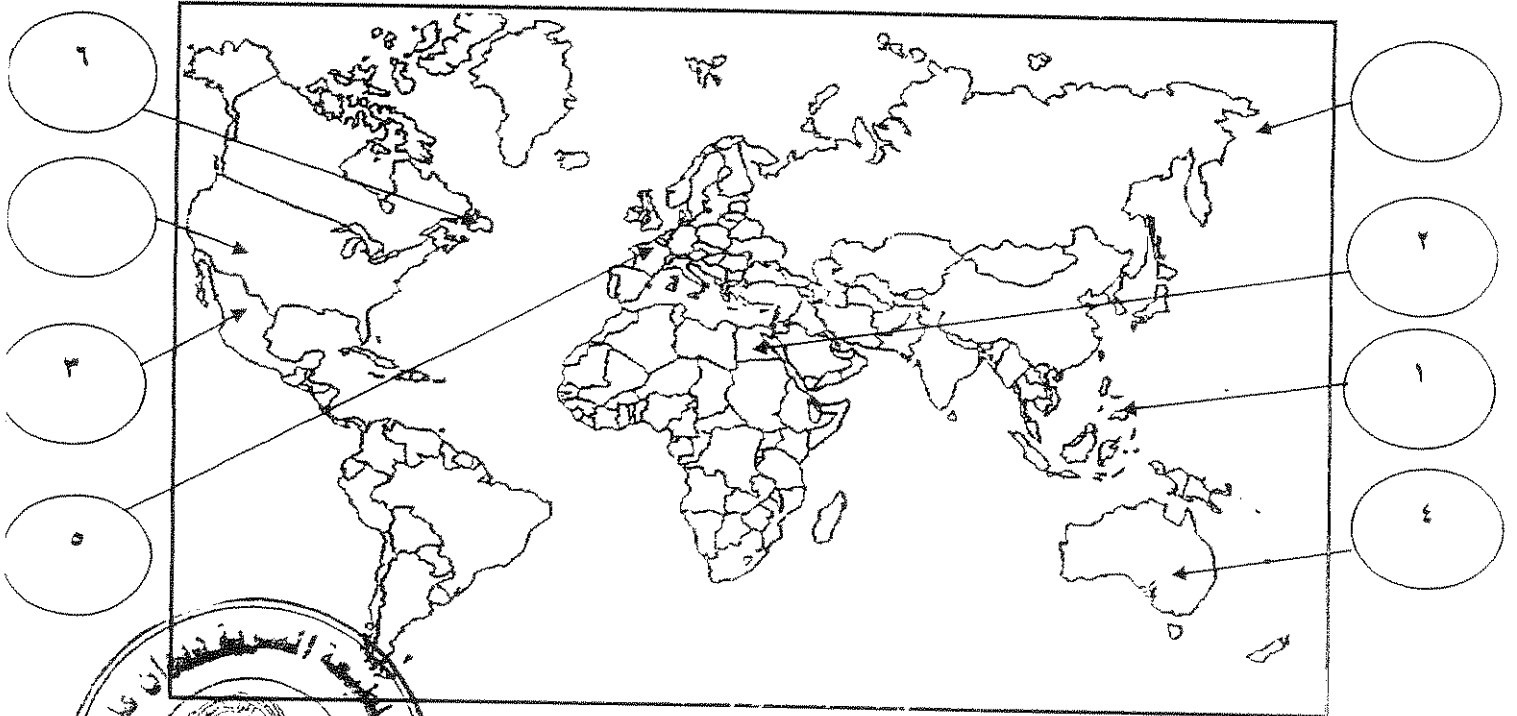
لكل نقطة نصف درجة

جـ - أكمل الجمل التالية بما يناسبها :-

- ١- البحار البرتغالي الذي احتل جزيرة سوكطرة عام ١٥٠٦م يسمى الفونسو دي البوكيرك . ص ٥٣
- ٢- ~~المحار الذي يزرع في العالم طوي يسمى التعدين . ص ٦٤~~
- ٣- الحضارة التي ظهرت في بيرو تسمى الأنكا . ص ٥٤
- ٤- ملكة بريطانيا التي تم في عهدها تأسيس مستعمرة فرجينيا عام ١٦٠٧م تسمى اليزابيث . ص ٥٦
- ٥- الكتاب الذي نشر فيه ماكيافيللي آرائه السياسية يسمى الأمير . ص ٢١
- ٦- الملك الفرنسي الذي شجع قيام شركة الهند الشرقية الفرنسية عام ١٦٦٤م يسمى لويس الرابع عشر . ص ٥٥

لكل نقطة نصف درجة

د- لاحظ خريطة العالم التي أمامك جيدا ثم نفذ المطلوب :



ضع رقم كل عبارة مما يلي في الدوائر على الخريطة :

- ١- جزر قتل فيها ماجلان في صراع مع السكان . ص ٣٥
- ٢- أحد مراكز انتقال الحضارة العربية الإسلامية إلى أوروبا . ص ١٤
- ٣- منطقة ظهرت فيها حضارة الأزتك . ص ٥٤
- ٤- جزيرة اكتشفها الملاح جيمس كوك . ص ٢٩
- ٥- دولة يرجع إليها الفضل في اكتشاف كندا . ص ٤١
- ٦- جزيرة اكتشفها الملاح جرن كابوت . ص ٢٧



السؤال الثاني ( اختياري ) يتكون من ( أ - ب - ج ) :-

أ - علل لكل مما يلي :-

ص ١٢

١- إيطاليا في مقدمة حركة النهضة الأوروبية .  $2 = 1 \times 2$

- لعبت دور الوسيط التجاري بين موانئ البحر المتوسط .
- وجود مركز البابوية فيها .
- حلقة اتصال بين الشرق والغرب .
- ماضي الامبراطورية الرومانية العريقة .

ص ٥٤

$2 = 1 \times 2$

٢- انهيار الامبراطورية الأسبانية .

- استبداد الاسبان والمعاملة السيئة للشعوب الأصلية .
- استغلال المستعمرات لمصلحة أسبانيا والملك .
- تدفق الثروات على الأسبان حرض قراصنة الإنجليز والهولنديين والفرنسيين بتشجيع من حكوماتهم على السطو على السفن الأسبانية .
- تحطم الأسطول الأسباني ( الأرمادا ) على يد الإنجليز مما أدى إلى ضعف القوة البحرية الأسبانية .

ص ٤٦

ب - فرق حسب الجدول :- درجة لكل جانب

نظرية بطليموس في مجال الفلك	نظرية كوبرنيكوس في مجال الفلك
<ul style="list-style-type: none"><li>• أن الأرض هي محور الكون وأن الشمس والقمر والكواكب الأخرى تدور حول الأرض .</li></ul>	<ul style="list-style-type: none"><li>• أن الشمس هي محور الكون وأن الكواكب الأخرى بما فيها الأرض تسير في مدارات حول الشمس .</li></ul>

ج - دلل على صحة العبارة التالية :-

ص ٦٩

$3 = 1 \times 3$

١- أن الثورة الصناعية أحدثت تغييرا سياسيا في قارة أوروبا .

- سيطرة الطبقة الرأسمالية على مقاليد السلطة السياسية في أوروبا .
- التسابق الاستعماري حول المستعمرات لجلب المواد الخام منها وجعلها أسواقا للإنتاج الصناعي .
- ظهور الأحزاب السياسية المدافعة عن حقوق العمال .





السؤال الثالث ( اختياري ) يتكون من ( أ - ب - ج ) :-

ص ٥٠

أ - أكتب فقرة مترابطة من ثلاثة أسطر مستعينا بالكلمات التالية :-

(( الإستعمار الأوروبي - الحضارة الأوروبية - الإرساليات التبشيرية - المستشرقون )) درجتان

تعددت عوامل قيام الإستعمار الأوروبي حيث ادعت الدول الأوروبية ان من واجبها نقل الحضارة الأوروبية للشعوب المتخلفة لترفع من مستواها الاجتماعي والفكري والاقتصادي فكانت تبشر الدين المسيحي عن طريق الإرساليات التبشيرية وقام المستشرقون بتثويه صورة الاسلام الحقيقية . أي اجابة يراها المصحح مناسبة

ب - فرق حسب الجدول التالي :- درجة لكل جانب

عوامل انهيار الإمبراطورية الهولندية ص ٥٥	عوامل انهيار الإمبراطورية البرتغالية في الشرق ص ٥٣
<ul style="list-style-type: none"> <li>• الهولنديون امة صغيرة غير قادرة على حماية الامبراطورية التي تم تأسيسها بشكل كبير تجاوز حدود امكاناتهم .</li> <li>• كان اعتمادهم الاول على التجارة مما أدى لاهمال قطاعي الزراعة والصناعة .</li> <li>• سياستهم الاستبدادية في المستعمرات .</li> <li>• منافسة الدول الأوروبية الجديدة لها مثل انجلترا وفرنسا .</li> </ul>	<ul style="list-style-type: none"> <li>• سوء ادارة المستعمرات وانتشار الرشوة .</li> <li>• قسوة البرتغاليين في معاملة السكان الاصليين واجبارهم على اعتناق المسيحية .</li> <li>• السلطة كانت في يد نائب الملك في جوا وهو المسؤول امام الملك دون رقابة ولقصر مدة حكمه كان يقوم بابتزاز الاموال وعدم الاعتناء بالمستعمرة .</li> <li>• منافسة الهولنديين والانجليز للبرتغاليين في مجال الاستعمار .</li> <li>• فقدت البرتغال استقلالها كدولة وضمت للناج الاسباني في عهد الملك فيليب الثاني عام ١٥٨٠م ولمدة ٦٠ عاما .</li> </ul>
نتائج رحلة كولومبس الثانية ص ٣٤	نتائج رحلة كولومبس الأولى ص ٣٢
<ul style="list-style-type: none"> <li>• اكتشف جزر الدومينيكا وسانت كروز وبورتوريكو</li> <li>• أبحر الى الساحل الجنوبي لكوبا واكتشف الساحل الشمالي لجاميكا .</li> </ul>	<ul style="list-style-type: none"> <li>• اكتشف جزر الانتيل الكبرى والصغرى واطلق عليها اسم سان سلفادور .</li> <li>• وصل الى كوبا وابحر الى جزيرة هايتي .</li> </ul>

ج - ماذا يحدث لو لم :-

١ - اخترع حنا جوتنبرج أحرف الطباعة المعدنية . يكتفى بنقطتين لكل نقطة درجة المجموع درجتان ص ١٥

• قلة انتشار الكتب

• صعوبة تداول الكتب

• صعوبة طباعة الكتب

• ضعف انتشار جهود النهضة في مختلف اسواق

أي اجابة يراها المصحح مناسبة

ص ٦٧

١



السؤال الخامس ( اختياري ) يتكون من ( أ - ب - ج ) :-

أ - أقرأ الفقرة التالية ثم نفذ المطلوب :-

" اتبعت الدول الإستعمارية أساليب شتى ومتنوعة خلال سيطرتها على الشعوب الأخرى ، حيث هدف الإستعمار لإقامة المحطات التجارية والقواعد العسكرية . وكان لكل أسلوب خصائص خاصة به ، ومع تعدد تلك الخصائص تعددت أشكال الإستعمار . "

- ١- عرف الإستعمار .  
درجة ١ ص ٤٩
- الإستعمار هو أن تسيطر دولة ما بالاتفاقيات السياسية أو القوة العسكرية أو الاقتصادية على دولة أو عدة دول وتستغل مواردها وثرواتها لصالحها
  - سيطرة دولة قوية على أخرى ضعيفة بهدف استغلال مواردها

٢- عدد أشكال الإستعمار .  
اربع نقاط بدرجتان ص ٥١

- الغزو العسكرى وهو الاحتلال بالقوة .
- الاستيطان وهو تملك سكان دول قوية لاراضى شعب ضعيف بالقوة .
- المعاهدات والاتفاقيات الخاصة .
- التفويض من المنظمات الدولية (الانتداب - الوصاية ) .
- التمييز العنصرى وهو أسلوب استعمارى قائم على التفرقة بين الناس بسبب اللون أو الجنس أو الدين .

ب - فند العبارة التالية :-

١- أهملت النهضة الأوروبية دراسة الإنسان .  
درجتان ص ١٧

• اهتمت أوروبا في عصر النهضة بدراسة الانسان كمحور للحياة وظهر ذلك من خلال تعبير ادباء النهضة وشعرائها (دانتي -بترارك - بكاشيو- ارازموس) واصبح الانسان المحور الرئيسى الذى تدور حولة الاعمال الفنية لتعبر عن قدراته وتقدمه فى صورة جميلة مشرقة محبا للحياة قادرا على العطاء والانتاج فى شتى مجالات الحياة لتخليصه من القيود التى كبلت فكره وحطت من مكانته خلال العصور الوسطى

ج - علل لكل مما يلي :-

١- قيام حركة الإصلاح الدينى في أوروبا .  
٢=١×٢ ص ٢٠

- جهود الحركة الانسانية في التنبيه لأهمية اصلاح الكنيسة .
- الرغبة في تحرير حركة التقدم العلمى من قيود الكنيسة .
- اهتمام أوروبا بجوانب الحياة الدنيوية .
- ظهور كثير من المصلحين الذين نادوا بتخليص الكنيسة من مفاسدها .



ص ٦٢

٢=١×٢

٢- إنجلترا هي القاعدة التي انطلقت منها الثورة الصناعية .

- الاستقرار الداخلي : أدى نجاح الثورة المجيدة التي قامت في إنجلترا ١٦٨٩م الى وجود الدستور الانجليزي ونظام الحكم البرلماني الذي اعتبر نموذجا تسعى اليه الدول الاوروبية مما جعل بريطانيا تشهد استقرارا سياسيا مهد لنجاح الازدهار الاقتصادي .
- وفرة رأس المال : كان للكشوف الجغرافية دور بارز في جعل إنجلترا مركزا ماليا كبيرا حيث أصبحت المصارف الانجليزية في لندن تتحكم في تجارة العالم وبالتالي أصبحت تمتلك ثروات مالية كبيرة مما سهل لها تمويل عمليات الصناعات بأشكالها المختلفة .
- سهولة الحصول على المواد الخام : أدى اتساع المستعمرات البريطانية الى سهولة حصول إنجلترا على المواد الخام اللازمة للصناعة .
- وجود القوى المحركة : توفرت لإنجلترا مصادر القوى المحركة التي تمثلت في المساقط المائية والفحم الأيدي العاملة الرخيصة : ساهمت في تشغيل المصانع بتكلفة بسيطة مما ساعد على استخدام رأس المال في تغطية النفقات الأخرى للصناعة .
- تشجيع العلماء والمخترعين : حرصت الحكومة الانجليزية وأصحاب رؤوس الأموال على دعم جهود العلماء والمخترعين وتوفير الامكانيات اللازمة لهم لاتمام اختراعاتهم وابتكاراتهم .
- وجود أسطول تجاري كبير : سهل لإنجلترا عملية نقل المواد الخام الى مصانعها واعادة تصديرها في شكل صناعات الى اسواق العالم .



انتهت الأسئلة ...،،،،،

تمنياتنا لكم بالنجاح والتوفيق ...،،،،،

( الاسئلة في ٧ صفحات )

امتحان نهاية الفترة الدراسية الثانية


للفصل الثاني عشر / أدبي للعام ٢٠١٣ / ٢٠١٤ م

المجال الدراسي : تاريخ العالم الحديث والمعاصر

السؤال الأول اجباري و يتكون من ( أ- ب - ج- د ) :-

أ- اختر البديل الصحيح من بين البدائل التي تلي كل عبارة مما يلي :-

١ - الفترة الزمنية للعصور الوسطى يمثلها علي المخطط الزمني الحرف:



٢- نتيجة سياسية ترتبت على الثورة الصناعية:-

أ- ظهور الصراع الطبقي

ب- زيادة الانتاج

ج- ظهور المراكز الصناعية

د- سيطرة الطبقة الرأسمالية

٣- الاحرف الدالة على مركزين من مراكز انتقال الحضارة

الاسلامية الى اوربا في الخريطة التي أمامك :-

( أ، ب )

( ب، ج )

( أ، د )

( ج، د )

٤- العالم الألماني الذي اخترع أحرف الطباعة المعدنية:-

أ- ديملر وبنز

ب- حناجوتنبرج

ج- توماس نيوكمان

د- هنري بسمارك

٥- الملاح الذي تمكن من الوصول الى القطب الشمالي :

أ- جون كابوت

ب- مارتن فروبشير

ج- روبرت بيرري

د- الكسندر ماكينزي

٦- العنصر الذي أسهم في الاستكشاف في مجال المس وبتدائه سير السكة الحديدية :-

أ- جيمس وات

ب- ستيفنسون

ج- ريتشارد اركرايت

د- جون كني



٧- المنطقة التي وصل إليها الأمير هنري الملاح يمثلها على الخريطة الحرف :-

( أ - ب - ج - د )

٨- أول شعب أوروبي قام بتأسيس امبراطورية استعمارية فيما وراء البحار :-

أ- الأسبان                      ب- البرتغال

ج- الإنجليز                      د- الفرنسيين

ب - انسب العبارات التالية حسب مايناسبها في الجدول المرفق بوضع الرقم المناسب :-

- ١- تحالف المدن الصغيره مما منحها القوة والاستقلال.
- ٢- لوحة فنية رسمها ليوناردو دافنشي.
- ٣- مدينة أسسها الملاح جاك كارتبييه في كندا .
- ٤- اسطول اسباني تحطم على يد الانجليز سنة ١٥٨٨م.
- ٥- سفن عملاقة تميزت بكبر حمولتها واستعمالها لعدد كبير من الاشرعة .
- ٦- الساحل الجنوبي لقارة افريقيا .

الأرمادا	رأس العواصف	كوبيك	كومونات	الجيوكندا	الكرافيل

ج- أكمل الفراغ في العبارات التالية :-

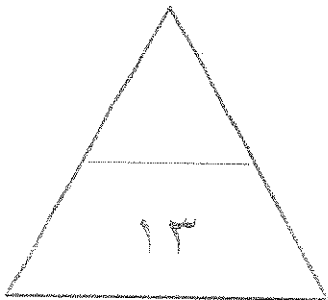
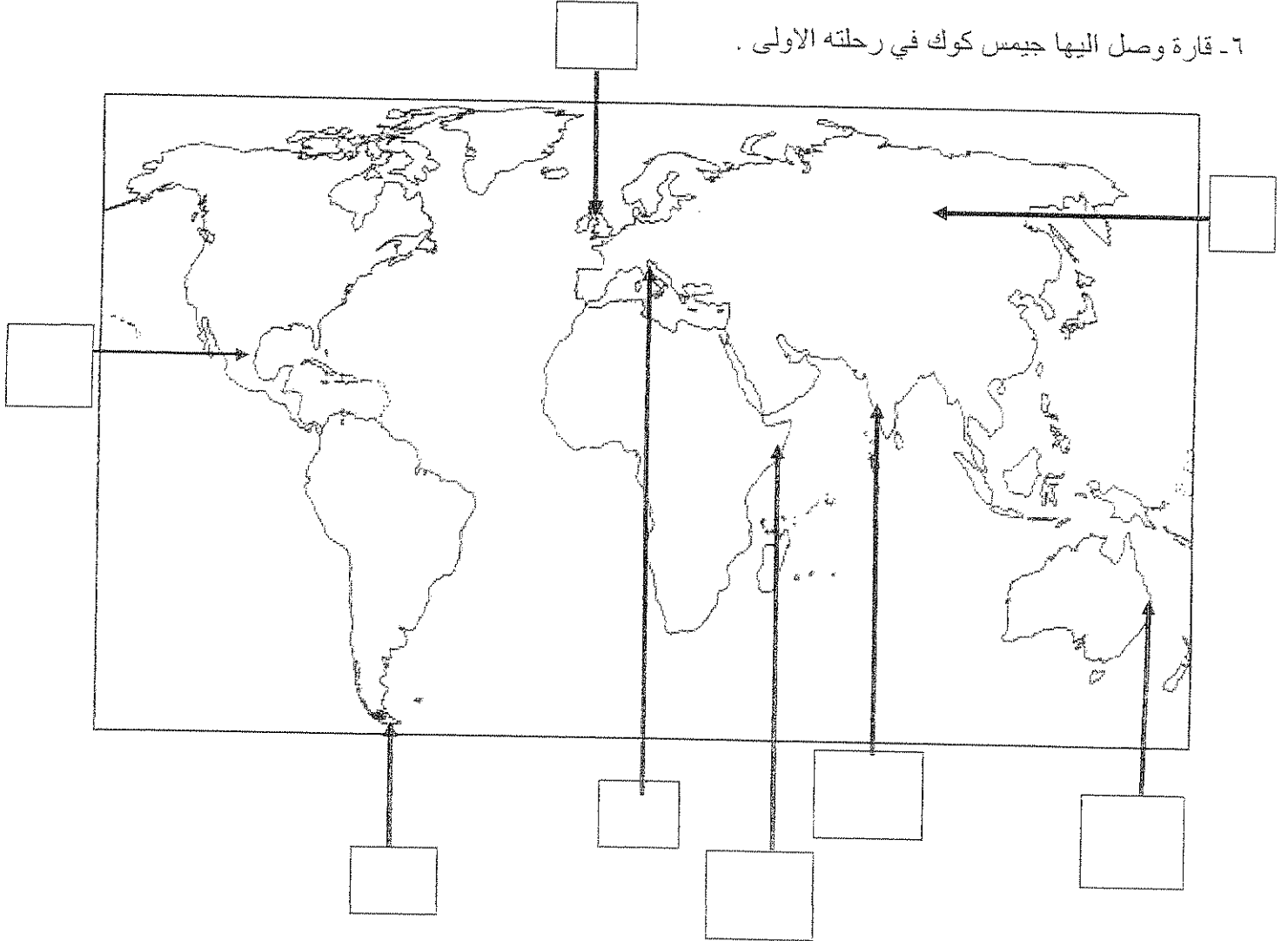
- ١- شاعر عربي تأثر به دانتي بتأليف رواية الكوميديا الإلهية اسمه-----.
- ٢- اسلوب استعماري قائم على التفرقة بين الناس بسبب الدين أو الجنس أو اللون يسمى-----.
- ٣- العام الذي احتلت فيه فرنسا الجزائر ----- م
- ٤- الملكة التي قدمت الدعم والتمويل لمشروع كريستوفر كولمبس اسمها-----.
- ٥- ~~العلم الذي اخترع المصباح الكهربائي اسمه-----~~
- ٦- عملية تغيير شامل في أدوات الإنتاج الصناعي ووسائله وحجمه ومستواه تسمى-----.

تابع / امتحان الفترة الدراسية الثانية للصف الثاني عشر الأدبي لمادة تاريخ العالم الحديث والمعاصر ٢٠١٣-٢٠١٤م

( ٨ × نصف = ٤ درجات )

د- أكتب رقم العبارة في المربع المناسب لها على الخريطة :

- ١- مركز انطلاق الثورة الصناعية .
- ٢ - منطقة تنافست عليها الدول الاستعمارية وتعتبر مصدرا للتوابل والمنتجات الشرقية .
- ٣- دولة احتلتها ايطاليا بنظام الوصاية .
- ٤ - منطقة وصل اليها الملاح امريكو فسبوتشي .
- ٥- مضيق وصل اليه الملاح ماجلان .
- ٦- قارة وصل اليها جيمس كوك في رحلته الاولى .



تابع / امتحان الفترة الدراسية الثانية للصف الثاني عشر الأدبي لمادة تاريخ العالم الحديث والمعاصر ٢٠١٣-٢٠١٤م

الأسئلة الاختيارية ( أجب عن ثلاثة أسئلة كاملة من كل مما يلي ) :-

السؤال الثاني :- يتكون من ( أ - ب - ج )

( أ ) ما تفسيرك لما يلي :-

١- سبق إيطاليا للأقاليم الأوروبية في حركة النهضة .

.....\*

.....\*

.....\*

٢- قيام حركة الإصلاح الديني في أوروبا.

.....\*

.....\*

.....\*

( ب- ) برهن على أن :-

١- الثورة الصناعية نتاج اجتماعية .

.....\*

.....\*

.....\*

٢- انهيار الإمبراطورية الأسبانية على الرغم من نشاطهم الاستعماري الواسع .

.....\*

.....\*

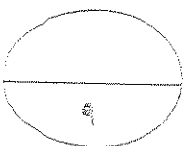
.....\*

( ج ) عرف كل مما يلي :-

١- ( استيطان )

٢- ( الإنسانيين )

٣- ( تجارة الرق )






تابع / امتحان الفترة الدراسية الثانية للصف الثاني عشر الأدبي لمادة تاريخ العالم الحديث والمعاصر ٢٠١٣-٢٠١٤م

السؤال الثالث :- يتكون من ( أ- ب- ج )

أ- اكتب النتائج التي تترتب على اختراع كل مما يلي :-



ب- امل على صحة العبارات التالية :-

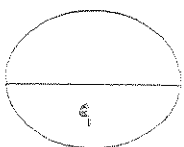
١- كان لظهور النظام الإقطاعي أثر واضح على المجتمع الأوروبي في العصور الوسطى.

٢- للكشوف الجغرافية نتائج اقتصادية .

ج- ما أوجه الاختلاف بين كل من :-

النظرية الفلكية لنيكولاس كوبرنيكس	النظرية الفلكية لبطليموس

الوصايه	الانتداب



تابع / امتحان الفترة الدراسية الثانية للصف الثاني عشر الأدبي لمادة تاريخ العالم الحديث والمعاصر ٢٠١٣-٢٠١٤م

السؤال الرابع:- يتكون من ( أ- ب- ج )

(أ) ما الدور الذي قامت به الشخصيات التالية:-

١- مارتن لوثر في حركة الإصلاح الديني .

.....\*

.....\*

.....\*

.....\*

٢- الأمير هنري ابن ملك البرتغال في قيام حركة الكشوف الجغرافية .

.....\*

.....\*

.....\*

.....\*

( ب ) فند بالأدلة التاريخية مايلي:

١- لم تمتلك إنجلترا أي من المقومات لقيام الثورة الصناعية .

.....\*

.....\*

.....\*

.....\*

٢- يختلف الدافع الديني للدول الأوروبية في الكشوف الجغرافية عنه في الحركة الاستعمارية .

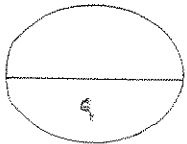
.....\*

.....\*

( ج ) ما أوجه الشبه بين كل من عوامل انهيار الامبراطورية الهولندية والامبراطورية البرتغالية.

.....\*

.....\*



السؤال الخامس :- يتكون من ( أ- ب- ج - )

( أ ) نفذ المطلوب بين القوسين :-

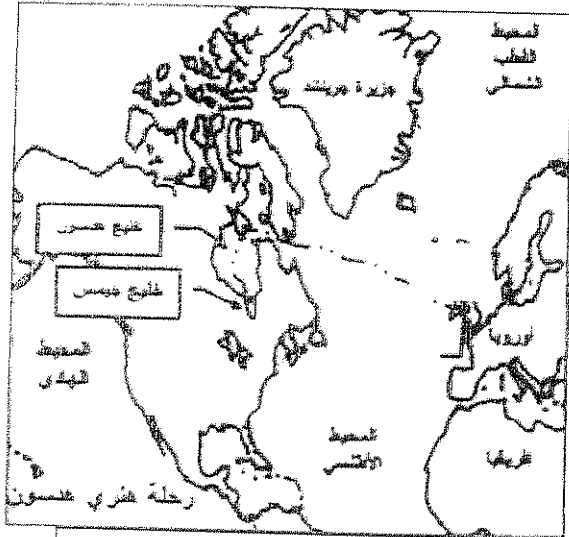
( العامل الاستراتيجي )

١- الاستعمار الاوروبي .

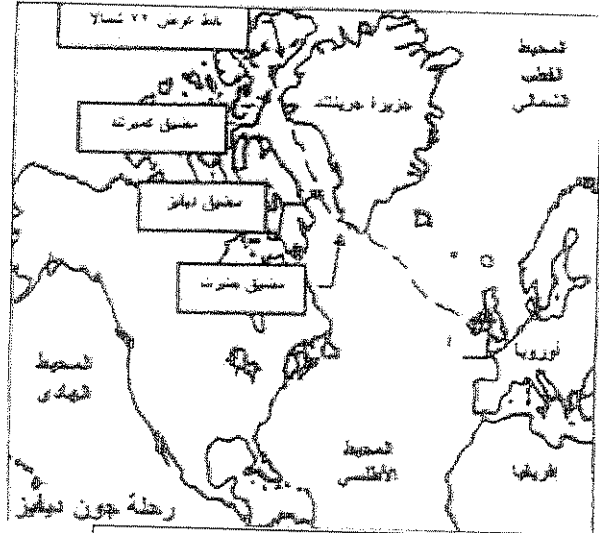
( جهود المفكرون في احياء الدراسات اليونانية القديمة )

٢- النهضة الاوروبية

ب- لاحظ خرائط الكشوف الجغرافية التالية واستخرج منها :-



الرحلة الكشفية ( ٢ )



الرحلة الكشفية ( ١ )

١- الدولة التي سيرت الرحلتين رقم ١ ورقم ٢

٢- اقصى نقطة وصل اليها الملاح جون ديفنز شمالا

٣- النتائج التي ترتبت على الرحلة الكشفية رقم (٢) \*

(ج) ما انجازات الشخصيات التالية :-

١- فاسكودي جاما من رحلاته الكشفية

انتهت الأسئلة ،،

( الاسئلة في ٧ صفحات )

امتحان نهاية الفترة الدراسية الثانية

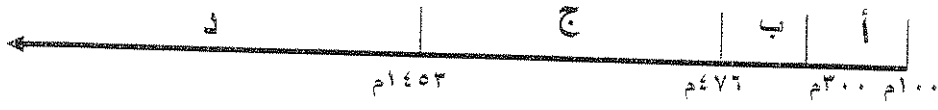
للفصل الثاني عشر / أدبي للعام ٢٠١٣ / ٢٠١٤ م

المجال الدراسي : تاريخ العالم الحديث والمعاصر

السؤال الأول اجباري و يتكون من ( أ- ب - ج- د ) :-

أ- اختر البديل الصحيح من بين البدائل التي تلي كل عبارة مما يلي :-

١ - الفترة الزمنية للعصور الوسطى يمثلها علي المخطط الزمني الحرف:



٢- نتيجة سياسية ترتبت على الثورة الصناعية:-

ب- زيادة الانتاج

أ- ظهور الصراع الطبقي

د- سيطرة الطبقة الرأسمالية

ج- ظهور المراكز الصناعية

٣- الاحرف الدالة على مركزين من مراكز انتقال الحضارة

الاسلامية الى اوربا في الخريطة التي أمامك :-

( ب ، ج )

( ا ، ب )

( د ، ا )

( ج ، د )

٤- العالم الألماني الذي اخترع أحرف الطباعة المعدنية:-

أ - ديملر وبنز

ج- توماس نيوكمان

٥- الملاح الذي تمكن من الوصول الى القطب الشمالي :

أ- جون كابوت

ج- روبرت بيرري

ب- مارتن فروبشير

د- الكسندر ماكيني

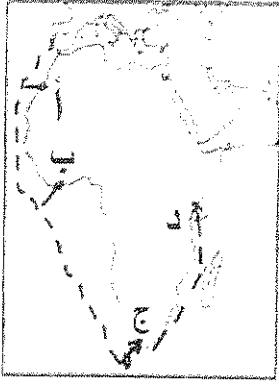
٦- العلم الذي ساهم في احداث تغيير في مجال النقل واداة سير المكوك الحديثة :-

د- جيمس وات

ب- جورج ستيفنسون

د- ريتشارد اركرايت

ج- جون كني



٧- المنطقة التي وصل إليها الأمير هنري الملاح يمثلها على الخريطة الحرف :-

( أ - ب - ج - د )

٨- أول شعب أوروبي قام بتأسيس امبراطورية استعمارية فيما وراء البحار:-

أ- الأسبان

ب- البرتغال

ج- الإنجليز

د- الفرنسيين

ب - انسب العبارات التالية حسب ما يناسبها في الجدول المرفق بوضع الرقم المناسب :-

- ١- تحالف المدن الصغيره مما منحها القوة والاستقلال.
- ٢- لوحة فنية رسمها ليوناردو دافنشي.
- ٣- مدينة أسسها الملاح جاك كارتيه في كندا .
- ٤- اسطول اسباني تحطم على يد الانجليز سنة ١٥٨٨م.
- ٥- سفن عملاقة تميزت بكبر حمولتها واستعمالها لعدد كبير من الاشرعة .
- ٦- الساحل الجنوبي لقارة افريقيا .

الأرمادا	رأس العواصف	كوبيك	كومونات	الجيوكندا	الكرافيل
٤	٦	٣	١	٢	٥

ج- أكمل الفراغ في العبارات التالية :-

- ١- شاعر عربي تأثر به دانتي بتأليف رواية الكوميديا الإلهية اسمه أبي العلاء المصنعي
- ٢- أسلوب استعماري قائم على التفرقة بين الناس بسبب الدين أو الجنس أو اللون يسمى التمييز العنصري
- ٣- العام الذي احتلت فيه فرنسا الجزائر ----- ١٨٣٠ م
- ٤- الملكة التي قدمت الدعم والتمويل لمشروع كريستوفر كولمبس اسمها إيزابلا
- ٥- العلم الذي اخترع المصباح الكهربائي اسمه توماس أديسون
- ٦- عملية تغيير شامل في أدوات الإنتاج الصناعي ووسائله وحجمه ومستواه تسمى الثورة الصناعية

تابع / امتحان الفترة الدراسية الثانية للصف الثاني عشر الأدبي لمادة تاريخ العالم الحديث والمعاصر ٢٠١٣-٢٠١٤م

(٨ × نصف = ٤ درجات)

١- أكتب رقم العبارة في المربع المناسب لها على الخريطة :

١- مركز انطلاق الثورة الصناعية .

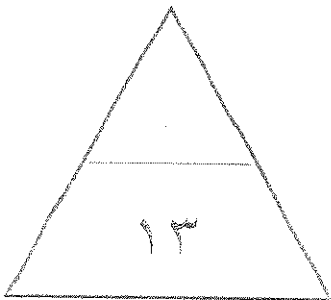
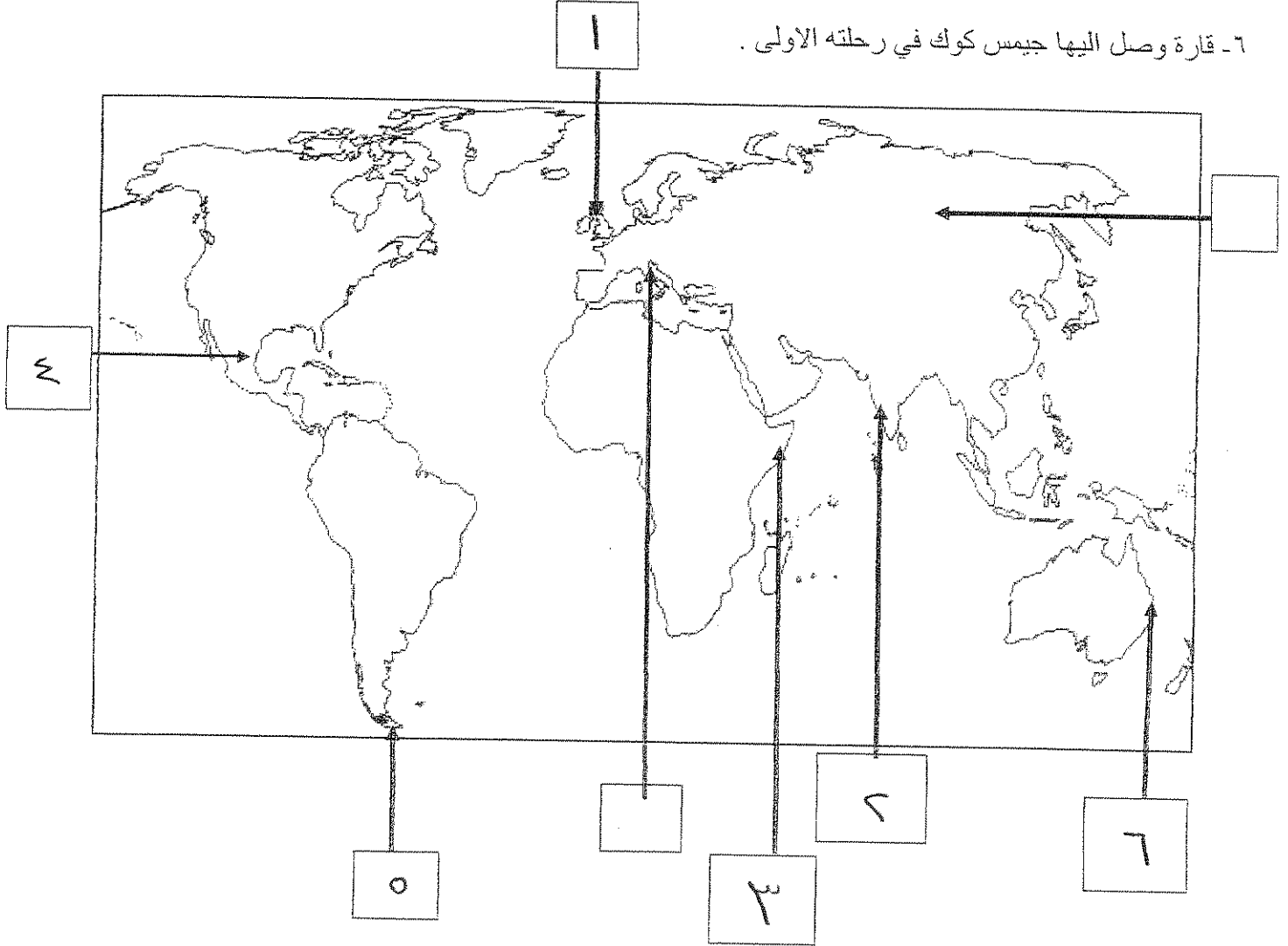
٢ - منطقة تنافست عليها الدول الاستعمارية وتعتبر مصدرا للتوابل والمنتجات الشرقية .

٣- دولة احتلتها إيطاليا بنظام الوصاية .

٤ - منطقة وصل اليها الملاح امريكو فسبوتشي .

٥- مضيق وصل اليه الملاح ماجلان .

٦- قارة وصل اليها جيمس كوك في رحلته الاولى .



تابع / امتحان الفترة الدراسية الثانية للصف الثاني عشر الأدبي لمادة تاريخ العالم الحديث والمعاصر ٢٠١٣-٢٠١٤م

الأسئلة الاختيارية ( أجب عن ثلاثة أسئلة كاملة من كل مما يلي ) :-

السؤال الثاني :- يتكون من ( أ - ب - ج )

أ) ما تفسيرك لما يلي :-

١- سبق إيطاليا للأقاليم الأوروبية في حركة النهضة .

\* وجود مركز البابوية

\* حلقة اتصال بين الشرق والغرب

\* ما من الإمبراطورية الرومانية العريقة

٢- قيام حركة الإصلاح الديني في أوروبا.

\* جهود حركة الإصلاح

\* الرغبة في تحرير حركة التقدم العلم من عبور الكنيسة

\* اهتمام أوروبا بحواضن الحياة الدينية

\* ظهور الكثير من المصلحين

ب- ) برهن على أن :-

١- الثورة الصناعية نتاج اجتماعية .

\* زيادة الكفاءات في أوروبا وارتفاع مستوى المعيشة

\* ظهور الصراع الطبقي

\* انتشار الآراء الاشتراكية المضادة للراسمالية

٢- انهيار الإمبراطورية الأسبانية على الرغم من نشاطهم الاستعماري الواسع .

\* استبدال الأسبان والمعاملة السيئة للشعوب الأصلية

\* تفلال المقومات لممالك إسبانيا والممالك


\* تحطم الأسطول الإسباني في الأرصاد

ج) عرف كل مما يلي :-

١- ( استيطان ) هجرة مجموعة من سكان دولة أجنبية حوثة إلى دولة ضعيفة

٢- ( الإنسانيين ) الذين عبروا عن كتاباتهم الأدبية عن صورة الإنسان الذي يتصف بالبرا

٣- ( تجارة الرق ) عملية بيع وشراء العبيد



السؤال الثالث :- يتكون من (أ-ب-ج)

أ- اكتب النتائج التي قرئت على اختراع كل مما يلي :-

المحرك البخاري

القطار البخاري

ب- اشرح صحة العبارات التالية :-

١- كان لظهور النظام الاقطاعي أثر واضح على المجتمع الاوروبي في العصور الوسطى.

تقسيم المجتمع الاوروبي الى مجتمع طبقة كان على قمته رجال الكنيسة

والاوقلاميين والنبلاء والفرسان وفي اسفله كانت طبقة عبيد الارمن

٢- للكشوف الجغرافية نتائج اقتصادية .

\* تحول طرق التجارة العالمية بين اوروبا وآسيا

\* تدفق الثروات من البضائع ومن المعادن الثمينة على اوروبا

\* ازدياد النشاط التجاري والاقتصادي

\* ظهور البورصات العالمية على شكلها الحالي

ج- ما اوجه الاختلاف بين كل من :-

النظرية الفلكية لنيكولاس كوبرنيكس	النظرية الفلكية لبطليموس
أنت الشمس هي محور الكون وأنت الكواكب الاخرى يدور حولها	أنت الارض هي محور الكون وأنت الشمس والكواكب الاخرى تدور حول الارض

الانتداب	الوصاية
ظهر بعد الحرب العالمية الاولى عام ١٩١٩م حيث انتدبت الدول المنتصرة للدارة شؤون الاقطار التي تحكمها الدولة	ظهر بعد الحرب العالمية الثانية عام ١٩٤٥م حيث عرفت الدول التي كانت تحت النفوذ الالمانى والى ايطاليا واليابان تحت وصاية دولة من اقطار الامم المتحدة



السؤال الرابع:- يتكون من ( أ- ب- ج )

أ) ما الدور الذي قامت به الشخصيات التالية:-

١- مارتن لوثر في حركة الاصلاح الديني .

- \* قام بتعليق خمسين وتسعين حجة ضد أوضاع الكنيسة متأبررها
- \* عارضه فكرة هكوك الفرات
- \* عارضه الحجة الى روما - طالب بالاسماع بزواج رجال الدين
- \* طلب انتقام عدد الأديرة - رفض احتكار البابا لتفسير الكتاب المقدس

٢- الأمير هنري ابن ملك البرتغال في قيام حركة الكشوف الجغرافية .

- \* ابتداء دراسة بحرية
- \* أمنا مرصداً بحرياً
- \* جلب علماء الرياضيات ورسامي الخرائط والفلكيين من إيطاليا وصقلية
- \* استعان بالمسكن الذين كانت لهم دراية في البحال البحري

ب) فند بالأدلة التاريخية مايلي:

١- لم تمتلك إنجلترا أي من المقومات لقيام الثورة الصناعية .

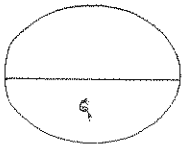
- \* كانت لدى إنجلترا العديد من المقومات التي ساعدت على قيام الثورة الصناعية من
- \* الاستقرار الداخلي / ووفرة رأس المال / سهولة الحصول على المواد الخام
- \* وجود القوى الحركية / الأيدي العاملة الوفيرة
- \* تشجيع العلماء والمخترعين / وجود أسطول تجاري كبير

٢- يختلف الدافع الديني للدول الأوروبية في الكشوف الجغرافية عنه في الحركة الاستعمارية .

يصفق الدافع الديني في كليهما فالهدف هو نشر الدين المسيحي وتكوين صورة الاسلام

ج) ما أوجه الشبه بين كل من عوامل انهيار الامبراطورية الهولندية والإمبراطورية البرتغالية.

- \* سياسة الاستبداد والعنوة في معاملة السكان الأصليين
- \* منافسة هولندا و إنجلترا للبرتغال ومناقنة إنجلترا فرنسا لهولندا



السؤال الخامس :- يتكون من ( أ- ب- ج - )

(أ) نفذ المطلوب بين القوسين :-

( العامل الاستراتيجي )

١- الاستعمار الأوروبي .

\* استغلال المواقع الاستراتيجية

\* حماية خطوط المواصلات البحرية

\* توفير خدمات للفت التجارية

٢- النهضة الأوروبية ( جهود المفكرين في احياء الدراسات اليونانية القديمة )

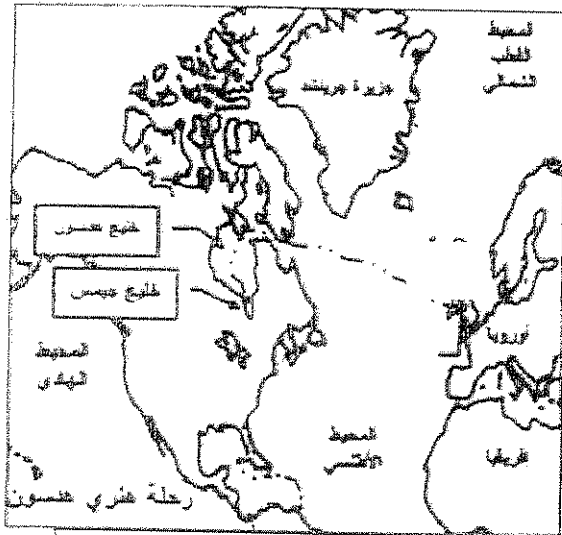
\* تبادل علماء القسم العلمية وابطال النظريات العلمية

\* تناقض الامراء والالبريار من ابناء الملكيات

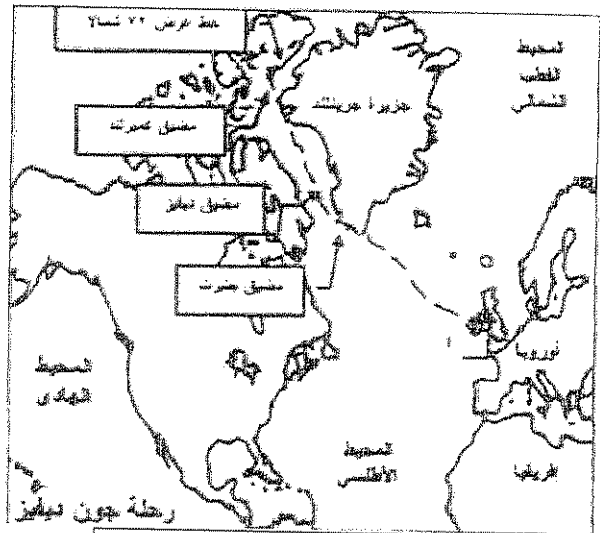
\* ظهور الأكاديميا العلمية في إيطاليا

\* اختراع حرف الطباعة المعدنية

ب- لاحظ خرائط الكشوف الجغرافية التالية واستخرج منها :-



الرحلة الكشفية ( ٢ )



الرحلة الكشفية ( ١ )

١- الدولة التي سيرت الرحلتين رقم ١ ورقم ٢ إنجلترا

٢- اقصى نقطة وصل اليها الملاح جون ديفنز شمالا دائرة عرض ٧ شمالاً

٣- النتائج التي ترتبت على الرحلة الكشفية رقم (٢) \* اكتشاف خليج هيرسون

\* اكتشاف خليج جيمس

\* نهر هيرسون ومدينة نيويورك

(ج) ما انجازات الشخصيات التالية :-

١- فاسكودي جاما من رحلته الكشفية

\* اول من استندخم رأس الرجاء الصالح في الوصول للهند

\* حقق أول المد المرتفalin في كنف طريق ميا شرق الهند خارج ديار الحكين

٢- الانجلون راجت في ظل الملك

\* ~~الملك اليبوس~~

انتهت الأسئلة ،،