

وزارة التربية  
التوجيه الفني العام للاجتماعيات

أسئلة مراجعة للصف الحادي عشر أدبي  
( مبادئ علم الجغرافيا )  
الفترة الدراسية الرابعة

## السؤال الأول : أكمل العبارات التالية بما يناسبها :

1. الحيز المكاني الذي توجد فيه الحياة والذي يسمح للكائنات بأشكالها المختلفة أن تعيش فيه يسمى.....
2. حيز مكاني من سطح الأرض فيه إشكال وأنواع معينة من الكائنات الحية بحيث تميزه عن غيره من الأقاليم الاخرى يسمى .....
3. أولي الإحياء علي سطح الأرض نشأت منذ حوالي 3000 مليون سنة تسمى .....
4. الكائنات البرية النشأة التي ليس للإنسان دخل فيها تسمى .....
5. أبسط الإحياء شكلا وتركيبا وأنشطها علي الإطلاق تسمى .....
6. الكائنات الحية المسؤولة عن تحلل الأجساد والأعضاء بعد الموت تسمى .....
7. النباتات التي تمتلك أوعية توصيل وجذور وسيقان تسمى .....
8. كائنات تعتبر مرحلة انتقالية من الطحالب التي تعيش في البيئة المائية وتعيش في البيئات الرطبة تسمى .....
9. حيوانات لها جسم يشبه الاسطوانة بة ثقب أو مسام عديدة يسمى .....
10. إقليم الغابات الحارة الاستوائية يوجد في أمريكا الجنوبية في حوض يسمى .....
11. إقليم الغابات الحارة الاستوائية يوجد في قارة إفريقيا في .....
12. إقليم يتميز بارتفاع درجة الحرارة وغزارة الأمطار طوال العام يسمى .....
13. غابات كثيفة متشابكة تحجب 40 % من الأشعة الضوئية تسمى .....
14. غابات تكثر فيها المستنقعات وتنتشر بها الأمراض والأوبئة تسمى .....
15. إقليم يضم أكثر من 100 ألف نوع من النباتات يسمى.....
16. تربة إقليم الغابات الحارة الاستوائية تعرف باسم تربة .....
17. يبلغ المتوسط السنوي لدرجة الحرارة لإقليم الغابات الحارة الموسمية .....
18. يسقط المطر في الغابات الحارة الموسمية في فصل يسمى.....
19. ذبابة افريقية ذات جناحين تسبب مرض النوم تسمى .....
20. تنمو السرخسيات والبامبو في إقليم يسمى .....

21. يعيش الكنغرو في قارة تسمى .....
22. توجد أضخم وأقدم شجرة علي وجه الأرض في منتزه يسمى .....
23. يسقط المطر في إقليم غابات البحر المتوسط في فصل .....
24. أشجار إقليم غابات البحر المتوسط ذات الأوراق العريضة الخضراء تسمى .....
25. تنمو في إقليم البحر المتوسط حشائش تسمى .....
26. أشجار دهنية الملمس توجد في إقليم البحر المتوسط تسمى .....
27. أشجار أبرية الشكل تنمو في إقليم غابات البحر المتوسط تسمى .....
28. أشجار تنمو في إقليم غابات البحر المتوسط تتميز بجذوعها ذات عقد كثيرة تسمى .....
29. نباتات عصارية في إقليم البحر المتوسط تحتفظ بالمياه داخلها تسمى .....
30. تبلغ درجة حرارة الصيف في إقليم الغابات المعتدلة الباردة أكثر من .....
31. الغابات الصنوبرية تسمى .....
32. نسبة الغابات الصنوبرية من المساحة الكلية لدولة السويد تبلغ % .....
33. نسبة الغابات الصنوبرية من المساحة الكلية لدولة فنلندا تبلغ % .....
34. توجد الحشائش الحارة الطويلة " السافانا " في قارة أمريكا الجنوبية في منطقة تسمى .....
35. تسقط أمطار إقليم السافانا في فصل يسمى .....
36. الحشائش المدارية الطويلة تسمى .....
37. الحشائش الكثيفة التي تعوق الرؤية تسمى .....
38. الحشائش المدارية الخشنة تسمى .....
39. أشجار معمرة السعة التخزينية في تجويفها 40 – 100 برميل للشجرة الواحدة تسمى .....
40. تنمو شجرة المسافرين في دولة تسمى .....
41. اكبر صحاري العالم تسمى .....
42. اكبر بحار العالم المغلقة بحر يسمى .....
43. أول افريقية حصلت علي جائزة نوبل للسلام عام 2004 م تسمى .....
44. دولة قامت بحظر استعمال مبيد الحشرات DDT لتأثيره السلبي علي الكائنات الحية تسمى ..
45. احد البحار المغلقة والذي تتعرض الكائنات الحية فيه لخطر الانقراض يسمى .....

46. دول لا يزال لحم الحيتان من المأكولات الشعبية فيها تسمى .....و.....
47. حيوان الليمور موطنه الأصلي في جزيرة تسمى .....
48. انشأت المحميات الطبيعية في عهد عمر بن الخطاب حيث انشأ محمية قرب المدينة تسمى...
49. مساحات من الأراضي وضعتها الدولة بقانون يكفل حماية المصادر الحيوية والتاريخية والأثرية والثقافية والترويجية تسمى .....

**السؤال الثاني : اختر الإجابة الصحيحة من بين البدائل التي تلي كل عبارة بوضع خط تحتها :**

- 1 - إقليم الغابات الحارة الاستوائية يمتد بين دائرتي عرض  
( 10 - 25 شمالا وجنوبا ) ( 5-5 شمالا وجنوبا ) ( 30 - 40 شمالا وجنوبا )  
( 40-60 شمالا وجنوبا )
- 2 - الطيور والقرود من أهم حيوانات إقليم يسمى  
( إقليم الغابات الحارة الموسمية - إقليم الغابات الحارة الاستوائية - إقليم الغابات المعتدلة  
الدفينة - إقليم الغابات المعتدلة الباردة )
- 3 - غابات البحر المتوسط من إقليم الغابات  
( إقليم الغابات الحارة الموسمية - إقليم الغابات الحارة الاستوائية - إقليم الغابات المعتدلة  
الدفينة - إقليم الغابات المعتدلة الباردة )
- 4 يبلغ طول افعي الاناكوندا حوالي  
( 8.5م : 10 م - 7.5م : 8 م - 5م 9م - 2م : 4م )
- 5 توجد الغابات الحارة الموسمية في  
( جنوب شرق آسيا - جنوب غرب آسيا - شمال غرب آسيا - شمال شرق آسيا )
- 6 توجد الغابات الحارة الموسمية في

7 - توجد الغابات الحارة الموسمية في قارة أفريقيا في السواحل (شمال استراليا - جنوب استراليا - شرق استراليا - غرب استراليا )

(الشرقية - الغربية - الشمالية - الجنوبية )

8 - يصل المدى السنوي للغابات الحارة الموسمية

(1.8م - 1.6م - 1.5م - 1.2م )

9 - متوسط ارتفاع الأشجار في الغابات الحارة الموسمية

(10 : 15م - 10 : 25م - 10 : 20م - 10 : 30م )

10 - الأشجار ذات الأهمية الاقتصادية الكبيرة في الغابات الحارة الموسمية هي

(الأبنوس والماهوجني - الساج والصنل - المطاط ونخيل الزيت - الوزال والغار)

11 - أشجار الصمغ في الغابات الحارة الموسمية

(الهشاب والطلح - الزيتون والخروب - السرو والعرعر - المطاط ونخيل الزيت)

12 - المدى الحراري الفصلي في إقليم الغابات الحارة الاستوائية

(20م - 37م - 40م - 32م )

13 - المتوسط الشهري لدرجة الحرارة في إقليم الغابات الحارة الاستوائية

(28م - 29م - 40م - 26.6م )

14 - يصل ارتفاع أشجار الغابات الحارة الاستوائية في الأجزاء المنخفضة المنسوب

(60م - 50م - 80م - 10م )

15 - الأخشاب الصلبة ذات القيمة الاقتصادية في الغابات الحارة الاستوائية

(السرخسيات - المطاط - الأبنوس - الكاكو )

16 - تتراوح كمية المطر في مناخ البحر المتوسط

(20 : 40 بوصة - 10 : 30 بوصة - 30 : 50 بوصة - 40 : 80 بوصة)

17 - تتراوح كمية المطر في إقليم غابات الصين

(10 : 30 بوصة - 20 : 50 بوصة - 30 : 60 بوصة - 30 : 50 بوصة)

18 - تتراوح كمية المطر السنوي في إقليم الغابات المعتدلة الباردة إلي

(30 : 60 بوصة - 30 : 50 بوصة - 30 : 40 بوصة - 30 : 70 بوصة)

19 - تتراوح كمية المطر السنوي في إقليم السافانا

(20 : 40 بوصة - 20 : 30 بوصة - 20 : 60 بوصة - 20 : 50 بوصة)

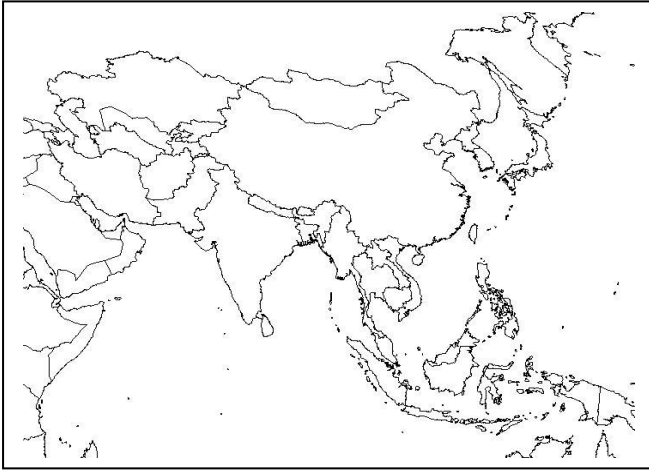
20 - تتراوح كمية المطر السنوي في إقليم الاستبس

(20 : 40 بوصة - 15 : 30 بوصة - 20 : 60 بوصة - 20 : 50 بوصة)

---

الترجيبة 2011

## نفذ ما هو مطلوب منك على خريطة آسيا الصماء



- 1 / حدد علي قارة آسيا إقليم الغابات الحارة الاستوائية بالرمز #####
- 2 / حدد علي قارة آسيا إقليم الغابات الحارة الموسمية بالرمز \*\*\*\*\*
- 3 / حدد علي قارة آسيا إقليم غابات الصين بالرمز &&&&&&
- 4 / حدد علي قارة آسيا إقليم الغابات المخروطية بالرمز ∑ ∑
- 5 / حدد علي قارة آسيا إقليم التندرا بالرمز ∞

## نفذ ما هو مطلوب منك على خريطة أفريقيا الصماء



- 1 / حدد علي قارة إفريقيا إقليم الغابات الحارة الاستوائية بالرمز #####
- 2 / حدد علي قارة إفريقيا إقليم الغابات الحارة الموسمية بالرمز \$\$\$\$\$\$
- 3 / حدد علي قارة إفريقيا إقليم السافانا بالرمز \*\*\*\*\*
- 4 / حدد علي قارة إفريقيا إقليم الصحاري الحارة بالرمز @@@

**اكتب المصطلح العلمي المناسب للعبارات التالية :-**

- 1- يقصد بالحيز المكاني الذي توجد فيه الحياة والذي يسمح للكائنات الحية بأشكالها المختلفة أن تعيش فيه اسم ( )
- 2- يقصد بالحيز المكاني من سطح الأرض فيه أشكال معينة من الكائنات الحية بحيث تميزه عن غيره من الأقاليم الأخرى في العالم باسم ( )
- 3- كائنات برية المنشأ ليس للإنسان دخل في وجودها تسمى ( )
- 4- أولى الأحياء التي نشأت على الأرض منذ 3000 مليون سنة تسمى ( )
- 5- نباتات تمتلك أوعية توصيل خشب وجذور وسيقان وأوراق حقيقية تسمى ( )
- 6- كائنات تعتبر مرحلة انتقالية من الطحالب تعيش في البيئة المائية كالنباتات البرية تسمى ( )
- 7- حيوانات لها جسم يشبه الاسطوانة بها ثقب ومسام تسمى ( )
- 8- غابات كثيفة متشابكة تحجب 40 % من الضوء تسمى ( )
- 9- أشجارا تتوج قمم الأشجار الغطاء النباتي في الغابة الاستوائية تسمى ( )
- 10 - نباتات تلتف أغصانها حول الأشجار الكبيرة الطويلة وتنمو إلى أعلى نحو الضوء تسمى ( )



- 11- تربة تتميز بفقرها الشديد ولونها الأحمر تسمى ( )
- 12- غابات تمتد على جانبي خط الاستواء بين دائرتي عرض 5 – 5 شمالا وجنوبا تسمى ( )
- 13 - أضخم ثعابين العالم واطورها يعصر فريسته حتى الموت يسمى ( )
- 14- ذبابة افريقية ذات جناحين تحمل حيوان طفيلي يسبب مرض النوم الافريقي تسمى ( )
- 15- تسمى الطفيليات التي تسبب مرض النوم الافريقي باسم ( )
- 16- حيوان ذو فراء يقفز على قدمية الخلفيتين يسمى ( )
- 17- ثدييات لها كيس أو جراب على البطن تضع فيه الوليد صغير الحجم جدا تسمى ( )
- 18- أضخم وأقدم شجرة على الارض تسمى ( )
- 19- حيوان ذو فراء لونه بني غامق وطويل وحريري موطنه الاصلي كندا وروسيا يسمى ( )
- 20- حيوان بني ورمادي ابيض وطويل وحريري موطنه مزارع امريكا الشمالية يسمى ( )
- 21- حيوان اسود وطويل وحريري موطنه الاصلي امريكا الشمالية يسمى ( )
- 22- غابات تتساقط أوراق اشجارها في موسم الشتاء تسمى ( )
- 23- غابات اوراقها طويلة رفعية شبيه بالابر تسمى ( )
- 24- الحشائش المدارية الخشنة طولها 1م تسمى ( )

- 25- قبائل سودانية ذات اصول عربية تمارس تربية الابل والضان تسمى ( )
- 26- أشجار معمرة يخزن في تجاويها مياة الامطار من 40 الى 100 برميل تسمى ( )
- 27- تربة تتميز بخصوبتها العالية ولونها الاسود وتجمدها السطحى باسم ( )
- 28- شجرة تنمو في مدغشقر تخزن ما يقرب من نصف لتر من الماء صالح للشرب تسمى ( )
- 29- اكثر الاشجار تحملا للظروف القاسية ومقاومة الجفاف والافات والعواصف تسمى ( )
- 30- حيوان يعيش في السهول المفتوحة لا يحتاج الى الشرب يسمى ( )
- 31- ترتفع الحرارة صيفا الى 50°م في اقليم يسمى ( )
- 32- نبات يشبه الشمعدان العملاق يخزن كميات كبيرة من المياة بجزوعه يسمى ( )
- 33- أكبر صحاري العالم وتبلغ 8 مليون كم مربع تسمى ( )
- 34- منطقة باردة خالية من الاشجار تحيط بالمحيط القطبي الشمال والارض متجمدة طول العام تسمى ( )
- 35- حيوان يتعرض للابادة نتيجة الصيد في الصحاري الباردة يسمى ( )
- 36- قبائل مرتحلة تمارس صيد الاسماك وتربية الرنه في شمال النرويج وفلندا والسويد تسمى ( )
- 37- حيوان يعتبر مصدر للحلوم والالبان والجلود في الصحاري الباردة يسمى ( )

- 38- عملية تبخر الماء عن طريق الاوراق الامر الذي يساعد على صعود العصارة من الارض خلال الجذور تسمى ( )
- 39- داعية لحماية البيئة الكينية تسلمت جائزة نوبل عام 2004 تسمى ( )
- 40 - مبيد حشري تسبب في قتل الصقور الجواله في الولايات المتحدة الامريكية يسمى ( )
- 41- أكبر البحار المغلقة مساحة وتعرضا للتلوث يسمى ( )
- 42- الصندوق الدولي لحماية الحيوان وصمم حملة ضد الصيد تعرف باسم ( )
- 43- حيوان موطنه الاصلى مدغشقر يعيش في الغابة الجافة يسمى ( )
- 44- مرض ينتقل من الدجاج الى الانسان عن طريق المخالط اللصيقة يسمى ( )
- 45- يطلق على زيادة اعداد الحيوانات في المراعي بشكل يفوق القدرة البيئة والبيولوجية للمرعى اسم ( )
- 46- رصيف حذر العلماء من انفصاله في القطب الجنوبي ووزنه 500 مليار يسمى ( )
- 47- اعصار وقع في اواخر عام 2005 في شبه جزيرة يوكاتان المكسيكية ودمر 40 كم من الشعاب المرجانية يسمى ( )
- 48- طبقة تحيط بالغلاف الجوي احاطه كاملة وتقوم بدور الدرع الواقى للارض من الاشعة فوق البنفسجية تسمى ( )

- 49- الطبقة السفلية من طبقات الجو واقربها الى الارض تسمى ( )
- 50- يطلق على عملية تراكم الغازات في طبقة التروبوسفير تعجز الانظمة البيئية التعامل معها تسمى ( )
- 51- مفاعل نووي اطلقه الاتحاد السوفيتي عام 1986 شمل 100 مليون وحدة اشعاعية يسمى ( )
- 52- مفاعل تسبب باصابة 800 اصابة بسرطان للاطفال يسمى ( )
- 53- منظمة تهدف الى تطوير اسس العلم لاستخدام وصيانة الغلاف الحيوي تسمى ( )
- 54- يطلق على صيانة ما تبقى من نباتات وحيوانات برية في اراضى الحكومات اسم ( )
- 55- منطقة تضم الانواع النباتية والحيوانية المهدة بالانقراض باسم ( )
- 56- محمية انشأها عمر بن الخطاب رضي الله عنه قرب المدينة تسمى ( )
- 58- اراضي عشبية تنتشر فيها اشجار متفرقة تسمى ( )
- 59- حشائش مدارية طويلة يتراوح طولها من 2-4 م تسمى ( )
- 60- حشائش طويلة كثيفة تعوق الرؤية ولا تظهر الطرقات تسمى ( )
- 61- منطقة فقيرة في الحياة النباتية والحيوانية نتيجة الظروف البيئية الطبيعية تسمى ( )

### صمم دائرة بيانية للنسب التالية :

- 1 -نسبة الغابات الصنوبرية من المساحة الكلية لدولة فنلندا
- 2 -نسبة الغابات الصنوبرية من المساحة الكلية لدولة السويد
- 3 -نسبة المطر السنوي في الغابات الحارة الاستوائية
- 4 -نسبة الأشعة الضوئية التي تحجبها غابات الدهاليز
- 5 - نسبة الحيوانات الثديية في الغابة الاستوائية

### صنف العبارات التالية في مكانها الصحيح :-

البكتيريا – الطحالب – الثدييات – النباتات الوعائية – المساميات – الفطريات – النباتات الحزازية

مملكة البدائيات	مملكة الطلائعيات	مملكة الفطريات	مملكة النباتات	مملكة الحيوانات

## أولاً : علل لما يأتي تعليلاً جغرافياً :

1- صعوبة استغلال الغابة الاستوائية .

2 – تقل كثافة أشجار الغابة الاستوائية بالاتجاه شمالاً وجنوباً .

3- نمو النباتات المتسلقة في الغابة الاستوائية .

4 – يطلق على الغابة الاستوائية غابة الدهاليز .

5- يطلق على الغابة الاستوائية اسم أشجار التاج .

6- كثرة البرك والمستنقعات في الغابة الاستوائية .

7- تعرف تربه الإقليم الاستوائي بتربة اللاتريت الحمراء .

8- أشجار إقليم غابات البحر المتوسط دائمة الخضرة .

9 – اختلاف اللون الأحمر لتربة إقليم الغابات المعتدلة الدفيئة .

10 – زيادة كمية الأمطار في الغابات المعتدلة الباردة في غرب القارات .

11- يطلق على الغابات النفضية غابات متساقطة الأوراق .

12 - يطلق على الغابات الصنوبرية الغابات الإبرية الأوراق حاملة المخاريط .

13 - يطلق على الغابات الصنوبرية غابات الأخشاب الرخوة .

14 - يستغل إقليم الحشائش الإستبس الجاف في عمليات الرعي .

15 - نمو النباتات الحولية في إقليم الصحارى البيضاء .

16 - يتميز إقليم الصحاري الباردة بفقرة الشديد في كائناته النباتية والحيوانية .

17 - أهمية الغطاء النباتي .

18 - ضرورة انشاء المناطق المحمية .

19 - القردة على رأس لائح الندييات المعرضة للانقراض .

**فرق بين كلاً مما يلي :**

النباتات الحزازية	النباتات الوعائية

نباتات إقليم البحر المتوسط	نباتات الإقليم الصيني

الغابات الصنوبرية ( المخروطية )	الغابات النفضية

شجرة المسافر	شجرة الأمبو الأرجنتينية

غابات الدهاليز	غابات التايجا

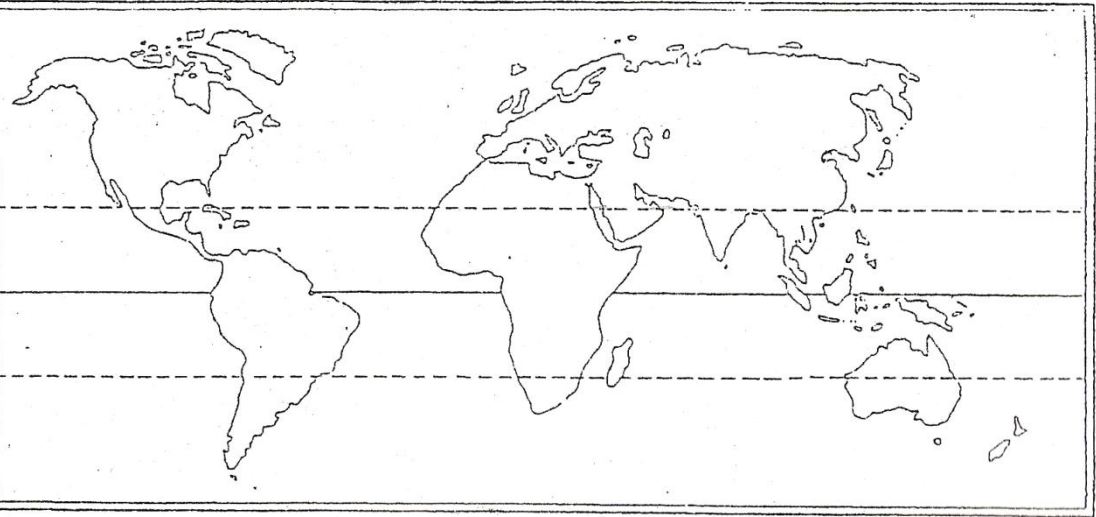
تعريف المحمية قديما	تعريف المحمية حديثا



**قارن بين كلا مما يلي :**

وجه المقارنة	إقليم الغابات الاستوائية	إقليم الغابات المعتدلة الدافئ
نوع التربة		
كيفية التكوين		

وجه المقارنة	إقليم الحشائش الحارة ( السافانا )	إقليم الحشائش المعتدلة ( الاستبس )
الموقع الجغرافي		
الحياة النباتية		
الحياة الحيوانية		

	<p>حدد موقع إقليم السافانا بالرمز *** * وإقليم الاستبس xxxxx</p>
--	--

إقليم الصحاري الحارة	إقليم الغابات الاستوائية	وجه المقارنة
		الحياة النباتية
		الحياة الحيوانية

**ميز بين كلا مما يأتي :**

السافانا القصيرة أو المكشوفة	السافانا المغلقة	السافانا الرطبة

الإستبس الجاف	الإستبس الغابي	الإستبس الحقيقي

محميات المحيط الحيوي	محميات المصادر الطبيعية	منتزة قومي

### دلل على صحة العبارات الآتية :

1- ((تشكل النباتات الوعائية الجزء الاكبر من المملكة النباتية بما هيأ لها الخالق سبحانه وتعالى من مميزات)).

---



---

2- ((أظهرت الدراسات حاجة الفيلة الماسة للسافانا توازي حاجة السافانا لها)).

---



---

3- (( تتعرض الغابات الاستوائية إلى عمليات تدمير واسعة)).

---



---

### ماذا يحدث لو :

1- ارتفعت درجة حرارة المناطق القطبية أكثر من المعدل الحالي بعشر درجات .

---



---

2- لم تتنوع الأقاليم الحيوية على سطح الأرض .

3- تقلص مساحة الغابات الاستوائية عما هي عليها الآن .

**\* سابقاً: ما المقصود بالمفاهيم التالية :**

1 – الكائنات البرية :

2- البكتيريا :

3- المسميات :

4- الأناكوندا :

5- ذبابة تسي تسي :

6- فن التخفي :

7- الكنغرو :

8 – التربة الكستنائية :

9- تربة التشرنوزم :

10 – الصحراء :

12 – الصحراء الكبرى :

13- التندرا :

14 – الأشنة :

- 15 - قبائل اللاب : -----
- 16- النتج:-----
- 17-IFAM:-----
- 18- حيوان الليمور:-----
- 19- أنفلونزا الطيور:-----
- 20- الرعي الجائر:-----
- 21- الاحتباس الحراري:-----
- 22- المحميات:-----

**اكتب مذكرات جغرافية عن :**

1- تربة اللاتريت الحمراء .

2- أشجار التبليدي :

3- مميزات الحياة النباتية لنباتات الصحراء الحارة .

اقترح حلولاً للحفاظ على البيئة الطبيعية الحيوية وصيانتها في العالم ( خاصة وطنك الكويت ) .

---

---

**عدد النتائج المترتبة على كلاً من :**

1- إزالة الغابات وحرقتها .

---

---

2- استخدام المبيدات الحشرية بشكل كبير .

---

---

3- التغيرات المناخية .

---

---

اقرأ الفقرة التالية ثم اجب عن الاسئلة التي تليها :

(( هناك العديد من الكائنات البرية مهددة بالانقراض بسبب حاجات الناس الذين يجدون فيها مصدر شفاء أو طعاماً مترفاً ))  
( أ ) اذكر ثلاثة من الحيوانات مهددة بخطر الانقراض .

( ب ) اضرب أمثلة لحيوانات برية ذات فائدة للإنسان .

( ج ) عدد اثنين من المؤسسات أو الجماعات المناهضة للصيد المفرط للكائنات البرية .

لاحظ الصورة المرفقة جيداً ثم اجب عن الاسئلة التي تليها :



- الصورة تمثل مفاعل انفجر عام 1986 م  
يسمى \_\_\_\_\_

- عدد النتائج المترتبة على انفجار هذا المفاعل النووي .

انظر الرسم الذي أمامك جيدا ثم اجب عن الاسئلة التي تليه:

1- الحرف ( ج ) يشير إلى منطقة تسمى -----

2- علل أهمية هذه الطبقة :

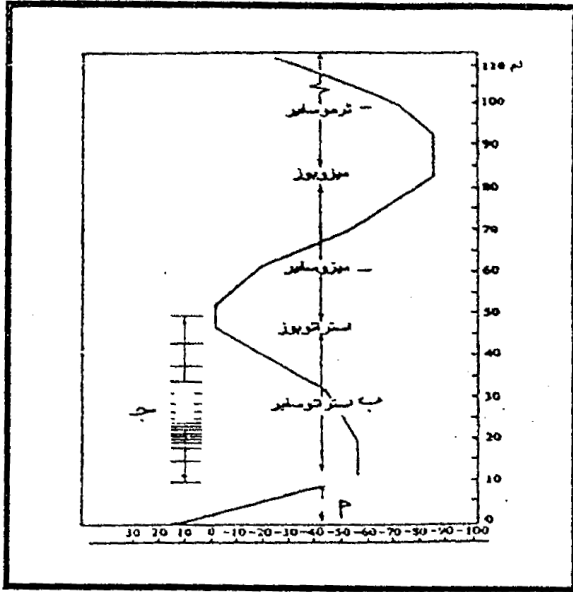
-----  
-----

3- اذكر المشكلة التي تتعرض لها هذه الطبقة .

-----  
-----

4- اقترح حولا للحفاظ عليها .

-----  
-----

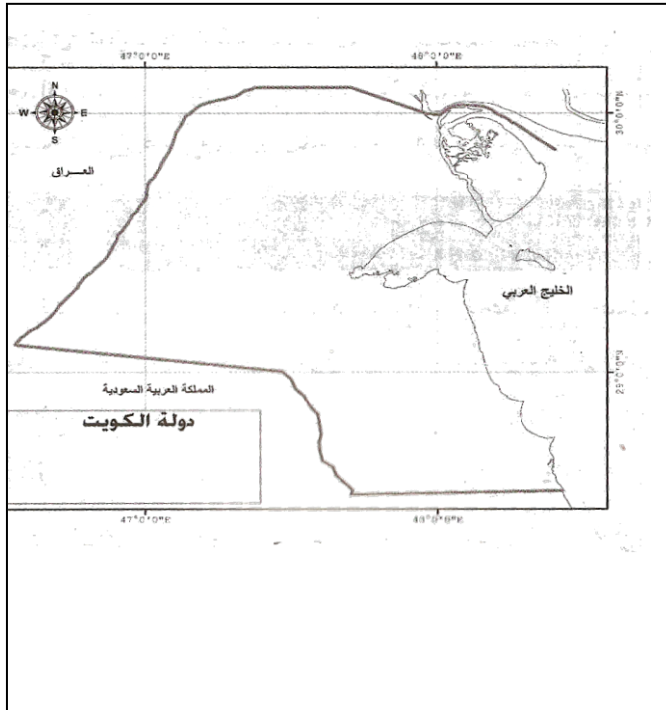


الريحية 2011



**اقرأ الفقرة التالية ثم اجب عن الاسئلة التالية :**

((تضم الكويت عدة محميات طبيعية برية وبحرية. وقد اشتمل برنامج عمل الحكومة للسنوات المقبلة على عدة برامج تدعم المنظومة البيئية في الكويت ومنها تطوير عمل المحميات الطبيعية عبر تدريب الكوادر البشرية في مجال إدارة المحميات وإنشاء قاعدة بيانات وطنية عن التنوع الاحيائي وصيانة المحميات وتشكيل لجنة وطنية تابعة للهيئة العامة للبيئة لإنشاء وإدارة المحميات الطبيعية))



1 حدد موقع محمية سمو الشيخ صباح الأحمد الطبيعية على الخريطة المقابلة .

2- اذكر الشروط الواجب توافرها في المناطق المحمية .

---

---

---

---

---

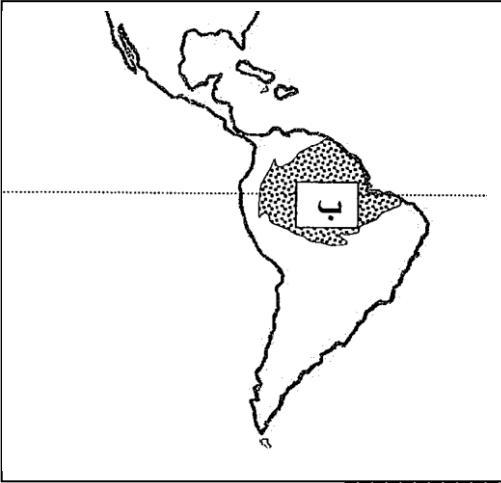
3 - عدد طرق المحافظة على المناطق المحمية .

---

---

---

أمامك خريطة لقارة أمريكا الجنوبية لاحظها بدقة ثم أجب عما يليها من أسئلة :



1- الحرف ( ب ) يمثل إقليم حيوي يسمى -----

2- اذكر اثنين من الخصائص النباتية لهذا الإقليم :

3- اذكر اثنين من الخصائص الحيوانية لهذا الإقليم:

4- في رأيك هل الإقليم يصلح لاستقرار السكان .

أجب عن الأسئلة الآتية :

\* عدد وسائل حماية وصيانة الغلاف الحيوي .

\* وضح دور المحميات الطبيعية في التنمية المستدامة .

\* صنف الكائنات الحية إلى الممالك الخمس .

---

---

\* عدد الخطوات المتابعة لإنشاء المحميات .

---

---

---

والله ولي التوفيق

بنوك المسئلة  
وزارة التربية  
2011